



امتحان رياضيات سنة الثانية الثلاثي الثاني

النقاط المُسْتَدَّة	الأنشطة	المعايير
0,5 0,5	<p>السند 1 :</p> <p>صاحبت أمي في رحلة للتسوق في مدينة الجم. بعد أن قطعت الحافلة مسافة 245 كم توقفت السائق للاستراحة، ثم واصلت الرحلة فقطعت الحافلة مسافة طولها يقل عن طول المسافة المقطوعة في المرة الأولى بـ 123 كم.</p> <p>التعليمة 1 :</p> <p>أحسب طول المسافة في المرة الثانية.</p> <p>طوّل المسافة المقطوعة في المرة الثانية.</p> <p>العملية :</p>	<p>معج <input type="checkbox"/></p> <p>مع1 <input type="checkbox"/></p>
0,5 0,5	<p>التعليمة 2 :</p> <p>أحسب طول المسافة الفاصلة بين مدينتي ومدينة الجم.</p> <p>طوّل المسافة الفاصلة بين مدينتي ومدينة الجم.</p> <p>العملية :</p>	<p>مع2 <input type="checkbox"/></p> <p>مع1 <input type="checkbox"/></p>
0,5 0,5	<p>السند 2 :</p> <p>نظراً لكثرة المشتركين فقد اقتصرت المسؤول على الرحلة حافلتين، امتطى الحافلة الأولى 67 مشاركاً، وركب الثانية 69 مشاركاً.</p> <p>التعليمة 3 :</p> <p>أحسب عدد كل المشاركين في الرحلة.</p> <p>عدّد كل المشاركين في الرحلة.</p> <p>العملية :</p>	<p>مع2 <input type="checkbox"/></p> <p>مع1 <input type="checkbox"/></p>

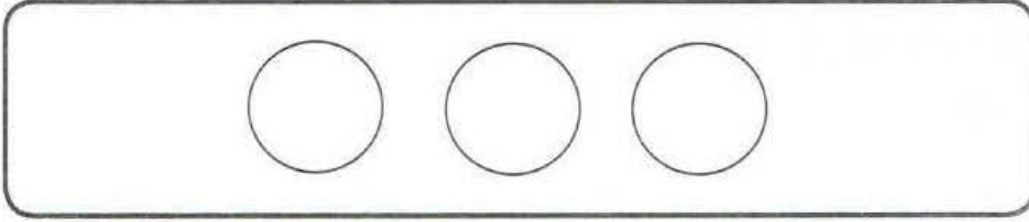
0.5	<p>السَّنَدُ 3 : صَنَّفَ الْمُشَارِكُونَ فِي الرَّحْلَةِ إِلَى نِسَاءٍ وَأَطْفَالٍ، عَدَدُ الْأَطْفَالِ 23. التَّعْلِيمَةُ 4 : - أَحْسَبُ عَدَدَ النِّسَاءِ الْمُشَارِكَاتِ فِي الرَّحْلَةِ. عَدَدُ النِّسَاءِ الْمُشَارِكَاتِ فِي الرَّحْلَةِ. الْعَمَلِيَّةُ :</p>	مع 2ج <input type="checkbox"/>
1	<p>السَّنَدُ 4 : دَفَعَتْ أُمِّي قِسْطَ الْمُشَارِكَةِ فِي الرَّحْلَةِ الْمُقَدَّرِ بِـ 42د، وَاشْتَرَتْ أَعْطِيَّةً وَسَتَائِرَ بِـ 287د وَأَوَانِي لِلطَّبْخِ بِأَقْلَ مِنْ تَمَنِّ الْأَعْطِيَّةِ وَالسَّتَائِرِ بِـ 135د. التَّعْلِيمَةُ 5 :- اِخْتَارُ السُّؤَالَ الْمُنَاسِبَ بِوَضْعِ الْعَلَامَةِ (x) أَمَامَهُ ثُمَّ أُجِيبُ.</p>	مع 5 <input type="checkbox"/> <input type="checkbox"/> <input type="checkbox"/>
0.5	<p>أَحْسَبُ تَمَنِّ شِرَاءِ الْأَعْطِيَّةِ. أَحْسَبُ تَمَنِّ شِرَاءِ السَّتَائِرِ. أَحْسَبُ تَمَنِّ شِرَاءِ أَوَانِي الطَّبْخِ.</p>	مع 2أ <input type="checkbox"/>
1	<p>الإِجَابَةُ اللَّفْظِيَّةُ : الْعَمَلِيَّةُ : التَّعْلِيمَةُ 6 :- أَرْتَبُ أَعْدَادَ الْعَمَلِيَّةِ تَصَاعُدِيًّا:</p>	مع 5 <input type="checkbox"/>
0.5	<p>التَّعْلِيمَةُ 7 :- أَحْسَبُ جُمْلَةَ الْمَصَارِيفِ. الإِجَابَةُ اللَّفْظِيَّةُ : الْعَمَلِيَّةُ :</p>	مع 2ب <input type="checkbox"/>
0.5	<p>التَّعْلِيمَةُ 8 :- أَرْتَبُ أَعْدَادَ الْعَمَلِيَّةِ تَنَازُلِيًّا. السَّنَدُ 5 : عَدَدُ الْأَعْطِيَّةِ الَّتِي اشْتَرَتْهَا أُمِّي 3 الْأَوَّلِ بِـ 123د، وَالثَّانِي بِـ 132د، وَالثَّلَاثُ بِـ 127د.</p>	مع 2أ <input type="checkbox"/>

0,5	التَّعْلِيمَةُ 9 : - أَرْتَبُ الْأَثْمَانَ حَسَبَ اخْتِيَارِي وَأَضَعُ الْعَلَامَةَ :	مع2أ <input type="checkbox"/>
0,5	السَّنَدُ 6 : أُنْشَأَ الرَّحْلَةَ تَعْدِيْنَا بِأَحَدِ الْمَطَاعِمِ، وَبَعْدَ أَنْ نَقَدْتُ أُمِّي صَاحِبَهُ الْمَالَ، أَعَادَ إِلَيْهَا الْقِطْعَ النَّقْدِيَّةَ التَّالِيَةَ :	
		
1	التَّعْلِيمَةُ 10 : - أَحْسَبُ الْمَبْلَغَ الَّذِي أَعَادَهُ صَاحِبُ الْمَطْعَمِ إِلَى أُمِّي. الْمَبْلَغُ الَّذِي أَعَادَهُ صَاحِبُ الْمَطْعَمِ إِلَى أُمِّي هُوَ	مع3 <input type="checkbox"/>
1	السَّنَدُ 7 : - أَعْطَيْتِي أُمِّي مِنْهُ 370 مِي اشْتَرَيْتُ بِهَا قِطْعَةَ سُكُولَاطَةٍ. التَّعْلِيمَةُ 11 : - أَكْمَلُ بِالْقِطْعِ النَّقْدِيَّةِ الْمُنَاسِبَةِ لِأَتَحَصَّلَ عَلَى 370 مِي. mourajaa.com	مع3 <input type="checkbox"/>
1		مع2ج <input type="checkbox"/>
0,5	التَّعْلِيمَةُ 12 : - أَحْسَبُ الْمَبْلَغَ الَّذِي تَبْقَى لِلْأُمِّ بَعْدَ شِرَاءِ قِطْعَةِ السُّكُولَاطَةِ. الْمَبْلَغُ الَّذِي تَبْقَى لِلْأُمِّ بَعْدَ شِرَاءِ قِطْعَةِ السُّكُولَاطَةِ. الْعَمَلِيَّةُ :	

التَّعْلِيمَةُ 13 :

أَمَثَلُ الْمَبْلَغِ الْمُتَبَقِّي بِالْقِطْعِ النَّقْدِيَّةِ الْمُنَاسِبَةِ.

1



3 معد

السَّنَدُ 8 :

فِي مَدْخَلِ مَدِينَةِ الْجَمِّ مُفْتَرَقُ طَرِيقٍ فِي طَوْرِ الْإِنِّشَاءِ مُتَكَوِّنٌ مِنْ أَشْكَالٍ مُخْتَلِفَةٍ.

0,5

0,5

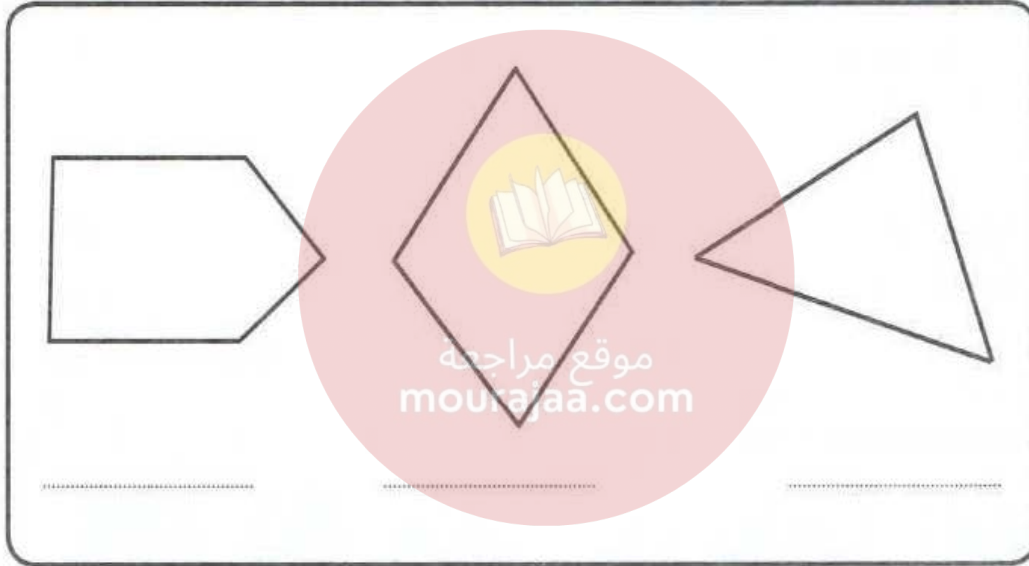
0,5

التَّعْلِيمَةُ 14 : أَدْكُرْ نَوْعَ كُلِّ شَكْلِ حَسَبَ عَدَدِ أَضْلَاعِهِ.

1

1

1



4 معد

جَدْوَلُ إِسْنَادِ الْأَعْدَادِ

مُسْتَوَاتُ التَّمَلُّكِ	مُعَايِيرُ الْحَدِّ الْأَدْنَى	مُعَايِيرُ التَّمَيُّزِ	مُعَايِيرُ الرِّيَاضِيَّاتِ	مُعَايِيرُ الْحِسَابِ الدَّهْنِيِّ	مُعَايِيرُ التَّمَلُّكِ									
					معد 1	معد 2 أ	معد 2 ب	معد 2 ج	معد 3	معد 4	معد 5	معد 6		
إِعْدَاةُ التَّمَلُّكِ	0	0	0	0	0	0	0	0	0	0	0	0	0	0
التَّمَلُّكُ دُونَ الْأَدْنَى	0,5	0,5	0,5	0,5	0,5	0,5	0,5	0,5	0,5	0,5	0,5	0,5	0,5	0,5
التَّمَلُّكُ الْأَدْنَى	1	1	1	1	1	1	1	1	1	1	1	1	1	1
التَّمَلُّكُ الْأَقْصَى	1,5	1,5	1,5	1,5	1,5	1,5	1,5	1,5	1,5	1,5	1,5	1,5	1,5	1,5