



أَحْسِبُ الْمَبْلَغَ الْمَالِيَّ فِي كُلِّ مَرَّةٍ.

مي _____	مي _____	مي _____	مي _____

أَشْطَبُ الْقِطْعَ النَّقْدِيَّةَ الزَّائِدَةَ.

	= 3 مي
	= 6 مي

أَرْبِطُ الْقِطْعَ النَّقْدِيَّةَ بِالْمَبْلَغِ الْمَالِيِّ الْمُنَاسِبِ.

5 مي	●	●	
4 مي	●	●	
3 مي	●	●	

أَكْمِلُ الْقِطْعَ النَّقْدِيَّةَ النَّاقِصَةَ.

	= 7 مي
	= 8 مي

1 مليم

1

2 1

5

الْقِطْعُ النَّقْدِيَّةُ

أَكْمِلْ تَعْمِيرَ الْجَدْوَلِ بِمَا يُنَاسِبُ.

				الْقِطْعُ النَّقْدِيَّةُ
مي .....	مي .....	مي .....	مي .....	المَبْلَغُ المَالِي

يَمْلِكُ نَجِيبُ

مي .....

تَمْلِكُ ذَكْرَى

مي .....

يَمْلِكُ صَفْوَانُ

مي .....



أَحْسِبُ المَبْلَغَ المَالِيَّ لِكُلِّ طِفْلِ.

موقع مراجعة  
mourajaa.com

أَرْتَبُ المَبَالِغَ تَصَاعُدِيًّا.

مي > مي > مي

أَلَوْنُ الخَانَةِ المُنَاسِبَةُ لِقِيَمَةِ القِطْعِ:

مي 5	مي 4	مي 2
------	------	------

مي 5	مي 0	مي 2
------	------	------

مي 5	مي 4	مي 2
------	------	------

1 مليم

1  
2  
5

الْقِطْعُ النَّقْدِيَّةُ



وَضَعْتُ دَلَالٌ فِي حَصَالَتِهَا بَعْضُ الْقِطْعِ النَّقْدِيَّةِ مِنْ فِئَةِ 1.

أَسَاعِدُ دَلَالٌ فِي حِسَابِ نَقُودِهَا وَأَكْتُبُ الْمِقْدَارَ الَّذِي وَجَدْتُهُ.

وَجَدْتُ دَلَالٌ فِي حَصَالَتِهَا ..... مِي

أَحْسِبُ

..... مِي = 1 + 1 + 1 + 1 + 1 + 1

..... مِي = 1 + 1 + 1 + 1

..... مِي = 1 + 1 + 1 + 1 + 1

..... مِي = 1 + 1 + 1

يَمْلِكُ رَبِيعٌ ..... مِي = 1 1 1  
لَيْشْتَرِي حَلْوَى بِ 7 مِي يَحْتَاجُ رَبِيعٌ إِلَى ..... مِي

أَمِثْلُ مَا يَحْتَاجُهُ رَبِيعٌ بِقِطْعٍ مِنْ فِئَةِ 1

.....



أَمِّثِلْ أَلْمَبَالِغَ أَلْمَالِيَّةَ أَلتَّالِيَةَ .

7 مِي =



3 مِي = 1 مِي =

9 مِي =

4 مِي = 2 مِي =

8 مِي =

أَلْوَنُ أَلْقِطْعِ أَلنَّقْدِيَّةِ لِأَحْصُلَ عَلى أَلْمَبْلَغِ أَلْمَكْتُوبِ دَاخِلِ أَللَّافِتَةِ .

		
4 مِي	8 مِي	6 مِي

يَمْلِكُ حَاتِمٌ 5 مِي = ..... مِي  
يَحْتَاجُ ..... مِي لِيُصْبِحَ لَهُ 9 مِي .

أَمِّثِلْ مَا يَحْتَاجُهُ حَاتِمٌ بِقِطْعٍ مِنْ فِئَةِ 1

مِلِّمَانِ

2

1  
2  
5

الْقِطْعُ النَّقْدِيَّةُ

أَحْسِبُ الْمَبْلَغَ الْمَالِيَّ فِي كُلِّ مَرَّةٍ.

2 2  
2

مي

1 2  
2 1

مي

1 1 1  
1 1 1

مي

2 1  
1 1 1

مي

أَشْطَبُ الْقِطْعَ النَّقْدِيَّةَ الزَّائِدَةَ.

2 2 2 2 2 2 2 = 8 مي

2 2 2 2 2 2 = 6 مي

أَرْبِطُ الْقِطْعَ النَّقْدِيَّةَ بِالْمَبْلَغِ الْمَالِيِّ الْمُنَاسِبِ.

8 مي ●

2 2 2 2

7 مي ●

1 1 2 2

6 مي ●

2 2 1 1 1

أَكْمِلُ الْقِطْعَ النَّقْدِيَّةَ النَّاقِصَةَ مُسْتَعْمِلًا فِتْنَةَ 2

1 1 1 1 1 = 9 مي

1 1 = 8 مي



أَكْمِلْ تَعْمِيرَ الْجَدْوَلِ بِمَا يُنَاسِبُ.

  	 	الْقِطْعُ النَّقْدِيَّةُ
مي .....	6 مي	المَبْلَغُ المَالِيُّ

يَمْلِكُ أَسْرُ



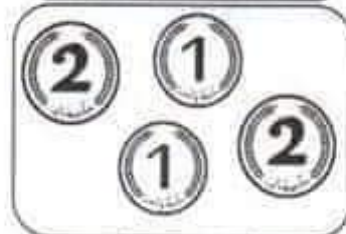
مي .....

تَمْلِكُ سَمْرُ



مي .....

يَمْلِكُ سَامِي



مي .....

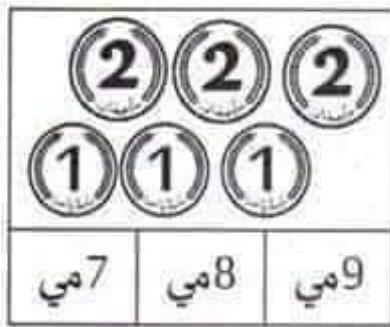
أَحْسِبُ المَبْلَغَ المَالِيَّ لِكُلِّ طِفْلِ.

موقع مراجعة  
mourajaa.com

أَرْتَبُ المَبَالِغَ تَنَازُلِيًّا.

مي < مي < مي

أَلَوْنُ الخَانَةِ المُنَاسِبَةَ لِقِيَمَةِ القِطْعِ :



مِلِيَان

2 1 5

الْقِطْعُ النَّقْدِيَّةُ

2

كَاهِنَةٌ فَتَاةٌ مَاهِرَةٌ وَتُحِبُّ الرِّيَاضَةَ دُونَ أَنْ تُهْمَلَ دِرَاسَتَهَا.  
وَفِي يَوْمٍ وَجَدَتْ وَهِيَ تَلْعَبُ 6 قِطْعَ نَقْدِيَّةٍ مِنْ فِئَتَيْنِ مُخْتَلِفَتَيْنِ.



2 1 2 1 2 1

أَسَاعِدُ كَاهِنَةً فِي حِسَابِ مَا وَجَدَتْ.

وَجَدَتْ كَاهِنَةً ..... مِي

أَمِثُلُ مَا وَجَدْتَهُ بِقِطْعٍ مِنْ فِئَةٍ وَاحِدَةٍ.



أَحْسِبْ

مِي ..... = 1 + 1 + 1 + 2 + 2 + 2

مِي ..... = 2 + 2 + 1 + 1 + 1 + 1

مِي ..... = 1 + 1 + 1 + 1 + 1 + 2

تَمَلِكُ فِرْدَوْسُ ..... مِي = 2 2 1  
أَعْطَتْهَا أُمَّهَا ..... مِي 2 2  
فَأَصْبَحَ لَدَيْهَا ..... مِي




أَمِثُلُ مَا أَصْبَحَ لَدَيْهَا بِطَرِيقَتَيْنِ مُخْتَلِفَتَيْنِ.



أَمِّثِلْ أَلْمَبَالِغَ أَلْمَالِيَّةَ أَلتَّالِيَةَ بِطُرُقٍ مُخْتَلِفَةٍ مُسْتَعِينًا بِأَلْمِثَالِ.

أَلوْنُ أَلْقِطْعِ أَلنَّقْدِيَّةِ لِأَخْصَلِ عَلى أَلْمَبْلَغِ أَلْمَكْتُوبِ دَاخِلِ أَلْأَفْتَةِ.

		
4 مي	7 مي	8 مي

يَمْلِكُ زَيْدٌ  = ..... مي  
يَحْتَاجُ ..... مي لِيُصْبِحَ لَهُ 8 مي.

أَمِّثِلْ مَا يَحْتَاجُهُ زَيْدٌ بِقِطْعِ نَقْدِيَّةٍ مِنْ فِئَتَيْنِ مُخْتَلِفَتَيْنِ.





أحسب المبلغ المالي في كل مرة.



مي



مي



مي



مي

أشطب القطع النقدية الزائدة.



أربط القطع النقدية بالمبلغ المالي المناسب.

8 مي ●



7 مي ●



9 مي ●

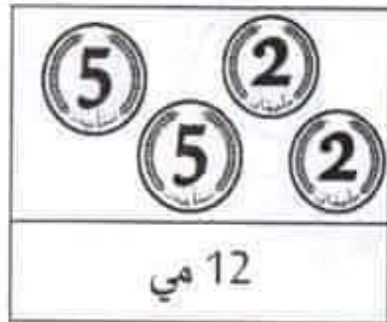
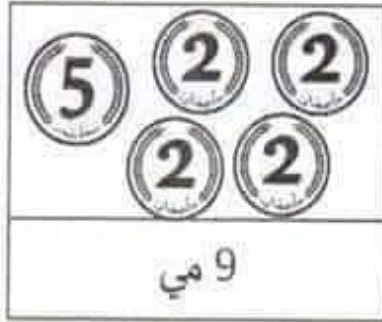
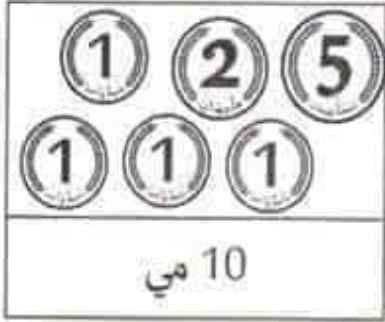


أكمل القطع النقدية الناقصة مستعملاً قطعاً من فئة واحدة.





أَوْنُ الْقِطْعِ النَّقْدِيَّةِ لِأَحْصُلَ عَلَى الْمَبْلَغِ الْمَكْتُوبِ دَاخِلَ الْآلِفَتَةِ.



أَمِّثِلِ الْمَبَالِغَ الْمَالِيَّةَ التَّالِيَةَ بِطَرِيقٍ مُخْتَلِفَةٍ.

	11 مي	
	10 مي	
	مبلغ 13 ليحه	
	12 مي	
	9 مي	

تَمْلِكُ أَمِيرَةٌ (5) (1) (1) (1) = ..... مِي  
تَحْتَاجُ ..... مِي لِيُصْبِحَ لَهَا 13 مِي.

أَمِّثِلُ مَا تَحْتَاجُهُ أَمِيرَةٌ بِطَرِيقَتَيْنِ.

--	--

5 مَلِيمَاتٍ

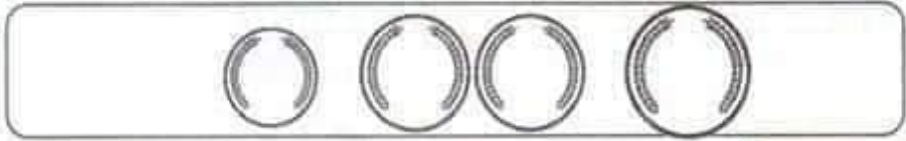


الْقِطْعُ النَّقْدِيَّةُ



أَرَادَ يُوسُفُ زِرَاعَةَ نَبْتَةِ فُؤْلِ. وَلَكِنْ لِشِرَاءِ أَصْبِصٍ  
يَنْقُصُهُ 10 مَلِيمَاتٍ.

أَمِثُلُ مَا يَنْقُصُ يُوسُفُ بِأَرْبَعَةِ قِطْعِ نَقْدِيَّةٍ.



أَحْسِبْ

..... مِي = ① + ⑤ + ⑤

..... مِي = ② + ② + ② + ② + ① + ①

..... مِي = ⑤ + ① + ① + ① + ① + ①

..... مِي = ② + ② + ② + ② + ① + ①

..... مِي = ⑤ + ① + ① + ① + ① + ①

يَمْلِكُ سَالِمٌ ⑤ ① ① مِي = ..... مِي  
لِيَشْتَرِيَ كُجَّةً بِـ 12 مِي يَحْتَاجُ سَالِمٌ إِلَى ..... مِي

أَمِثُلُ مَا يَحْتَاجُهُ سَالِمٌ بِقِطْعِ مِنْ فِئْتَيْنِ مُخْتَلِفَتَيْنِ.

5 مِلِّمَاتٍ

الْقِطْعُ النَّقْدِيَّةُ

أَكْمِلْ تَعْمِيرَ الْجَدُولِ بِمَا يُنَاسِبُ.

						الْقِطْعُ النَّقْدِيَّةُ
5 مي	مي .....	مي .....	مي .....	مي .....	مي .....	الْمَبْلَغُ الْمَالِيُّ

يَمْلِكُ لُؤْيُ

مي .....

تَمْلِكُ بَيْةٌ

مي .....

يَمْلِكُ خَالِدٌ

مي .....

أَحْسِبُ الْمَبْلَغَ الْمَالِيَّ لِكُلِّ طِفْلِ:

أَصْلِحُ الْخَطَأَ: تَمْلِكُ بَيْةٌ أَكْثَرَ مِنْ لُؤْيِ.

تَمْلِكُ بَيْةٌ ..... مِنْ لُؤْيٍ لِأَنَّ ..... > .....

الْوَنُ الْخَانَةَ الْمُنَاسِبَةَ لِقِيَمَةِ الْقِطْعِ:

7 مي	10 مي	9 مي
------	-------	------

8 مي	7 مي	6 مي
------	------	------

7 مي	9 مي	10 مي
------	------	-------



أَحْسِبُ الْمَبْلَغَ الْمَالِيَّ فِي كُلِّ مَرَّةٍ.



مي \_\_\_\_\_



مي \_\_\_\_\_



مي \_\_\_\_\_



مي \_\_\_\_\_

أَشْطِبُ الْقِطْعَ النَّقْدِيَّةَ الزَّائِدَةَ.



أَرْبِطُ الْقِطْعَ النَّقْدِيَّةَ بِالْمَبْلَغِ الْمَالِيِّ الْمُنَاسِبِ.



أَكْمِلُ الْقِطْعَ النَّقْدِيَّةَ النَّاقِصَةَ مُسْتَعْمِلًا قِطْعًا مِنْ فِئْتَيْنِ.



10 مَلِيَمَاتٍ

الْقِطْعُ النَّقْدِيَّةُ

تَمْلِكُ سِيرِينُ



مي.....

تَمْلِكُ مَرْوَى



مي.....

يَمْلِكُ أَحْمَدُ



مي.....

أَحْسَبُ الْمَبْلَغَ الْمَالِيَّ لِكُلِّ طِفْلِ ثُمَّ أَرْتَبُ مَا تَحَصَّلْتُ عَلَيْهِ تَنَازُلِيًّا.

مي..... < مي..... < مي.....

الْوَنُ الْخَانَةَ الْمُنَاسِبَةَ لِقِيَمَةِ الْقِطْعِ

	مي 17
مي 18	مي 19

	مي 11	مي 10	مي 12
--	-------	-------	-------

	مي 19	مي 17	مي 12
--	-------	-------	-------

أَحْسَبُ.

مي..... = + + +

مي..... = + + + + +

مي..... = + + + +

مي..... = + + + +

10 مِليماتٍ



الْقِطْعُ النَّقْدِيَّةُ



يَحْتَاجُ كُلُّ نَجَّارٍ فِي عَمَلِهِ إِلَى مَسَامِيرَ. لِذَلِكَ اشْتَرَى الْعَمُّ مُرَاد 10 مَسَامِيرَ بِ 40 مِليمًا.

أَمِثِلُ الْمَبْلَغِ الَّذِي أَنْفَقَهُ الْعَمُّ مُرَاد بِطَرِيقَتَيْنِ.

أَضَعُ عِلَامَةَ الْمُقَارَنَةِ الْمُنَاسِبَةَ > = <

+ + + ..... + +

+ + ..... + + +

+ + + ..... + +

+ + ..... + + +

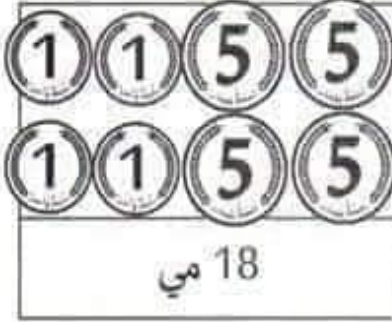
يَمْلِكُ فَارِسٌ = ..... مِ

أَعْطَتْهُ جَدَّتُهُ = ..... مِ

أَمِثِلُ مَا أَصْبَحَ يَمْلِكُهُ فَارِسٌ بِأَرْبَعِ قِطْعٍ.



أَوْنُ الْقِطْعِ النَّقْدِيَّةِ لِأَحْصُلَ عَلَى الْمَبْلَغِ الْمَكْتُوبِ دَاخِلَ الْأَفْتَةِ.



أَمِثِلُ الْمَبَالِغِ الْمَالِيَّةِ التَّالِيَةِ.

\_\_\_\_\_ = 26 مي

\_\_\_\_\_ = 31 مي

\_\_\_\_\_ = 40 مي

\_\_\_\_\_ = 17 مي

\_\_\_\_\_ = 38 مي

أَكْمِلْ تَعْمِيرَ الْجَدْوَلِ بِمَا يُنَاسِبُ.

						الْقِطْعُ النَّقْدِيَّةُ
مي .....	مي .....	15 مي	المَبْلَغُ الْمَالِيُّ			