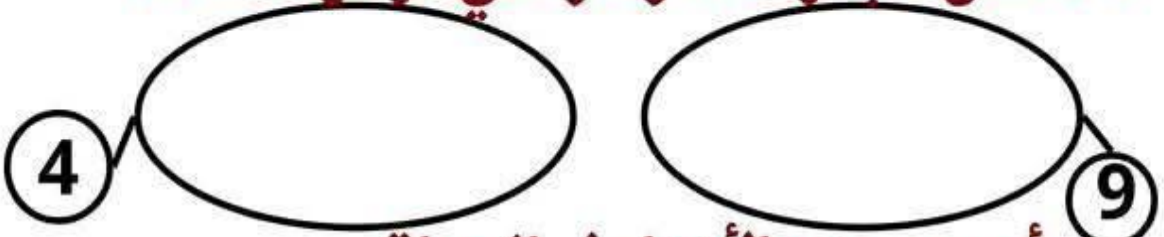


إختبار عدد

الرياضيات

السند1: بمناسبة عيد ميلاد أختها قطفت سناء 9 زهرات حمراء و 4 زهرات صفراء لتصنع باقة زهور لأختها.
1-1 أمثل مجموعة الأزهار التي كوّنتها سعاد.



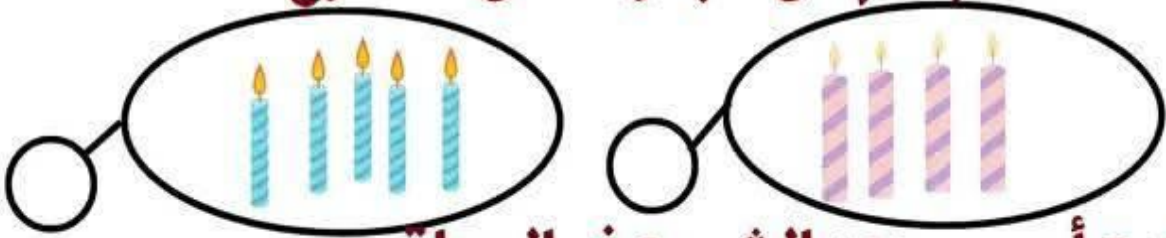
2-1 أحسب عدد الأزهار في الجملة

صفحة لتبنيك مع المربية

1-3 أرتب أعداد العملية تصاعدياً



السند2: توجّهت سناء رفقة والدتها إلى المغازة لشراء بعض مستلزمات حفل عيد الميلاد. اشترت الأم مجموعة من الشموع.
1-2 أحسب كمّ كل مجموعة من الشموع:



2-2 أحسب عدد الشموع في الجملة



1-3 أرتب أعداد العملية تصاعدياً



إختبار عدد الحساب الذهني

1) أضع علامة المقارنة المناسبة: $=, <, >$

7.8 9.5 4.4 6.2 3.9

2) أكتب العدد السابق و اللاحق مباشرة:

5 7 2

3) أرّتب الأعداد التالية تصاعديًا:
المربية

. > . > . > . 5 - 3 - 9 - 0

يسرى
4) أرّتب الأعداد التالية تنازليًا:

11 - 12 - 3 - 16

إختبار عدد رياضيات

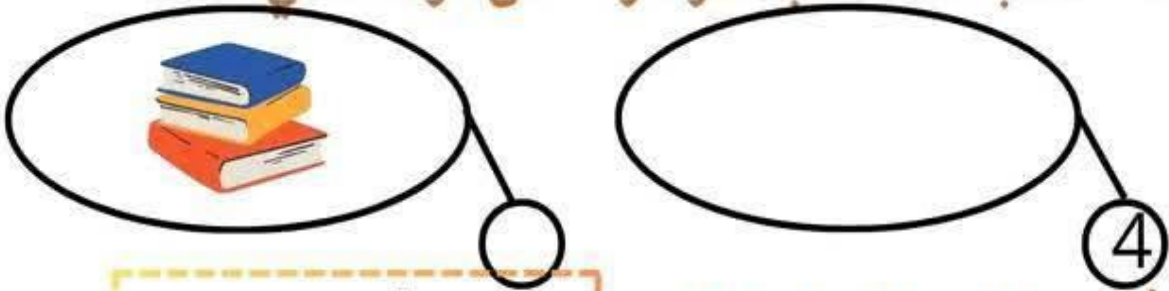
السند 1: ساعد طارق و سماح والدتهما في ترتيب المنزل.
رتب طارق 6 صحون و 3 كؤوس في الخزانة.
1- أمثل عدد الصحون و الكؤوس في كل مجموعة:



2- أحسب عدد الأواني التي رتبها طارق: $\cdot + \cdot = \cdot$

3- أرّتب أعداد العملية تصاعديًا

السند 1: دخلت سماح غرفتها و قامت بترتيبها فوضعت 4 كتب على الرف الأول و مجموعة من الكتب على الرف الثاني
1- أمثل مجموعة الكتب الموضوعة على الرف الأول.
2- أحسب عدد الكتب الموضوعة على الرف الثاني.



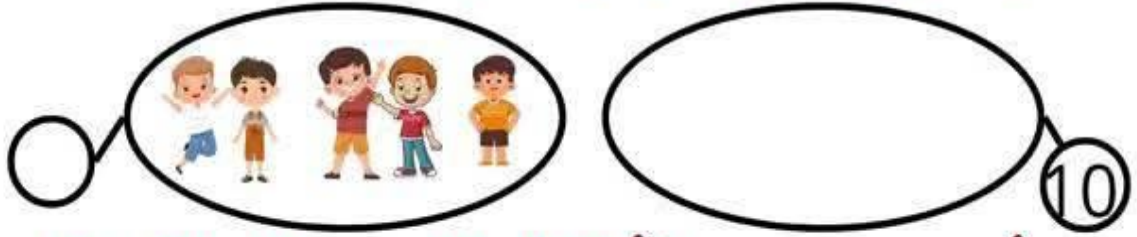
3- أحسب العدد الجملي للكتب. $\cdot = \cdot + \cdot$

4- أرّتب أعداد العملية تنازليًا.

السند3: حضر الحفل 10 بنات و مجموعة من الأولاد.

1-3 أحسب كم مجموعة الأولاد.

2-3 أمثل عناصر مجموعة البنات.



3-3 أحسب مجموع الأطفال الذين حضروا الحفل.

صفحة لنتائج التمرين مع المربية

2-3 أرتب أعداد العملية تنازلياً



السند4: تملك الأم 8 مي اشتريت الأم بالمبلغ التالي هديّة

لإبنتها.

.....مي



1-4 أحسب ثمن الهدية.

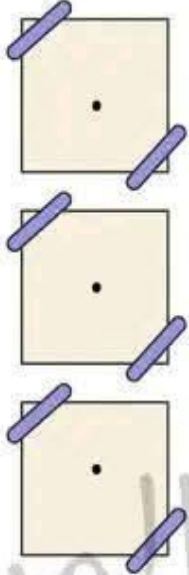
بقي للأُم 2 مي

2-4 هل تستطيع الأم شراء هديّة أخرى لسناء؟ و لماذا؟

لأن.....

لا نعم

إختبار عدد حساب ذهني



• ما هو العدد اللاحق مباشرة لـ 3

• ما هو العدد السابق مباشرة لـ 16

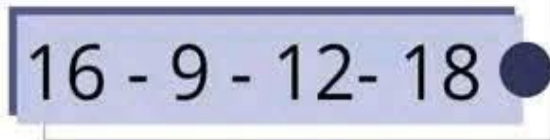
• ما هو العدد المحصور بين 5 و 7

• ما هي قيمة هذه القطع النقدية ؟



.....= مي

• أرتب تنازليًا





السند 3: توجه الطفلان إلى غرفة طارق و قاما بترتيب

الألعاب الموجودة بها.



1- أجزئ مجموعة اللّعب و أكتب كمّ كلّ مجموعة.

2- أرّتب كمّ الألعاب تصاعديًا

3- أحسب مجموع الألعاب

$$. = . + . + .$$

السند 4: أعطت الأمّ لطفليها مبالغ مالية اعترفا لهما بالمجهود الذي قاما به.

مبلغ سماح	مبلغ طارق
 	  
.....ميمي

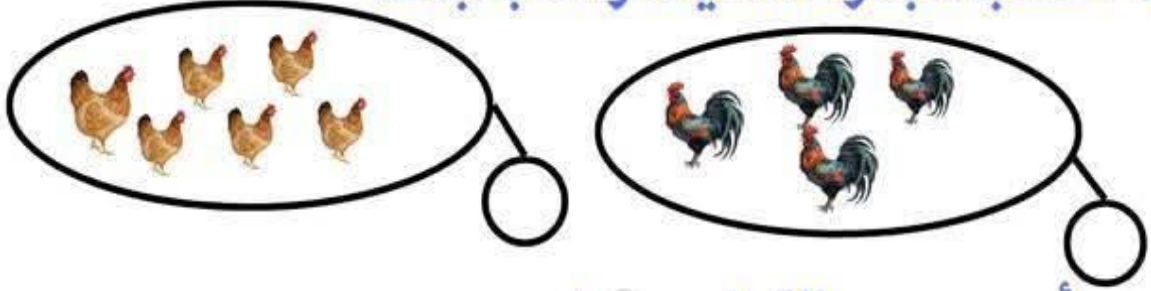
1- أحسب المبلغ الذي يملكه كلّ طفل.

2- أقارن المبالغ التي يملكها الطفلان



إختبار عدد الرياضيات

السند 1: تملك الجدّة نادرة مجموعة من الطيور.
1- أحسب مجموعة الدّيك و الدّجاجات.




2- أحسب عدد الدّواجن معًا.

صفحة لتسألني مع المربية

3- أرّتب أعداد العملية تصاعديًا.

السند 2: كما تملك الجدّة نادرة مجموعة من الحيوانات الأخرى.



1- أجزئ مجموعة الحيوانات حسب النوع و أحسب كمّ كلّ منها
2- أحسب عدد الأبقار و النعاج معًا.

3- أرّتب أعداد العملية تنازليًا.

السند 3: خرجت الجدة رفقة حفيدتها إلى محلّ لبيع الحلويات:
تملك الحفيدة المبلغ التالي :



1- أحسب المبلغ الذي تملكه البنت. مي

أعطت الجدة لحفيدتها قطعة نقدية من فئة 2 مي .

2- أحسب المبلغ الذي أصبحت تملكه البنت. مي

3- هل تستطيع البنت بالمبلغ الذي أصبحت تملكه شراء

قطعة مرطبات بـ 6 مي . و لماذا؟

تستطيع البنت شراء المرطبات لأن

نعم

لا

السند 4: اشترت الجدة نادرة حلويات مختلفة .



1- أجزئ مجموعة المرطبات .

2- أكتب كمّ كل مجموعة.

3- أرّتب كمّ المجموعات تنازليًا.

مرحبا بكم علي منصة مراجعة



COLLEGE.MOURAJAA.COM



NEWS.MOURAJAA.COM

