

مكتبة التاليف

طريق فرقة 3.5 - حدائق

الهاتف: 97458346

السنة الدراسية	المدرسة الابتدائية
العامة: رياضيات	الاختبار الثلاثي الثاني
السنة: 20 /	الاسم و التعلب:

السند 1: لصنع غطاء صوفي اشترت أمي 21 كغ من الصوف الخشن بـ 860 مي الكغ الواحد و 47 كغ من الصوف الرقيق بـ 375 مي الكغ الواحد. ودفعت 27 د لتسجيره.

مراجعات
مراجعات
مراجعات
مراجعات
مراجعات
مراجعات

التعليمة 1: أحسب ثمن شراء الصوف الخشن:

التعليمة 2: أحسب ثمن شراء الصوف الرقيق:

التعليمة 3: أحسب جملة المصاريف:

التعليمة 4: إذا كانت قد باعت الغطاء الصوفي بـ 99070 مي. فكم ربحت؟

السند 2: في طريق العودة إلى المنزل مرت أمي بالصيد ليده وأشترت قوارير دواء سعتها نصف لتر. تناول أخي من هذا الدواء ملعقة ذات 1 صل ونصف مائة في اليوم لمدة 7 أيام.

طريق فرقة 3.5 - حدائق
الهاتف: 97458346

مكتبة التالف

طريق فرسة كلم 3.5 - صفاقس
الهاتف: 07458346

التعليمية 1: أَبْحَثُ عَنْ كِمِيَّةِ الدَّوَاءِ المُسْتَهْلَكَةِ
فِي يَوْمٍ وَاحِدٍ.

300

U

التعليمية 2: أَبْحَثُ عَنْ كِمِيَّةِ الدَّوَاءِ المُسْتَهْلَكَةِ
فِي أُسْبُوعٍ.

300

U

التعليمية 3: أَبْحَثُ عَنْ كِمِيَّةِ الدَّوَاءِ البَاقِيَةِ
بَعْدَ أُسْبُوعٍ.

300

U

التعليمية 4: أَرَسُّمُ رَسْمًا مُصَغَّرًا لِلغَطَاءِ الصُّوفِيِّ وَهُوَ
عِبَارَةٌ عَنْ مُسْتَطِيلٍ (أ ب ج د) طَوْلُهُ 6 صم وَعَرْضُهُ
3 صم.

400

U

400

U

400

U

السند 3: اشترى تساح منسجًا جديدًا واتفق مع
البائع على دفع تسبق قيمتها 163 د وتسديد
بقية المبلغ على 13 قسطًا قيمة القسط الواحد 57 د.

مكتبة التالف

طريق فرسة كلم 3.5 - صفاقس
الهاتف: 07458346

التعلیمة 1: أَحْسِبُ تَمَنُّ شِرَاءِ الْمِنْسَجِ:

مكتبة التالک
طريق فرسانة كلم 3,5
الهاتف: 97458346

م

م

ب

م

التعلیمة 2: لَوْ أُشْتَرَاهُ دُونَ تَقْسِيطِ لَوْ فَرَدَّ
مَا تَمَنُّ شِرَاءِ الْمِنْسَجِ دُونَ تَقْسِيطِ (بِالْحَاضِرِ)؟

السند 4: بَاعَ الْمِنْسَجَ الْقَدِيمَ بِ 497 د. وَدَفَعَ مَعْلُومَ النِّقْلِ

37 د

إِشْتَرَطَ الشَّارِي عَلَى النَّسَاجِ إِصْلَاحَ الْمِنْسَجِ قَبْلَ تَسَلُّمِهِ
فَدَفَعَ النَّسَاجُ أَيْضًا 86 د تَكْلُفَةَ إِصْلَاحِهِ

التعلیمة 1: مَا هُوَ مِقْدَارُ الدَّخْلِ الصَّافِي
لِلنَّسَاجِ مِنْ عَمَلِيَّةِ الْبَيْعِ هَذِهِ؟

م

ب

م

ب

م

ب

السند 5: أَمَا جَارَتْهُ سَعَادُ صَاحِبَةٌ مَصْنَعُ النَّسِيجِ
تُشْغَلُ فِيهِ 19 عَامَلَةً

تَصْرَفُ هَذِهِ السَّيِّدَةُ كُلَّ يَوْمٍ 489 د مُقَابِلَ شِرَاءِ
الصُّوفِ وَ 16 د كَأَجْرَةٍ لِلْعَامِلَةِ الْوَاحِدَةِ.

التعلیمة: أَطْرَحُ سُؤَالَ الْبِتَّالِبِ حَلَّهُ إِجْرَاءَ عَمَلِيَّتَيْنِ
وَأَحْسِبُ عَلَيْهِ بَعْبَارَةً عَدَدِيَّةً

97458346

مكتبة التالى

طريق فرسة رقم 3,5 - سقاي
الهاتف: 97458346

97

الاسم و النقب :	المادة : رياضيات	المدرسة الابتدائية
العدد	20	تقييم مكنمبات التلاميذ في نهاية الثلاثي الثاني
السنة الرابعة		

السند عدد 1: في حديقة السيدة زينب شجرات زهر. قطفت أزهارها و وزنتها فوجدتها 34 كغ. باعت الجيران 8 كغ بـ 6 500 مي الكغ الواحد و قطرت الباقي فأتج كل كغ من الزهر 1 لتر و نصف من ماء الزهر.

التعليمة 1-1: أحسب ثمن بيع الزهر.

1 مع

التعليمة 1-2: أحول الى الوحدة المطلوبة.

2 مع

1 ل و نصف = مل.

3 مع

التعليمة 1-3: أحسب كمية ماء الزهر باللتر.

1 مع

2 مع

السند عدد 2: لحفظ ماء الزهر أقتت السيدة زينب 39 قارورة بلورية بـ 46 و اعطية بـ 3 540 مي.

التعليمة 2-1: أحسب المصاريف.

1 مع

2 مع

التعليمة 2-2: أمثل المبلغ السابق بأقل ما يمكن من القطع النقدية و الأوراق المالية.

3 مع

مكتبة التالى

طريق فرسة رقم 3,5 - سقاي
الهاتف: 97458346

السنة الدراسية	تقييمه محتسبات التلاميذ الثلاثية : الثانية المادة: رياضيات	المدرسة الابتدائية
الاسم و اللقب		السنة : 4

المعايير

فما يؤمر ببيع باع أحد بائعي الزهور عددا من الزهور حسب الجدول التالي

نوع الزهور	عددها	ثمن الواحدة	الثمن المعلن
زهور حمراء	75	250 م	?
زهور صفراء	80	335 م	?
زهور بيضاء	60	435 م	?

أحسب ثمن الزهور الحمراء مع ج

أحسب ثمن الزهور البيضاء مع ج

أحسب ثمن الزهور الصفراء مع ج

أحسب المبلغ الذي قبضه البائع مع د

بما قبض من نقود توجه هذا الرجل إلى مغارة ليبيع للملابس الجاهزة فشرى بثمنه ثيابا بثمن 335 م وسروالا ثمنه 357 م عن ثمن البذلة 335 م وحذاء ثمنه يقل عن ثمن السروال ب 357 م وقميصا ثمنه ين يد عن ثمن الحذاء ب 178 م

أحسب ثمن السروال مع ب

مكتبة التالى
طريق فرمدا كلد 3 - صفدر
الهاتف: 97458346

أحسب ثمن شراء الحذاء

معيار

مع 3

مع 1

أحسب ثمن شراء القميص

مع 4

مع 1


أحسب ثمن المشتريات

مع 2

أحسب المبلغ المتبقي

مع 3

انطلق الرجل من مكانه وتوجه إلى المغارة فأبغ الطريق التالي



أحول إلى المتر


- * 1 كم و 4 دك = 1000 م + 40 م = 1040 م
- * 65 دك = 650 م
- * 18 م و 5 م = 23 م

مع 3

- 3 دك = 30 م
- 3 كم و 5 م = 3050 م
- 3 كم و 5 م = 3050 م
- 85 دك = 850 م

مع 3

البدلة الرياضية التي اشتراها هذا الرجل مرسوم عليها مايلي



مكتبة التالى
طريق فرسة طاب 9
البيف: 97458346

المعايير

أَسْقِي قِطْعَ السُّتْقِيَمَاتِ

4 مع

أَسْقِي نَمَطَ مُسْتَقِيمٍ مَبْدُومٍ "أ"

4 مع

أَكْمَلْ رَسْمَ مَسْتَطِيلٍ بِأَسْتِعْمَالِ الْكُوسِ قَيْسِ طَوْلِهِ
4 صم وقيس عرضة رسم

4 مع

يَقَابِغِي لَهُ مِنْ نَقْوِدٍ اشْتَرَى 6 كغ مِنْ

البر تقال ثمن الكغ الواحد 1250 مي وعلبة

شامية ب 4750 مي

أَطْرُحْ سَوَآلًا مَنَاسِبًا لِهَذِهِ الْوَضْعِيَّةِ تَقْتَضِي

الإجابة عنه إبان عملية

5 مع

مكتبة التالى
طريق فرسة طاب 9
البيف: 97458346

مكتبة التائق
عنوان: فرمودة طوك 3.5 - مسقط
الهاتف: 97458346

المعايير	الجزء
مع 2 ب	الجزء ②
05	زار الحزم سالم معرض الكتاب وأقتنى 54 قصة ب 29700 مبي ولوحات دفع الحزم سالم مقابل ذلك 60
	④ فما شو ثمن اللوحات؟
مع 2 ب	الجزء ③
05	أراد الحزم سالم أن يشتري مجموعة من كتب التمارين ثمنها 74500 مبي لكنه احتسب أنه يتحصّل 2700 مبي
	⑤ كم تبقى له من المال؟
1 م	الجزء ④
05	أخيراً قرّر الحزم سالم شراء مجموعة من الأفلام الحافّة وعليه اقتادم قلوبين وأوراق تصوير ثمنها 20200 مبي * وهو مبلغ يزيد عن ثمن علب أفلام القلوبين ب 1800 مبي * ويقل عن ثمن الأفلام الحافّة ب 3450 مبي
مع 2 ب	⑥ كم ثمن علب أفلام القلوبين؟
05	⑦ كم ثمن الأفلام الحافّة؟

مكتبة التائق

مكتبة الشائق
طريق فرسة كلم 3.5 - صفين
الهاتف: 97458346

المعاني

المبتدئ ⑤
تمت العتم سالم عبر الحسك التالي للوصول إلى
مكتبتنا.



⑧ أقوم بتحويل الأبطال إلى العتير

س 7 كم و 5 م =

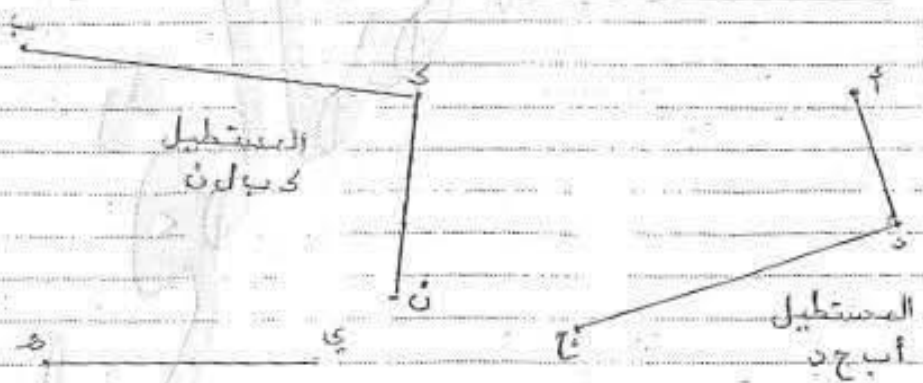
س 1 كم و 5 م و 7 م =

س 1 كم و 45 م =

- 3.5
- ⊕
- ⊖
- ⊕
- ⊖

المبتدئ ⑤
الزهورات ذاتية تمثل ثم اذ جاء صغيرة
لعب أقلام النورين التي اقتناها العتم سالم

⑤ اكتب الترسوبات التالية



- 4.5
- ⊕
- ⊖
- ⊕
- ⊖

مكتبة الشائق

الهاتف: 97458346



مكتبة التائق
طريق فرحة تار 3 - مسقط
الهاتف: 97458346

المعايير

١٧) التنفيذ
 - قوت السمّ نالِم عن أبيه حَقْلُ عَرْمِ أشجار برتقال
 تَحْمِلُ على صابة فنام بيوع 850 كغ منها على عين المكان
 والباقي وضعه في صناديق عددها 30 كتلة الصندوق الواحد
 15 كغ وذلك استعداءا لبيعها في السوق.

١٨) أضغ على (X) أما والشؤال المناسب لمعطيات الوصيفة
 والتي تتطلب حلة إجازة عنتينز

أحسب كتلة البرتقال بالمتدين ○
 أحسب كتلة البرتقال التي تم بيعها بالسوق ○
 أحسب كتلة صابة البرتقال التي تحصل عليها السمّ نالِم ○

١٩) أجيب عن المشؤال الذي إحتارة

5.30

 15

 15

جدول إسناد الأعداد

5.30	4.30	3.30	2.30	1.30	0.30	1.20	1.20	
2.8 1	0	0	0	0	0	0	0	انحدار التعلك
15.8 2	1	1	1	0.5	0.5	1	1	التعلك دون الأذن
15.8 3	2	2	2	1	1	2	2	التعلك الأذن
15.8 3	3	3	3	1.5	1.5	3	3	التعلك الأقصى

مكتبة التائق
طريق فرحة تار 3 - مسقط
الهاتف: 97458346



مكتبة التائق
الهاتف: 97458346

المدرسة الأبتدائية

تقديم مكتسبات التلاميذ
الثلاثية: النشائية ②
المادة: رياضيات

الصفحة الدراسية
1

الأسبوع / الألب: _____
الصفحة: ④

المعايير	الوضعية ①
14 مع	<p>المسند ①</p> <p>حقل به 4 صفوف بكل صف 8 أشجار تفاح مع ذلك إنتاج الشجرة الواحدة 45 كغ</p> <p>كم كتلة صابون التفاح التي أنتجها الحقل؟</p>
12 مع	<p>المسند ②</p> <p>وضع صاحب الحقل حزمة من صابون في 76 صندوقا يعوي الواحد 12 كغ ثم باعه في الحظوق بـ 8500 ممي الصندوق الواحد</p> <p>كم ليمن يبيع التفاح بالخطوق؟</p>
11 مع	<p>المسند ③</p> <p>أما أنتقي من الصابون فقد باعها صاحبها على عين المكان بـ 700 ممي الواحد بعد أن سحب منها 28 كغ احتفظ بها لنفسه</p> <p>كم ليمن يبيع التفاح على عين المكان؟</p>
10 مع	<p>مسند ④</p> <p>ما هو المدخول الختافي لهذا المنتج؟ وليتقارن مصاريف العناية والحني والنقل فتبلغت 550 د</p>



التمرين (4)

ضممت صاحب الأرض مبلغاً كان قد اقتطعه من مدخوله
الموافق لشراء قطع غيار لجراره لكن لاحظ أنه بقصد
404 فأقرض من صديقه 475 وهو مبلغ يمثل نصف
بمن قطع الغيار
ما أشرح مسأله تطاب الإجابة عنه إنجاز علياً بين (والإلتزام فقط
بمعطيات هذه الوصفه)

التمرين (5)

لزوجته صاحب الأرض 3 بقرات تعطي الواحدة 4200 صل
من الحليب يومياً
تضع الزوجه كميته من الحليب التي تنتجها بقراتها عني
4 صنفات سعته الواحدة 15 ونصف ثم يبيعهوا في السوق
وتحتفظ بالباقي لنفسها
أحسب كميته الحليب التي تحتفظ بها الزوجه لنفسها
بحساب التل (ل)



المعادن

الوصفية (2)

أ) أكمل رسم
المستطيل أسود

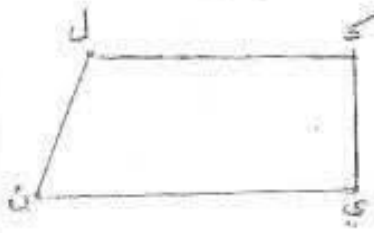
4 مع



Handwritten answer lines for question A, consisting of several horizontal lines for writing.

ب) أملح الخط المركب
في رسم المستطيل
كحلوني

4 مع



Handwritten answer lines for question B, consisting of several horizontal lines for writing.

ج) ارسم مربعاً
وسفرو قيس
طوله 5 سم

4 مع



Handwritten answer lines for question C, consisting of several horizontal lines for writing.

مكتبة التالف طريق فرسان العرب 3 - مسقط الهاتف 97458346	تقديم مكتبات التلاوة الثلاثية : الثانية الوحدة : رياض	المدرسة الابتدائية
الاسم و اللقب		الوحدة : 4
السند 4 عدد فمن جمعية ميانة مدرستنا بتعهدهم وافند تاعاب التعلم وانوابها فكانت مطاريفها كما يلي : 15 ع ل ش زاء الذهني 29 قطعة بلور بنصف دينار القطعة الواحدة 19 ففلا ب 8760 من القفل الواحد وبابا حديثا لقاعة الاعلامته بفقو ذمته ذمن الذهني وذمن الاطفال ب 177560 سي		المعايير
التعلمه 1 ا أخست ذمن قطع الباور		معد لا
التعلمه 2 ب . أتجت عن ذمن الاطفال		معد لا
أخست ذمن الباب الحديدي		معد لا
أتجت عن قيمة المطاريف الجميلته		معد لا
مكتبة التالف		معد لا

أبعث عن المبلغ الذي تبرع به المعلمة 3.5م - ص 3
الهاتف: 97458346

المعلمة 2-3
كانت اللوحات مختلفة الأشكال
إحدى اللوحات مربعة الشكل قيس فيها 8م
أرسم تصميمًا لهذه اللوحة معوضًا
8م ب 1م

4م
4م

أرسم تصميمًا للوحة مستطيلة الشكل
قيس طولها 40م وقيس عرضها 50م
معوضًا 40م ب 1م

4م
4م

أرسم مستطيلًا موازيًا لارض تصميم
اللوحة المستطيلة الشكل فستعمل
(المسطرة والكمون)

أعدّل إلى الوحدة المطلوبة

3م
3م
3م

1م ونصف = مل
25م + = 1م
1م و 12م = مل

المعلمة

مرحبا بكم علي منصة مراجعة



COLLEGE.MOURAJAA.COM



NEWS.MOURAJAA.COM

