

السنة خامسة  
فيفري 2023  
رياضيات وليد الكراي

تقييم مكتسبات التلاميذ  
في نهاية ثلاثي ثاني عد 1 عدد  
مادة الرياضيات



السند عـ 1 عدد:

يملك فلاح حقلا مستطيل الشكل قيس محيطه 1760 م و قيس طوله يمثل  $\frac{7}{4}$  قيس عرضه.

التعليمة 1: احسب مساحة الحقل بالم<sup>2</sup> و بالأر.



السند عـ 2 عدد:

باع الفلاح  $\frac{3}{8}$  الأرض بـ 150 د الأار الواحد.

التعليمة 2: ما هو ثمن بيع الأرض؟

التعليمة 3: احسب مساحة الأرض المتبقية بطريقتين مختلفتين.

السند عـ 3 عدد:

أراد الفلاح شراء منزل لابنه ثمنه  $\frac{7}{5}$  ثمن الأرض.

التعليمة 4: احسب بطريقتين مختلفتين المبلغ الذي ينقص الفلاح لشراء المنزل.

السند ع-4 دد:

اقترض الفلاح المبلغ الذي ينقصه لشراء المنزل من البنك على ان يعيده إليها  
اقساطا شهرية على مدى 5 سنوات بفانض يمثل  $\frac{1}{3}$  المبلغ المقترض.  
التعليمة 5: ماهي قيمة القسط الشهري الواحد؟

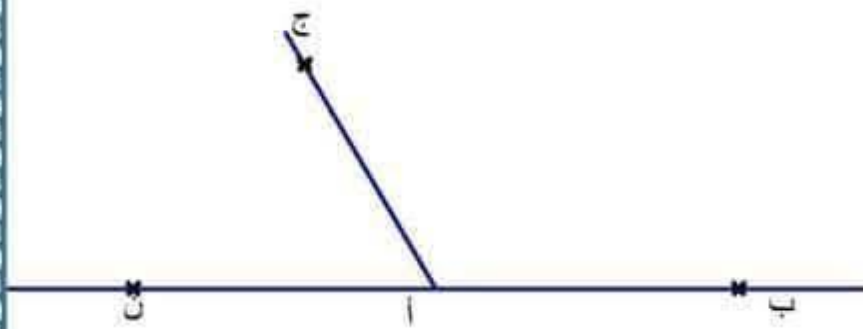


السند ع-5 دد:

زوايا المنزل متنوعة الإقياس.  
التعليمة 6: ارسم م ون = 165 ° ثم ابن منصفها [وس]

التعليمة 7: ارسم مستعملا البركارو المسطرة المنصف

[أم] لـ [أب، أج]  
ومنصف [أد] لـ [أج، أن]



م أب و م أن زاويتان

م أج و م أد زاويتان

حظم وفقى

السنة خامسة  
فيفري 2023  
رياضيات وليد الكراي

تقييم مكتسبات التلاميذ  
في نهاية ثلاثي ثاني عد 1 عدد  
مادة الرياضيات (الإصلاح)



السند ع 1 عدد:

يملك فلاح حقلا مستطيل الشكل قيس محيطه 1760 م و قيس طوله يمثل  $\frac{7}{4}$  قيس عرضه.  
التعليمة 1: احسب مساحة الحقل بالم<sup>2</sup> و بالآر.

نصف المحيط:  $1760 : 2 = 880$  م  
قيس العرض:  $880 : 4 = 320$  م  
قيس الطول:  $880 : 7 = 560$  م  
مساحة الحقل:  $320 \times 560 = 179200 = 1792$  آر

السند ع 2 عدد:

باع الفلاح  $\frac{3}{8}$  الأرض بـ 150 د الآر الواحد.

التعليمة 2: ما هو ثمن بيع الأرض؟

قيس المساحة المبيعة:  $1792 : 8 = 672$  آر  
ثمن بيع الأرض:  $672 \times 150 = 100800$  د

التعليمة 3: احسب مساحة الأرض المتبقية بطريقتين مختلفتين.

ط 1 : مساحة الأرض المتبقية:  $1792 - 672 = 1120$  آر  
ط 2 : مساحة الأرض المتبقية:  $1792 : 5 = 1120$  آر

السند ع 3 عدد:

أراد الفلاح شراء منزل لابنه ثمنه  $\frac{7}{5}$  ثمن الأرض.

التعليمة 4: احسب بطريقتين مختلفتين المبلغ الذي ينقص الفلاح لشراء المنزل.

ط 1 : ثمن المنزل:  $100800 : 5 = 141120$  د  
المبلغ المتبقي:  $100800 - 141120 = 40320$  د  
ط 2 : المبلغ المتبقي:  $100800 : 2 = 40320$  د

السند ع 4 عدد:

اقترض الفلاح المبلغ الذي ينقصه لشراء المنزل من البنك على ان يعيده إليها أقساطا شهرية على مدى 5 سنوات بفانض يمثل  $\frac{1}{3}$  المبلغ المقترض.

التعليمة 5: ماهي قيمة القسط الشهري الواحد؟

قيمة الفانض:  $40320 : 3 = 13440$  د  
المبلغ بعد الزيادة:  $40320 + 13440 = 53760$  د  
قيمة القسط الشهري الواحد:  $53760 : 60 = 896$  د

الاسم: .....	تقييم مكتسبات المتعلمين	مدار التعليمية
اللقب: .....	في نهاية الثلاثي الثاني	2023 - 2022
القسم: السنة الخامسة	المادة: إنتاج كتابي	

## الاختبار 1:

الموضوع: اضطرت والدتك لمغادرة المنزل هذا الأحد بسبب مرض جدتك. فقممت مع اخوتك بإنجاز عمل أسعدتها وأدخل الفرح لقلبها حين عادت. تحدث عن ذلك مبيّنا هذا العمل.

1 مع

وضع البداية:

2 مع

3 مع

سياق التحول:








جدول إسناد الأعداد

مع5	مع4	مع3	مع2	مع1	المعايير
0	0	0	0	0	انعدام التملك (---)
2	1	2	1	1	دون التملك الأدنى (+-)
3.5	2	4	2	2	التملك الأدنى (++)
5	3	6	3	3	التملك الأقصى (+++)




الاسم : .....	تقييم مكتسبات المتعلمين	مدار التعليمية
اللقب : .....	في نهاية الثلاثي الثاني	2023 - 2022
القسم : السنة الخامسة	المادة : إنتاج كتابي	

## الإصلاح 1 :

الموضوع: اضطرت والدتك لمغادرة المنزل هذا الأحد بسبب مرض جدتك. ففقت مع إخوتك بإنجاز عمل أسعدها وأدخل الفرح لقلبها حين عادت. تحدثت عن ذلك مبيّنا هذا العمل.

<p>استيقظت أمي كعادتها صباح كل أحد وشرعت في إنجاز أعمالها المنزلية. وبينما كانت منغمسة في تحضير عجينة الخبز كعادتها كل أسبوع إذ رن جرس هاتفها. كان المنصّل جدتي التي أعلمتها أنها مريضة جدًا ولأ تقوى على الحراك. فأضطرت والذتي لتترك كل شيء والمغادرة بسرعة. وأوصتنا بالترام الهدوء حتى عودتها.</p>	<p><u>وضع البداية :</u></p>
<p>حزّ في نفسي أن نزل المنزل على حاله حتى عودة أمي. فأجتمعت بإخوتي وأعلمتهم بضرورة تفهيم العمل بيننا حتى ننهى ما شرعت والذتي في إنجازها.</p>	<p><u>سياق التحوّل:</u></p>
<p>هاهي سلمى أختي الكيزي قد دخلت المطبخ. فتفقدت العجين الذي كان قد أختمر. أشعلت الفرن وشرعت في إحصار الخبز. ثم أنبرت لتنظف المطبخ.</p>	



WWW.MADAR.TN WWW.MADAR.TN  
WWW.MADAR.TN

فَعَسَلَتْ الْمَوَاعِينَ وَمَسَحَتْ الْأَرْضِيَّةَ بَيْنَمَا كَانَتْ أُخْتِي الصُّغْرَى  
تُسَاعِدُهَا فَقَدْ غَسَلْتُ الْخُضِرَ وَأَخْضَرْتُ اللَّحْمَ حَتَّى يَتَسَنَّى لَهُمَا إِعْدَادُ  
الطَّعَامِ. ثُمَّ أَعَدَّتْ كَعَكَةً شَهِيَّةً مِنْ أَجْلِ وَالِدَتِي.

بَيْنَمَا انْطَلَقْتُ أُخْتِي الْوَسْطَى إِلَى غُرْفِنَا فَتَطَفَّفَتْهَا وَمَسَحَتْ الْعَبَارَ الْعَالِقَ فِي  
الزَّوَايَا. لِأَجْفًا نَشَرْتُ الْغَسِيلَ. ثُمَّ جَمَعْتُ مَا كَانَ قَدْ جَفَّ مِنْهُ فَكَوَّنْتُهُ  
وَوَضَعْتُهُ فِي الْخِزَانَةِ الْخَاصَّةِ بِهِ. ثُمَّ نَظَّفْتُ الْحَمَامَ وَمَسَحْتُ كُلَّ الْأَرْضِيَّاتِ. وَعَطَّرْتُ الْمَكَانَ بِالْبُخُورِ كَمَا  
تَفْعَلُ وَالِدَتِي.

بَيْنَمَا انْطَلَقْتُ صُحْبَةَ أُخِي إِلَى الْمُسْتَوْدَعِ فَتَطَفَّفَاهُ وَرَتَّبْنَا كُلَّ الْأَدْوَاتِ وَقَطَعُ  
الْأَثَابَ الْقَدِيمَ الْمَرْمِيَّةَ هُنَا وَهُنَا  
ثُمَّ تَوَجَّهْنَا نَحْوَ الْحَدِيقَةِ فَشَدَّ بِنَا الشُّجَيْرَاتِ وَأَزَلْنَا الطُّقَيْلِيَّاتِ وَسَقَيْنَا  
الْمَرْزُوعَاتِ الْمُحَبَّبَةَ لِأُمِّي.

بَعْدَ أَنْ أَنْهَيْتُنَا إِتْجَازَ أَعْمَالِنَا عَلَى الْكَمْلِ وَجِهٍ. جَلَسْنَا نُرَاجِعُ دُرُوسَنَا وَنُسَاعِدُ  
بَعْضُنَا فِي حَلِّ الْوَأَجِبَاتِ الْمَدْرَسِيَّةِ كَمَا كَانَتْ تَفْعَلُ وَالِدَتِي مَعَنَا عَشِيَّةً كُلَّ  
أَحَدٍ.

مَسَاءً عَادَتْ وَالِدَتِي وَلَكُمْ كَانَتْ فَرَحَتْهَا كَبِيرَةً لِمَا شَاهَدْتُهُ مِنْ تَرْبِيْبٍ وَمَا  
وَقَعْتُ عَلَيْهِ عَيْنَاهَا مِنْ نَظَافَةٍ رَائِعَةٍ. كَمْ أَسْعَدَهَا ذَلِكَ فَقَدْ اغْرُورَقْتُ عَيْنَاهَا  
وَهِيَ تَشْكُرُنَا عَلَى حُسْنِ صَنِيْعِنَا وَتُخْبِرُنَا أَنَّهَا فَخُورَةٌ بِنَا وَسَتُبَاهِي بِنَا كُلَّ  
النَّاسِ.

وَضَعُ النَّهَائِيَّةُ :

