


السنة الدراسية : 2023  
القسم: سنة أولى

اختبار كتابي  
في الرياضيات  
الثلاثي الثالث

المنذوبية الجهوية للتربية  
بتونس

السند 1 :

عَلِمَتْ فِرْدَوْسٌ بِمَرَضِ صَدِيقَتِهَا عَبِيرَ فَذَهَبَتْ لِتَزُورَهَا وَأَخَذَتْ مَعَهَا بَاقَةً جَمِيلَةً  
مِنَ الْوُرُودِ الْمَلُونَةِ.



التعليمة 1 : اكتب في كل لافته عدد الأزهار.

1 مع

التعليمة 2 : اكون اتحاد المجموعتين وأعبر عنه بكتابة جمعية.

1 مع



التَّعْلِيمَةُ 2 : أَرْتَبْ أَعْدَادَ الْقِصَصِ الْمَوْجُودَةِ بِالرُّفُوفِ الثَّلَاثَةِ تَرْتِيبًا تَنَازُلِيًّا.

. . .

التَّعْلِيمَةُ 3 : أَفَكِّكْ كُلَّ عَدَدٍ وَفَقًا لِلصِّيغَةِ الْقَانُونِيَّةِ.

مَع 2

	=	. .
	=	. .
	=	. .

التَّعْلِيمَةُ 4 : أَحْسِبْ الْعَدَدَ الْجُمْلِيَّ لِلْقِصَصِ بِالرُّفُوفِ الثَّلَاثَةِ.

موقع مراجعة  
mourajaa.com

. .


مَع 1

	+	. .
	+	. .
	+	. .
	+	. .

مَع 2

السند 4 :

في طريق العودة، اشترت فردوس قصة رأتها بمكتبة صديقتها.  
أزج لها البائع القطع النقدية التالية :



التعليمة 1 : أحسب قيمة المبلغ المتبقي :

\_\_\_\_\_  
معد 3

التعليمة 2 : أعيد تمثيل المبلغ بأقل عدد ممكن من القطع.



موقع مراجعة  
mourajaa.com

التعليمة 3 : هل يمكن لفردوس شراء أوراق بيضاء بـ 95 مي ؟

\_\_\_\_\_  
معد 5

..... أعلل إجابتي .....

التعليمة 4 : أمثل ثمن الأوراق البيضاء بالقطع النقدية المناسبة :

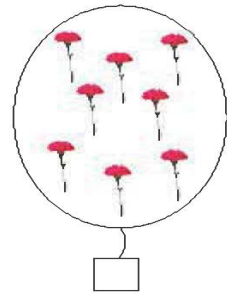

\_\_\_\_\_  
معد 3



# الإصلاح

\* السَّنَدُ 1 : التَّعْلِيمَةُ 1 : 8 > 9  
التَّعْلِيمَةُ 2 :

$$17 = 9 + 8$$



\* السَّنَدُ 3 : التَّعْلِيمَةُ 1 : عَدَدُ قِصَصِ الرُّفِّ

موقع مراجعة 3

mourajaa.com

$$\begin{array}{r} + \quad 4 \\ \hline = \quad 3 \quad 6 \end{array}$$

الثَّالِثِ : 32 + 4 = 36

التَّعْلِيمَةُ 2 : أَرْتَبْ أَعْدَادَ الْقِصَصِ الْمَوْجُودَةِ بِالرُّفُوفِ  
الثَّلَاثَةِ تَرْتِيبًا تَنَازُلِيًّا 36 < 32 < 20 .

التَّعْلِيمَةُ 3 : أَفَكُّ كُلِّ عَدَدٍ وَفَقًا لِلصِّيغَةِ الْقَانُونِيَّةِ.

$20 + 0 =$

$20$

$30 + 2 =$

$32$

$30 + 6 =$

$36$

التَّعْلِيمَةُ 4 : اَلْعَدَدُ الْجُمْلِي لِلْقَصِّ بِالرُّفُوفِ اَلثَّلَاثَةِ:

$88 = 36 + 32 + 20$



\* اَلسَّنْدُ 4 : اَلتَّعْلِيمَةُ 1 : 70 مِي. اَلتَّعْلِيمَةُ 2 :

اَلتَّعْلِيمَةُ 3 : لَا يُمَكِّنُ لِفِرْدَوْسٍ شِرَاءَ



اَلأُورَاقِ اَلْبَيْضَاءِ لِأَنَّ 70 مِي أَقَلُّ مِنْ 95 مِي.

اَلتَّعْلِيمَةُ 4 : تُقْبَلُ جَمِيعُ اَلْإِجَابَاتِ اَلصَّحِيحَةِ وَاَلْقِطَعِ

اَلَّتِي مَجْمُوعُ قِيمَتِهَا 95 مِي.