


التعليمة -3- هذا تمثيل للصدفات التي جمعها أحمد. أصنفها حسب نوعها ثم أعمر اللافتة :



$$. = . + .$$

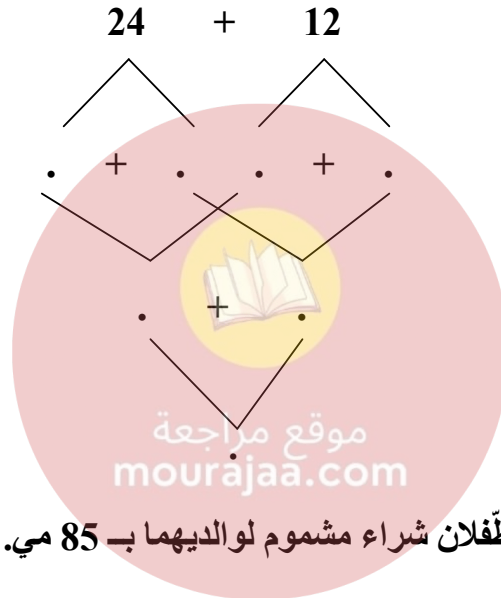
مع 4

مع 4

السند ع 4 د د :

اصطاد والد أحمد بالشبكة في المرة الأولى 12 سمكة و في المرة الثانية 24 سمكة .

التعليمة -4- أحسب العدد الجملي للأسماك التي اصطادها الأب مستعينا بالمخطط التالي :



مع 5

السند ع 5 د د :

مرّ بائع الياسمين فأراد الطفلان شراء مشموم لوالديهما بـ 85 مي. أخرج أحمد ما في جيبه .

التعليمة -1- أحسب المبلغ الذي أخرجته أحمد من جيبه :



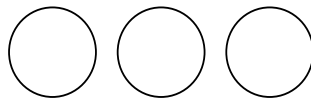
.....مي

و وجدت سلمى في جيبها 50 مي.

مع 3

التعليمة -2- أمثل المبلغ الذي أخرجته سلمى من جيبها بثلاث قطع :

مع 3



التعليمة -3- أحسب ما أخرجهُ الطّفان من جيبيهما:
..... = مي

$$\begin{array}{r} . \quad . \\ . \quad . \\ \hline = \quad . \quad . \end{array}$$

مع 1

مع 2

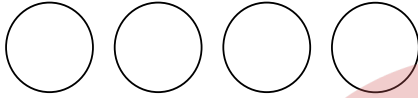
مع 2 ب

التعليمة -4- أرتب المقادير الماليّة السّابقة من الأكبر إلى الأصغر:

..... مي مي مي

مع 3

التعليمة -5- أمثل ما دفعه الطّفان بأربع قطع نقدية :



مع 5

التعليمة -6- أكتب نعم أو لا :

..... يستطيع الطّفان شراء المشموم ،



لأنّ مي مي

موقع مراجعة
mourajaa.com

جدول إسناد الأعداد



| م. التميز | معايير الحد الأدنى | | | | | ● |
|-----------|--------------------|------|--------|--------|------|-----|
| | مع 4 | مع 3 | مع 2 ب | مع 2 أ | مع 1 | |
| مع 5 | 0 | 0 | 0 | 0 | 0 | - |
| 2.5 | 1 | 1 | 1 | 1 | 1 | +-- |
| | 2 | 2 | 2 | 2 | 2 | ++- |
| 5 | 3 | 3 | 3 | 3 | 3 | +++ |