


السنة الدراسية : 2023 القسم: سنة أولى	اختبار كتابي في الرياضيات الثلاثي الثالث	المنذوبية الجهوية للتربية بتونس
--	--	------------------------------------

السند 1 :

قَصَدَ الْأَصْدِقَاءُ الثَّلَاثَةَ حُسَامًا وَفِرَاسًا وَعِمَادًا الْبَحْرَ. عِنْدَ الْوُضُوعِ إِلَى الشَّاطِئِ أَنْبَهَرُوا
بِمَنْظَرِ الظُّلَاتِ الْمُخْتَلِفَةِ.




التَّعْلِيمَةُ 1 : أَكْتُبْ دَاخِلَ كُلِّ لَافِتَةٍ عِدَدَ عَنَاصِرِ كُلِّ مَجْمُوعَةٍ.

مع 1

موقع مراجعة
mourajaa.com

التَّعْلِيمَةُ 2 : أَقَارِنُ بَيْنَ الْعَدَدَيْنِ.

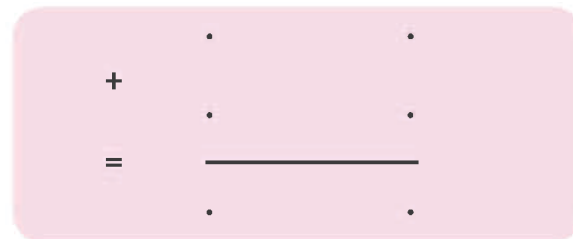
مع 2 أ



التَّعْلِيمَةُ 3 : أَحْسِبْ الْعَدَدَ الْجُمْلِيَّ لِلظُّلَاتِ.



مع 1




مع 2 ب

السند 2 :


جمّع الأطفال أصدافًا مُختلفة الأشكال.

التعليمة 1 : أتاَمَلُّ الأَصْدَافَ الَّتِي جَمَعَهَا الأَطْفَالُ وَأُكْمَلُ الجَدَاوِلَ بِمَا يُنَاسِبُ :



عَشْرَات	آحَاد
.	.

1 مع



عَشْرَات	آحَاد
.	.

1 مع



عَشْرَات	آحَاد
.	.

1 مع

التعليمة 2 : أرتب الأعداد الثلاثة تنازليًا.

2 مع

التعليمة 3 : أحسب عدد الأصداف التي جمعتها الأطفال.

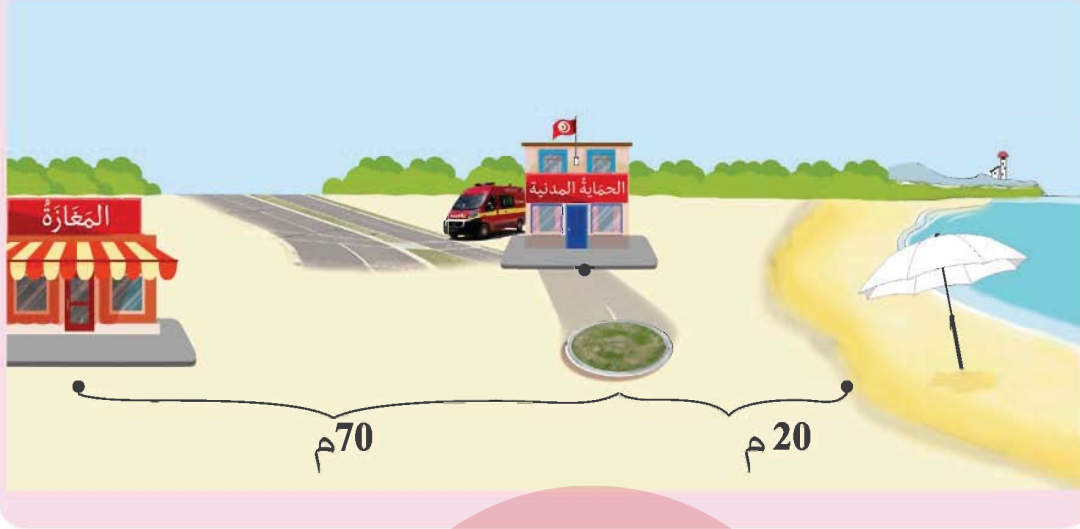
+	.	.
+	.	.
=	.	.

1 مع

2 مع

السند 3 :

قصد الأطفال المغارة.



التعليمة 1 : أرسم مسلكاً على شكل خطٍّ مُستقيمٍ من الشاطئِ إلى المغارة.

التعليمة 2 : أرسم خطًّا مُنحنيًّا من مقرِّ الحماية إلى المغارة.

مع 4

التعليمة 3 : أرسم خطوطاً مُنكسرةً أزيّن بها الظلّة.

التعليمة 4 : أحسب طول المسافة التي قطعها الأطفال من الشاطئ إلى المغارة.

مع 2

السُّنْدُ 4 :

بِحَوْزَةِ كُلِّ وَاحِدٍ مِنَ الْأَصْدِقَاءِ الثَّلَاثَةِ هَذِهِ الْمَبَالِغُ.

عِمَادٌ	فِرَاسٌ	حُسَامٌ
		
84 مِي	95 مِي	... مِي

التَّعْلِيمَةُ 1 : أَحْسَبُ قِيَمَةَ الْقِطْعِ الَّتِي بِحَوْزَةِ حُسَامٍ.



التَّعْلِيمَةُ 2 : أَمَثِلُ الْقِطْعَ النَّقْدِيَّةَ الَّتِي يَمْلِكُهَا فِرَاسٌ بِأَقْلَ عَدَدٍ مُمَكِّنٍ.

|||
مع 3

التَّعْلِيمَةُ 3 : أَكْمَلُ الْمَبَالِغَ الَّذِي يَمْلِكُهُ عِمَادٌ بِالْقِطْعِ النَّقْدِيَّةِ النَّاقِصَةِ.

التَّعْلِيمَةُ 4 : أَرْتَبُ الْمَبَالِغَ الْمَالِيَّةَ الَّتِي يَمْلِكُهَا الْأَطْفَالُ الثَّلَاثَةُ مِنَ الْأَصْغَرِ إِلَى الْأَكْبَرِ.

||
مع 2



السند 5 :

أراد حسام شراء كجة ثمنها 98 مي.

التعليمة 1 : أضع علامة (X) أمام السؤال المناسب للوضعية.

مع 5

- ما هو ثمن الكجة ؟

- هل يمكن لحسام شراء الكجة ؟

- أحسب قيمة المبلغ المتبقي لحسام ؟



موقع مراجعة
MOURAJAA.COM

التعليمة 2 : أجب عن السؤال الذي اخترته وأعلل :

الإصلاح

* السند 1 : التعلیمة 1 : 12 - 15 التعلیمة 2 :
12 > 15 التعلیمة 3 : 12 + 15 = 27 .

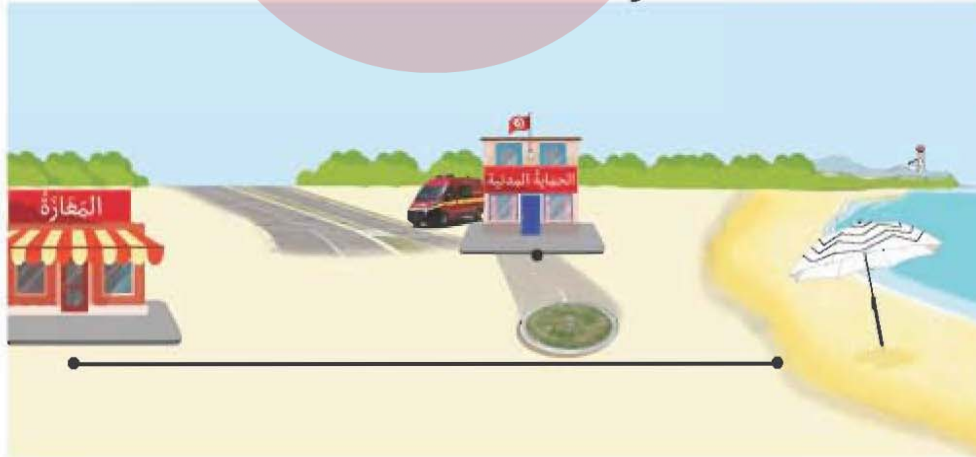
* السند 2 : التعلیمة 1 :

عَشْرَات	آحَاد	عَشْرَات	آحَاد	عَشْرَات	آحَاد
2	3	1	4	1	1

التعلیمة 2 : 11 < 14 < 23 * التعلیمة 3 :
عدد الأصداف : 11 + 14 + 23 = 48 .

موقع مراجعة
mourajaa.com

* السند 3 : التعلیمة 1



التعلیمة 4 : طول المسافة التي قطعها الأطفال من الشاطئ إلى المغازة بالمتر : 20 + 70 = 90

*السند 4 : التعلیمة 1 : 62 مي التعلیمة 2 :



التعلیمة 3 : تُقبل المُقترحات التي تساوي قيمتها

70 مي. التعلیمة 4 : 62 > 84 > 95

*السند 5 : التعلیمة 1 : هل يمكن لحسام شراء

الكبة ؟ X . التعلیمة 2 : لا يمكن لحسام شراء

الكبة لأن 62 مي > 98 مي.



موقع مراجعة
mourajaa.com