

فيزياء

السنة الأولى

تمارين تقييمية

المحور : الفضا

1- ألون بالأخضر اللعبة الموجودة
تحت السرير



1- ألون بالأحمر اللعبة الموجودة
فوق السرير



2- ألون الأجسام الموجودة تحت المكتب


موقع مراجعة
mourajaa.com



3- أضع علامة (X) تحت صورة أعلى جسم




4 - ألوّن الأجسام المَوْجُودَةَ اعلى الشجرة.




5 - أضع علامة (X) تحت صورة الفِراخ المَوْجُودَةَ أمام الدجاجة.



6 - أرسم شجرة على يمين سامية ولحلة على يسارها.



7 - أَلَوْنُ وَسَائِلِ النَّقْلِ الْمَوْجُودَةِ عَلَى يَسَارِ الشَّرْطِيَّةِ.



8 - أَتَأَمَّلُ الْمَشْهُدَ.

- أَحِيطُ بِخَطِّ مُعَلَّقٍ أَبْعَدُ شَجَرَةٍ عَنِ سَامِيَّةٍ.
- أَلَوْنُ أَكْبَرِ شَجَرَةٍ بِالنِّسْبَةِ إِلَى سَامِيَّةٍ مَوْجُودَةٍ مَوْجُودَةٍ
- أَضَعُ عَلَامَةَ (X) تَحْتَ أَطْوَلِ شَجَرَةٍ بِالنِّسْبَةِ إِلَى سَامِيَّةٍ.

