

الاسم : .....	تقييم مكتسبات التلاميذ	المدرسة الابتدائية فورالعريف
السنة : 5 .....	في نهاية الثلاثية الثانية : 2008	المادة : إيقاظ علمي

**السند 1 :** بينما كان أحمد يجري في ساحة المدرسة إذ فقد توازنه وسقط على الأرض ولم يتمكن من الوقوف وخشي أن يكون العظم من الساق قد تكسر.

**التعليمة 1:** أربط كل معلومة بالكسر المناسب.

يصاب فيه العظم بتشقق.  كسر مغلق

يتكسر العظم ولا يصاب الجذ بجروح.  كسر غير تام

يتمزق الأنسجة ويبرز العظم المكسور.  كسر مفتوح

مع 1 أ

**السند 2 :** أسرع المعلم ووضع ساق أحمد بين قطعتين من الخشب شدّهما بخيط وحمله إلى المستشفى.

**التعليمة 2:** أحدّد موقع الإصابة بوضع العلامة (x) في الخانة المناسبة.

المفاصل	العضلات	العظام	الموقع
			الحادث
			الانقسام
			الخلع
			التمدد

مع 2 أ

**السند 3 :** وقع تصوير العضو المصاب بالأشعة فاكتشف الطبيب أن الإصابة تمثل التواء

**التعليمة 3:** أكتب أمام المعلومة : "صواب" أو "خطأ"

- ◆ الالتواء هو تمدد الأربطة المفصليّة وتمزقها أحيانا (.....)
- ◆ تعمل العضلات المغزلية أزواجاً. (.....)
- ◆ مفاصل الركبة ومفاصل الكتف نصف متحركة (.....)

مع 3 أ

**السند 4 :** سمعت أم أحمد بما وقع لابنها فأقبلت إلى المستشفى مسرعة محمّرة الوجه

**التعليمة 4:** أكتب مفردات مناسبة في الفراغات

- ◆ يدور الدّم في الجسم بفضل ..... الدموية منها :

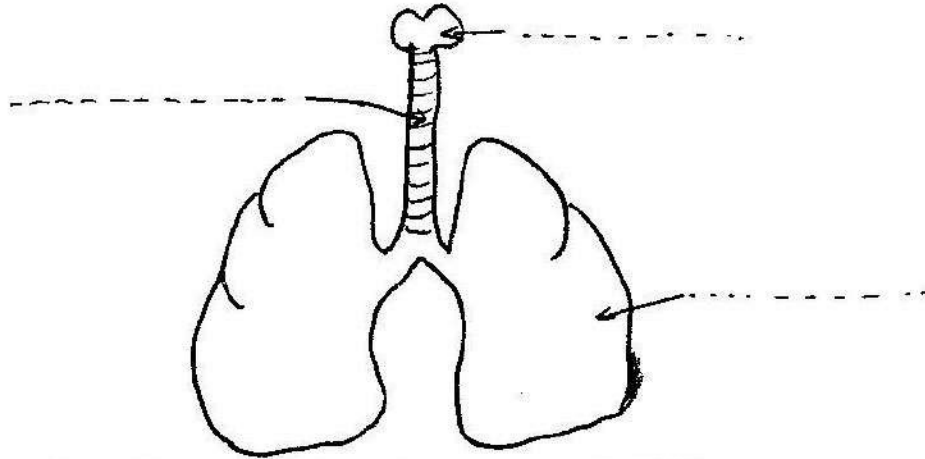
مع 2 ب

- ◆ أوعية تنقل الدم من الجسم إلى القلب وتسمى.....  
 ◆ أوعية تنقل الدم من القلب إلى كامل الجسم وتسمى.....

السند 5 : في بهو المستشفى لاحظ أحمد لافتة كتب عليها "ممنوع التدخين"

التعليمة 5 أ: أحوط من بين الأمراض التالية ما يصيب الجهاز التنفسي .  
 الربو - الشلل - السل - السرطان - الرمد

التعليمة 5 ب: هذه صورة تمثل الجهاز التنفسي أكتب أسماء الأعضاء المشار إليها.

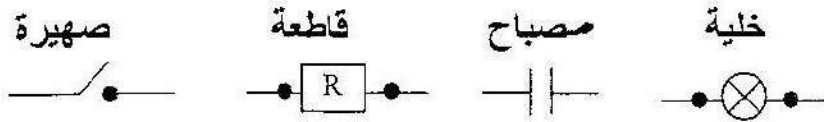


مع 1 ج


مع 2 ج

السند 6 : في ذلك اليوم تغيب أحمد عن درس الإيقاظ العلمي فأخذ كراسا من أحد التلاميذ لينسخ ما فاتته.

التعليمة 6 أ: أساعده على ربط كل جزء برمزه المناسب .



التعليمة 6 ب: أجعل المصباح يضيء في الحالتين .



السند

مع 1 ج

مع 1 ج

<p style="text-align: center;"><b>التعليمة 6 ج: أصلح الخطأ إن وجد .</b></p> <p>* الماء النقي ناقل للتيار الكهربائي.</p> <p>.....</p> <p style="text-align: center;">* الصهيرة تمكن من فتح الدارة وغلقتها.</p> <p>.....</p> <p style="text-align: center;">* لا يضيء المصباح عندما تكون الدارة مفتوحة .</p> <p>.....</p>	<input type="checkbox"/> <b>مع 3</b>
---	---

مستوى	معايير الحد الأدنى						معايير التمييز
	مع 1			مع 2			
	أ	ب	ج	أ	ب	ج	
3	0	0	0	0	0	0	العدم التملك (-)
	0,5	0,5	0,5	1	1	1	دون التملك الأدنى (+)
3	1	1	1	2	2	2	التملك الأدنى (+)
	1,5	1,5	1,5	3	3	3	التملك الأقصى (+3)
6	5			9			الجملة