

السنة الثانية	اختبار الثلاثي الثالث 2010 المادة: رياضيات	المدرسة الابتدائية الخاصة نور المعارف
الاسم و اللقب:		

السنة 1: بمناسبة عيد الطهولة نظمنا مساءً قدسنا
زيارة إلى دار الأيتام لتقديم المساعداً

شارك في هذه الزيارة 143 شخصاً ممن
تأثروا

52 تلميذاً من الشرحية
48 تلميذاً من الشرحية 3
والتبعية من أولياء

التعليمية: أحسب عدد التلاميذ في الجملة

م 2 ب
ب

التعليمية 2: أحسب عدد المعلمين والأولياء

م 1
ب
م 2 ج
ب

السنة 2: جمع المديرتين بلغته 50 ديناراً

تساهم بهذا المبلغ التلاميذ والمعلمون وإدارة
المنشأة

هذا الجدول يحوي جملة المساهمات

قِيَمَةُ مُسَاهَمَةِ التَّلَامِيذِ بِالدِّيْنَارِ	قِيَمَةُ مُسَاهَمَةِ التَّلَامِيذِ بِالدِّيْنَارِ	قِيَمَةُ مُسَاهَمَةِ التَّلَامِيذِ بِالدِّيْنَارِ	قِيَمَةُ مُسَاهَمَةِ التَّلَامِيذِ بِالدِّيْنَارِ
750	.	275	345

التعليمية: أحسب جُمْلَةَ مُسَاهَمَةِ التَّلَامِيذِ وَالتَّلَامِيذِ وَالتَّلَامِيذِ
بِالدِّيْنَارِ

موج 1
L

MOURADIA.COM

التعليمية: أحسب مُسَاهَمَةَ التَّلَامِيذِ وَالتَّلَامِيذِ وَالتَّلَامِيذِ
بِالدِّيْنَارِ

موج 1
موج 2
L

السند: اشترى المُبِيرُ قَلْبِي بِ 45 دِينَارًا
وَأَهْتَدَ 275 دِينَارًا

التعليمية: أحسب جُمْلَةَ الْقَمَرِ أَرِيْفِ بِالدِّيْنَارِ

موج 1
L


التعليمية: أحسب الْقَبْلَةَ الْقَبْلَةَ الْقَبْلَةَ بِالدِّيْنَارِ

موج 1
موج 2
L

دفع المدين عن المبلغ المتبقي؛

تمن أنيس لحمل الهدايا فمن اليس الواحد 785 في

التعليق: أقتل هذا المبلغ بألطف النقدية



3 م
L

تمن أغلبية للقب اللقب ودفع من المبلغ
تمن الغلاف الواحد
التعليق: أحسب هذا المبلغ

3 م
L

1/2 100 100 50 50 10 5

في

تمن مجموعة من الأقراص الليزرية فتوى على القيد
تمن القرص الواحد 975 في

التعليق: أبيع داخل خط معلق القيد التي تمثل
هذا المبلغ

3 م
L

1/2 50 50 100 100 50 50 10 100
100 20 50

تلفت حمة هذه المقاريف 120 دينار
التعليق: أختار سؤالا مناسباً وأجيب عنه

5 م
L


○ أحسب المبلغ المتبقي عنده

○ أحسب المبلغ الذي كان يملكه

5 م
L

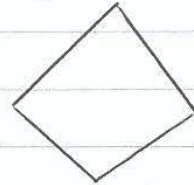
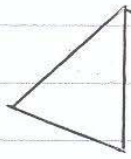
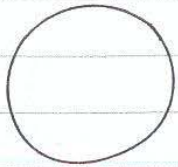
السند 4: من بين هذه اللعب لفتة الأشكال
هذه بعض الأمثلة

التعليمة: أتم الرسم لتعمل على خماسي



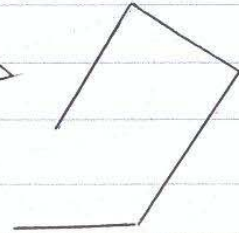
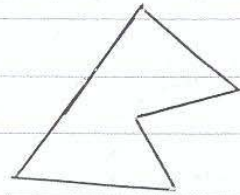

4
L

التعليمة: ألون الأشكال في هذه المجموعة



4
L

التعليمة: ألون الرباعي في هذه المجموعة



4
L

جدول إسناد الأعداد

معايير التمكن		معايير المحلة الأدمى					المعايير	مستويات التمكن
5	15	4	3	2	2	1		
		0	0	0	0	0	التعمد التمكن	
3	2	1	1,5	1	1	0,5	التعمد دون المحلة الأدمى	
		2	3	2	2	1	التعمد الأدمى	
	5	3	4,5	3	3	1,5	التعمد الأقصى	