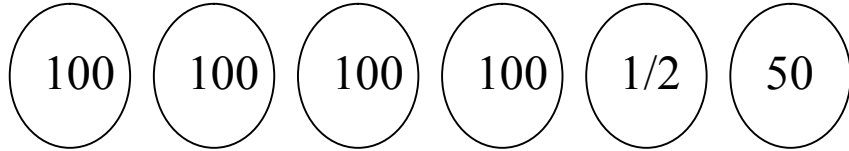


الاسم..... اللقب

السند 1 :

توجه رامي و ريم و فاطمة الى محل لبيع المرطبات
هذه نقود رامي



أساعد رامي على عد نقوده

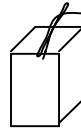
3 مع

السند 2 :

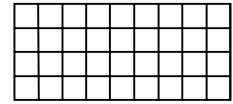
قرر رامي شراء بضاعتين من بين البضائع التالية:



مثلجات
900 مي



عصير
375 مي



شكلاطة
445 مي

ابحث عن ثمن البضاعتين اللتين يمكن لرامي شراؤهما

1 مع

كم يبقى له؟

2 مع

السند 3 :

تملك ريم 990 مي

امثل نقود ريم باقل عدد ممكن من النقود

3 مع

قررت ريم شراء بضاعتين من بين البضائع التالية :

حليب معطر
450 مي

عصير
350 مي

مثلجات
750 مي

ابحث عن الثمن الذي ستدفعه ريم

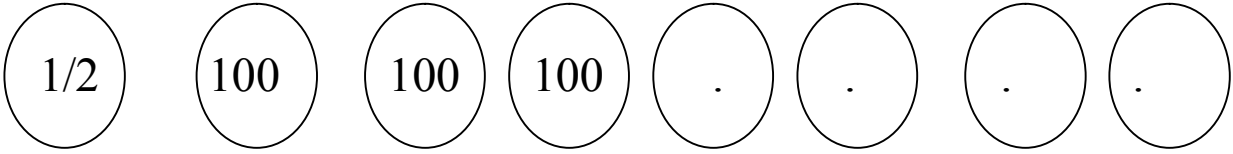
1 مع

كم بقي لـها؟

2 مع

السند 4 :

تملك فاطمة 975 مي



3 مع

اكمل تمثيل هذا المبلغ

شرت فاطمة علبة بسكوييت ب 540 مي


كم بقي لـها؟

1 مع

2 مع

السند 5 :

وجدت فاطمة الاشكال التالية مرسومة على علبة البسكوييت




4 مع

اضع علامة على الشكل الذي له 4 اضلاع

ارسم شكلا له 3 اضلاع

4 مع

اكمل رسم الشكل التالي ليصبح ذا 5 اضلاع



4 مع

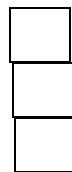
السند 6 :

جمع الاطفال ما تبقى لهم من نقود و ارادوا شراء لعبة ب 850 مي

اضع علامة امام السؤال المناسب للوضعية و اجيب عنه

5 مع

مع5	مع4	مع3	مع2	مع1	
0	0	0	0	0	---
0	2	1	1.5	1.5	+--
2	2	2	3	3	++-
5	3	3	4.5	4.5	+++



كم بقي لـه

ما هو ثمن اللعبة

كم ينقصهم لشراء اللعبة

الجواب

.....
.....