

الدائرة الأولى عربية  
مدرسة المنصورة  
السنة الأولى "ج"

تقييم مكتسبات التلاميذ في نهاية الثلاثية الثالثة  
المجال: العلوم والتكنولوجيا  
الفرع: رياضيات  
جوان 2008

المعلمة : سامية الجوادي  
اسم التلميذ و لقبه :



المعايير

### السند 1 :

قصدت البحر صحبة عائلتي، فجلست تحت الظلة أراقب بعض المصطافين وهم يلعبون كرة الطائرة. كان من بينهم 13 بنتا و12 ولدا.  
التعليمات:

1- أحسب عدد الأطفال.

$$\begin{array}{r} . \\ + . \\ \hline = . \end{array}$$

مع 1

مع 2

مع 2

2- أرّتب أعداد العمليّة من الأصغر إلى الأكبر.

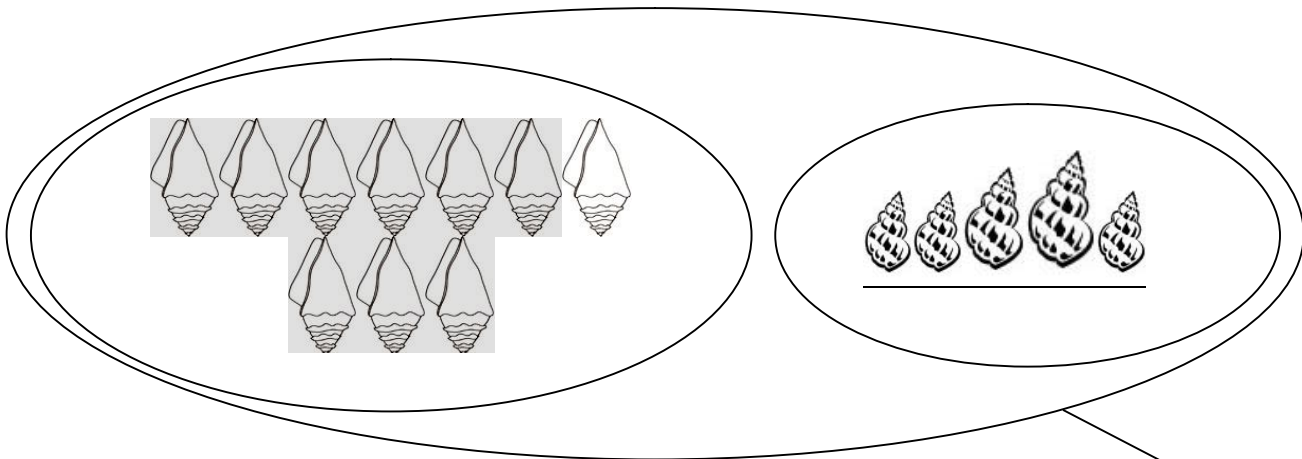
..... > ..... > .....

### السند 2 :

تمتعت بالسباحة مع أفراد عائلتي، ثم قرّرت جمع أصداف مختلفة الشكل.  
التعليمات:

1- هذه أصداف مستطيلة الشكل.

أكتب في اللافتة الكتابة الجمعية المناسبة.

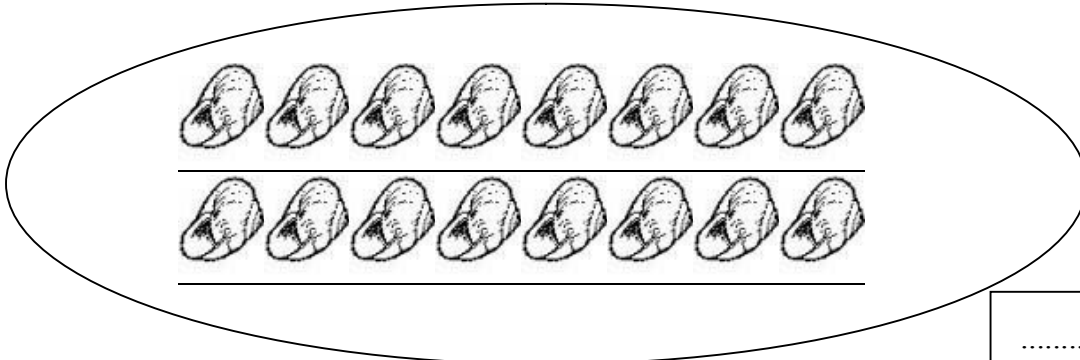


مع 1

..... + .....


2- وهذه أصداف في شكل حلزون.

أجزئ المجموعة ثم أضع في اللافتة الكتابة الجمعية الموافقة.



مع اب

3- وهذه أصداف أخرى مستديرة.  
أجزئ المجموعة وفقا للكتابة الجمعية.



مع اب

14+12

**السند:**  
أهديت أختي 20 صدفه مستديرة و 11 صدفه مستطيلة.  
التعليمات:  
1- أبحث عن عدد الأصداف التي أهديتها لأختي.

$$\begin{array}{r}
 \cdot \cdot \\
 + \cdot \cdot \\
 \hline
 = \cdot \cdot
 \end{array}$$

.....


مع أ1

2- أرّتب أعداد العمليّة من الأكبر إلى الأصغر.

مع أ2

..... < ..... < .....

مع ب2



#### السؤال 4:

جلست على شاطئ البحر أتناول لمجة.

التعليمة: ألون الإجابة الصحيحة:

😊 المثلجة بيدي اليمنى.

😊 السطل ورائي.

😊 المركب أمامي.

مع 4

مع 4

مع 4

#### السؤال 5:

رأيت عمي يضع في السطل 21 سمكة صغيرة وكان بجواره صياد عدد سمكاته يفوق عدد سمكات عمي بـ 16. فقلت له: عندما أصطاد 20 سمكة. التعليمات:

1- أبحث عن عدد سمكات الصياد.

$$\begin{array}{r}
 . \quad . \\
 + \quad . \quad . \\
 \hline
 = \quad . \quad .
 \end{array}$$

مع 1 أ

مع 2 أ

مع 2 ب

2- أرتب أعداد العمليّة من الأصغر إلى الأكبر.

..... > ..... > .....

#### السؤال 6:

مرّ بائع المشروبات فاشترينا من عنده مشروبات باردة وأرجع لنا النقود كالاتي:

لخالتي 50	لأبي ○ ○ ○	لعمي 2 5 5 10 20
90 مي	75 مي	مي.....

مع 3

مع 3

مع 3

التعليمات:

1- أحسب قيمة المبلغ المالي الذي أرجعه البائع لعمي.

2- أمثل المبلغ المالي الذي أرجعه البائع لأبي.

3- أكمل المبلغ المالي الذي أرجعه البائع لخالتي بأقل قطع ممكنة.

## السـ7ـند :

في المساء، ذهبت صحبة أبي إلى مغازة اللعب. أردت شراء قرد بـ 35 مي وكرة ملونة بـ 30 مي. فأخرجت نقودي من جيبي،

10

20

50

التعليمة:

أطرح سؤالين وأجيب عنهما.

مع 5

مع 5

مع 5

مع 5

حظ سعيد



معيار التميز		معايير الحد الأدنى						➔
		مع 4	مع 3	مع 2ب	مع 2أ	مع 1ب	مع 1أ	
معيار 5		0	0	0	0	0	0	-
2.5	2.5	0.5	1	1	1	0.5	1	+--
		1	2	2	2	1	2	++-
		1.5	3	3	3	1.5	3	+++

العدد

20