

السنة الأولى

الاسم:

واللقب:

علي المنصر زريبي

تقييم مكتسبات التلاميذ


نهاية الثلاثي الثاني

إيقاظ علمي

السند 1

يوم الأحد دخلت فاطمة إلى المطبخ لتساعد أمها في إعداد الغداء للضيوف و لذلك اختارت أكبر قدر.

1-1 / أحيط بخط معلق الذي ستختاره فاطمة.



1-2 / ألون الأغذية التي يمكن أن تتناولها فاطمة عند الغداء.



1-3 / أكتب ما يناسب : الليل - النهار

- فاطمة تتناول الغداء في

1-4 / أحيط بخط معلق ما يدل على الزمن الذي اخترته في

المشهد.

1-5 / أضع علامة تحت المشهد الذي تقضي فيه أم فاطمة مدة

زمنية أطول في طبخ الطعام.



مع1ب

مع1أ

مع2ب

مع2ج

مع1ب



1-6 / أضع علامة تحت المشهد الذي يحافظ على صحّة فاطمة



مع1أ

السند2

بعد الغداء خرجت فاطمة إلى الحديقة لتطعم حيواناتها



1-2 / ألوّن أثقل حيوان :

2-2 / أشطب الخطأ.

مع1ب

قدّمت فاطمة للأرنب سمكا / جزرا

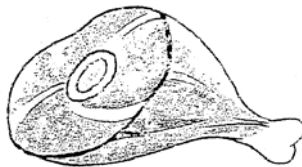
2-3 / أعلل جوابي بكتابة الكلمة المناسبة : لاحم - عاشب

مع3

لأنّ الأرنب حيوان

مع2ج

2-4 / أضع علامة تحت الأغذية المناسبة لميمي ...



مع1أ

2-5 / أكمل بما يناسب : عاشب - لاحم

ميمي حيوان

مع2ب

السند 3

و في المساء جلست فاطمة بجانب أخيها يتفرّجان على شريط هزلي .
أتأمّل المشهد



3-1: أكمل بما يناسب : الليل - النهار

مع2
| |

فاطمة تتفرّج على الشريط في

3-2/ ألون ما يدلّ على ذلك في المشهد

مع2
| |

3-3/ أشطب الخطأ

مع3
| |

يستغرق النوم في الليل مدة زمنيّة أطول
من مدة مشاهدة الشريط مدة زمنيّة أطول

جدول إسناد الأعداد

مع3	معايير الحد الأدنى				مستويات التملك
	مع2ج	مع2ب	مع1ب	مع1أ	
	0	0	0	0	انعدام التملك
3	1,5	1,5	1	1	التملك دون الأدنى
	3	3	2	2	التملك الأدنى
5	4,5	4,5	3	3	التملك