

المستوى: الروض الكبير  
الأسئلة: اكرام ورياضي



مدرسة تربية بن العوام الخاصة  
السنة الدراسية: 2020/2021

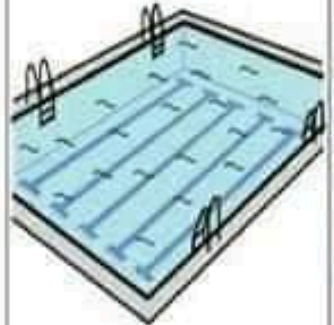


# رياضيات

اضع دائرة حول الجسم الصلب وعلامة حول الجسم السائل:



# رياضيات

اضع علامة تحت الجسم السائل ودائرة تحت الجسم الصلب:



المستوى: الروض الكبير  
الأسبوع: أكرام ورياضي



عدد تزيين العوام الخاصة  
السنة الدراسية: 2020/2021

# رياضيات

أضع علامة امام الجسم الصلب وعلامة حول الجسم السائل:


المستوى: الروض الكبير  
الاستاذة: اكرام ورياشي



مدى تدريس بن العوام لخالصة  
السنة الدراسية: 2020/2021

# تَمارين منزلية



فَ فَا فِ



فَا فَا فَا

فَازَ فُوقَ فِيلَ

للقراءة فقط

فَارَ فَطَرَ فَطَفَ



المستوى: الروض الكبير  
الأمثلة: اكرام ورياضي



مد تربية بن العوام الخاصة  
السنة الدراسية: 2020/2021

# تمارين منزلية

احسب:

$$7 + 1 =$$

$$4 + 2 =$$

$$3 + 3 =$$

$$2 + 4 =$$

$$1 + 5 =$$

$$4 + 6 =$$