

٢٠١٠-٢٠٠٩	٢٠١٠-٢٠٠٩	٢٠١٠-٢٠٠٩
٢٠	٢٠١٠-٢٠٠٩	٢٠١٠-٢٠٠٩
٢٠١٠-٢٠٠٩		

السند 1: حل فصل الشتاء. تجمعت العائلة أمام المدفأة للتسامر و فجأة دق جرس الباب الخارجي للمنزل. أسرع خليل لفتح الباب لكن الهواء البارد لفح وجهه فأحسّ بقشعريرة تهزّ بدنه لقد نسي أن يرتدي معطفه.

التعليمة 1-1: ماهو المرض الذي يمكن أن يهدّد خليلًا .

مع 2 ب

.....

.....

التعليمة 1-2: لماذا قد يصاب خليل بهذا المرض.

مع 2 ج

.....

.....

السند 2: مرض خليل و لزم الفراش. فقرّر زيارة الطبيب الذي وصف له الدّواء و أوصاه بالإكثار من الخضّر و الغلال و نصحه بالتلقيح لأن جسمه ضعيف و لا يمكنه مقاومة المرض.

التعليمة 2-1: ماهو دور القوارص و الخضّر بالنسبة للمصاب بهذا المرض.

مع 2 ب

.....

.....

التعليمة 2-2: أصلح الخطأ.

التلقيح يقضي على المرض تماما .

مع 3

.....

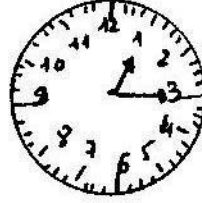


السند 3: هذا اليوم استيقظ خليل على السّاعة التاسعة إلا ربعا لتناول الجرعة الأولى من الدّواء.

التعليمة 3-1: أكتب وقت استيقاظ خليل على السّاعة ذات الخانات.

مع 2 ب

.....

التعليمة 2-3: أحدد وقت تناول الجرعة الثانية من الدواء إذا علمت أن الفرق بين الجرعتين هو 180 دقيقة بوضع علامة (X) تحت الوقت الصحيح.



مع 1 ج

السند 4: عاد رامي إلى الطبيب بعد 10 أيام للمراقبة وهناك وجد رجلاً نظراً إليه وقال في نفسه "سأتجنب الجلوس بجانبه ، أنه مريض بالحصبة "

التعليمة 1-4 : أربط بسهم:

*مرض يصيب الجلد

* مرض يصيب العين

*مرض يصيب الأذن

*مرض الحصبة

مع 1 ج


التعليمة 2-4 : أعطي علامتين لهذا المرض .

- ■
- ■

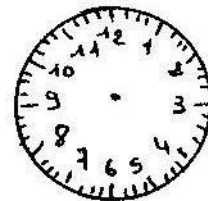
مع 1 ب

السند 5: طال الانتظار نظر خليل إلى ساعته اليدوية لقد مضى على دخوله إلى العيادة

ساعة ونصف



الآن



وقت الدخول

مع 1 ج

التعليمة 1-5: أحدد وقت دخوله إلى العيادة.

السند 6: تأمل خليل ساعته و قال في نفسه "لقد عرفت دور عقرب الدقائق و دور عقرب الساعات لكّني لم أعرف بعد دور القافزة."

التعليمة 1-6: لماذا تستعمل القافزة ؟

مع 2 ج

السند 7 : و فجأة دخل طفل صغير يبكي صحبة أمّه وهي في حالة هلع: لقد عضّه كلب

سائب.

التعليمة 1-7: أضع علامة (X) أمام المرض الذي يهدّد صحّة هذا الطفل.

مع 1 ب



السند 8: أسرعت الممرضة و غسلت الجرح بالماء و الصابون .

التعليمة 1-8: لماذا غسلت الممرضة العضّة بالماء و الصابون ؟

مع 2 ج

السند 9: سألت الممرضة الأمّ عن وقت إصابة ابنها بهذه العضّة فقالت بأنّه مرّ عليها

ساعة و 45 دقيقة

التعليمة 1-9: أصلح الخطأ .

مع 3

ساعة و 45 دقيقة = 115 دقيقة

جدول إسناد الأعداد

معيّار التميّز	معايير الحد الأدنى				
	مع 2 ج	مع 2 ب	مع 1 ج	مع 1 ب	
مع 3	0	0	0	0	انعدام التملك
2.5	1.5	1.5	1	1	التملك دون الأدنى
2,5	3	3	2	2	التملك الأدنى
5	4.5	4.5	3	3	التملك الأقصى