


نشاط تعزيزي



ضع (<)، (>)، ،،




924



649



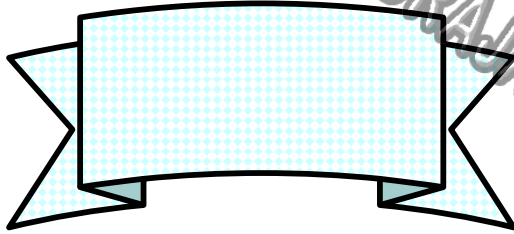
215



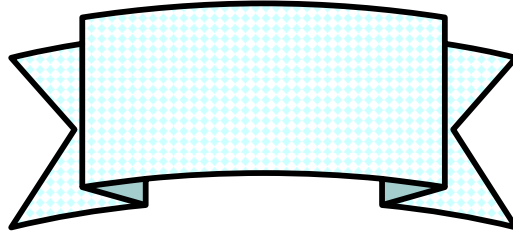
325

كون أكبر عدد وأصغر عدد من ،،

8 ،، 2 ،، 7



أكبر
عدد



أصغر
عدد

أوجد ناتج ما يلي ،،



450 167-	356 627+	439 204-	782 215+

رتب تنازلياً ،،،،،

708	الناتج ،،، طوى لذيذة	782	425



نشاط تعريفي



رتب تنازلياً ،،،،

932	672	695	923



رتب تصاعدياً ،،،،



923	923	923	923


أوجد الناتج ،،،،



870
588-

484
408-

636
125+



ضع (>)، (<) ،،،


675		265
-----	--	-----

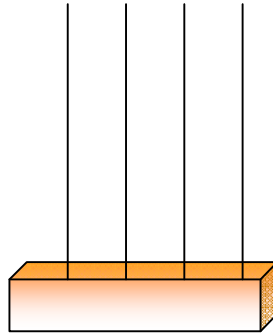
787		887
-----	--	-----

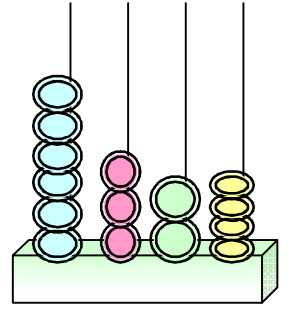
نشاط تعزيزي




أكمل واكتب رموز الأعداد ،،،





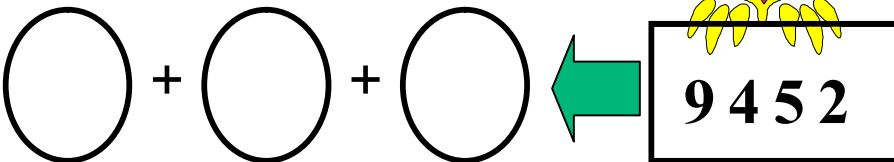


أكمل الأعداد التالية ،،،



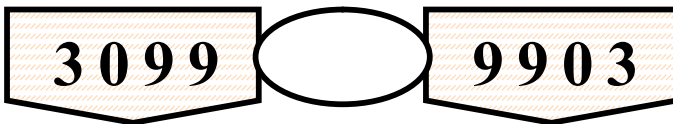
1087

اذكر القيمة المكانية ،،،



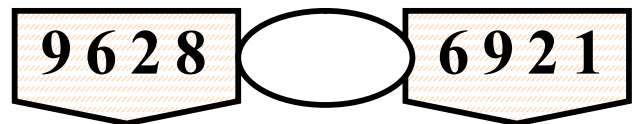
9452

ضع (>) ، (<) ، (=) فيما يلي ،،،



3099

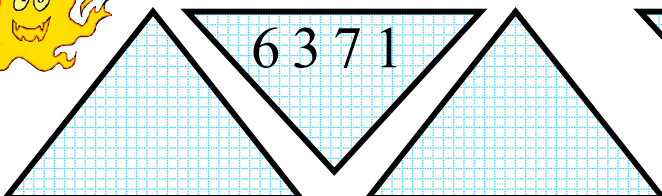
9903



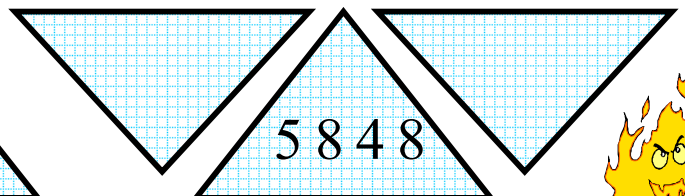
9628

6921

اذكر العدد السابق واللاحق ،،،



6371



5848



نشاط تعزيزي



اذكر الناتج ،،،


$$= 3415 - 6482$$

$$= 4536 + 5346$$



ضع (>) ، (<) ، (=) فيما يلي ،،،


2675 6207 9042 8072




279	1958	+
		7051

أكمل الجمع ،،،

كم يزيد 3724 عن 1068 ؟؟



إذا كان عندك 3821 درهماً واشترت أغراضاً بـ
1538 درهماً ،، فكم يبقى معك ؟؟؟؟



نشاط تعزيزي



اكتب رمز العدد ،،،

الفان وثلاثمائة وواحد



ضع (>) ، (<) ، (=) فيما يلي

5614 < 4165

3106 < 3160

8900 < 9800

أوجد ناتج ما يلي ،،،


2548
3748 +

6183
4549 -

2576
4928 +

رتب تنازلياً ،،،


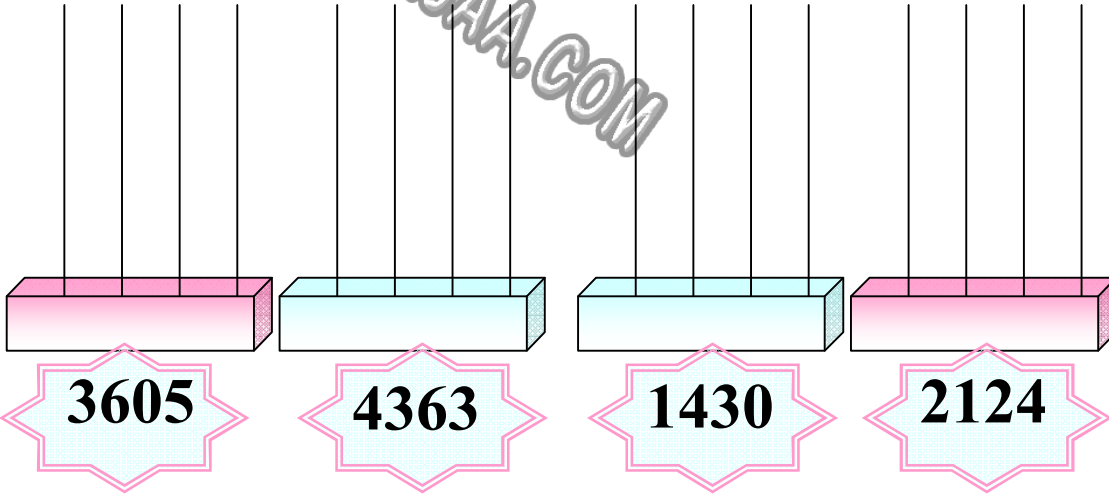
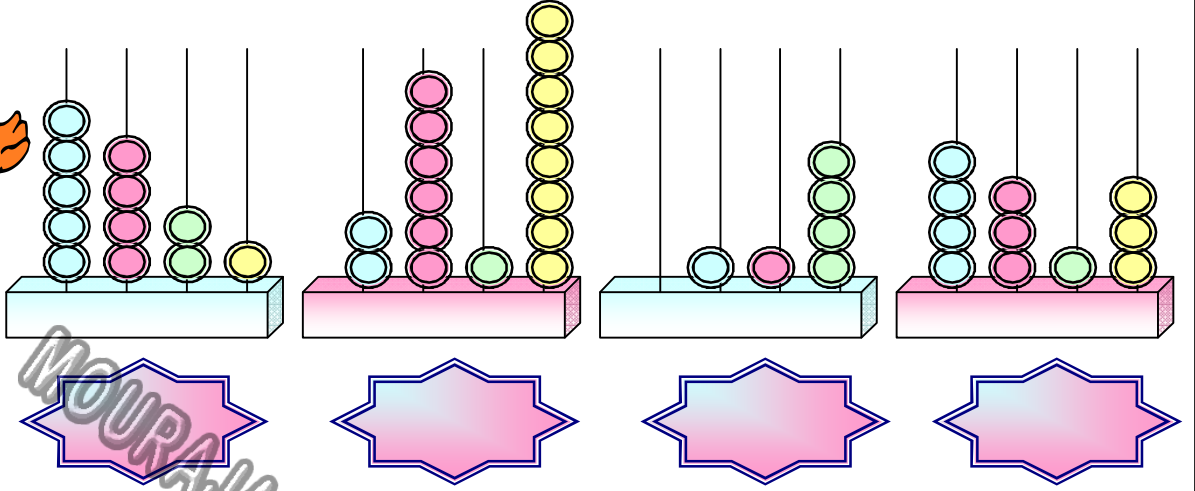

6527 920 2909 6567



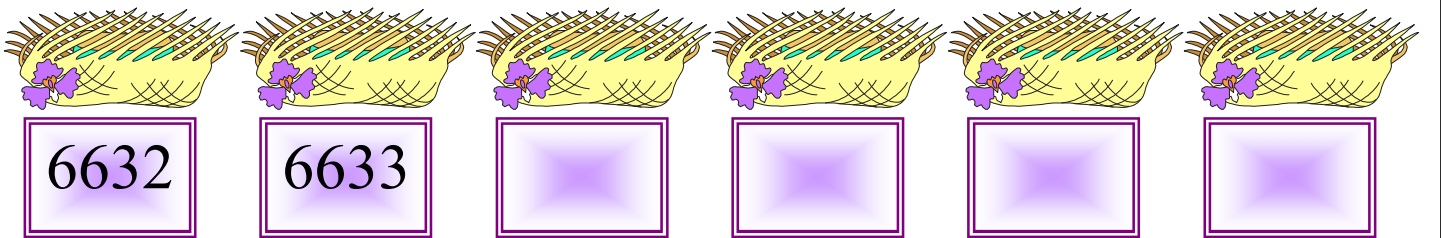
نشاط تعزيزي



اكتب رمز العدد ثم مثل،،،



أكمل كتابة الأعداد ،،،



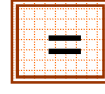

اذكر السابق واللاحق،،،




نشاط تعزيزي



اكتب القيمة المكانية ،،،



3406




اكتب رمز العدد ،،،





9 آلاف و6مئات و 5 عشرات و 7 آحاد

أكمل السلسلة ،،،



اذكر السابق واللاحق ،،،



أوجد الناتج لما يلي ،،،

9 1 4 3


7 6 6 9 -

5 3 6 7

2 8 4 7 +

8 6 3 2

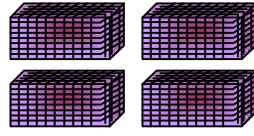
3 7 4 7 -



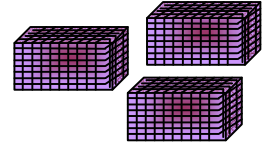
نشاط تعزيزي



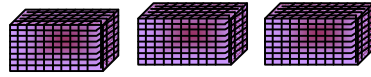
اجمع المئات ،،،




$$\boxed{} = \boxed{}$$



$$\boxed{} + \boxed{}$$



$$\boxed{} = \boxed{}$$



$$\boxed{} + \boxed{}$$

اذكر ناتج المسائل التالية

$$\begin{array}{r} 9586 \\ + 388 \\ \hline \end{array}$$

$$\begin{array}{r} 6807 \\ - 5468 \\ \hline \end{array}$$

$$\begin{array}{r} 1529 \\ + 7487 \\ \hline \end{array}$$

رتب تنازلياً ،،،




7924

8650

7643

8450


كم يزيد 6534 عن 8400 ؟؟



نشاط تعزيزي




أوجد الناتج ،،،،



$$\begin{array}{r} 6970 \\ - 4563 \\ \hline \end{array}$$


$$\begin{array}{r} 5327 \\ + 1654 \\ \hline \end{array}$$

$$\begin{array}{r} 9046 \\ - 2458 \\ \hline \end{array}$$



رتب تصاعدياً ،،،،

4692	6723	9604	6237



ضع (>) ، (<) ، (=) فيما يلي ،،،،،

1052


○

1253

4962

○


9426



2678

○

2678



اذكر العدد السابق واللاحق لما يلي ،،

4072

5840



أوجد ناتج المسائل
التالية ،،



اجمع 2327 و 1225 ؟

.....

كم يزيد 9524 عن 2618 ؟

.....



انقص 6152 من 8743 ؟

.....




ما مجموع 2198 و 4812 ؟

.....





$$\begin{array}{r} 8321 \\ 5675 - \\ \hline \end{array}$$



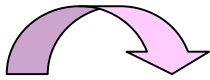

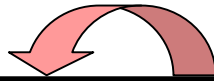
$$\begin{array}{r} 2247 \\ 5688 \quad \bigcirc \\ \hline 7935 \end{array}$$

$$\begin{array}{r} 3974 \\ 3526 \quad \bigcirc \\ \hline 448 \end{array}$$



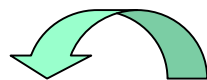
$$\begin{array}{r} 4306 \\ 2567 \quad \bigcirc \\ \hline 6873 \end{array}$$

$$\begin{array}{r} 1453 \\ 7729 \quad \bigcirc \\ \hline 9182 \end{array}$$



$$\begin{array}{r} 7245 \\ 1156 \quad \bigcirc \\ \hline 6089 \end{array}$$

$$\begin{array}{r} 8170 \\ 6465 \quad \bigcirc \\ \hline 1705 \end{array}$$





أوجد الناتج ،،
ولك حلوى لذيذة

162



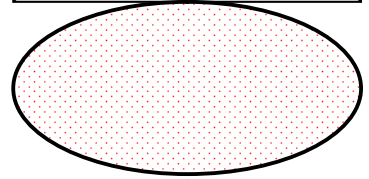
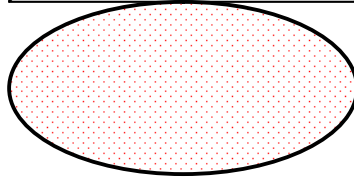
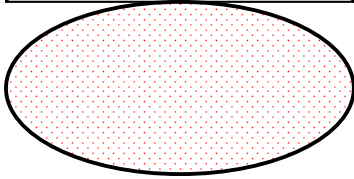
843
6298 +



5480
5296 -



3527
5478 +



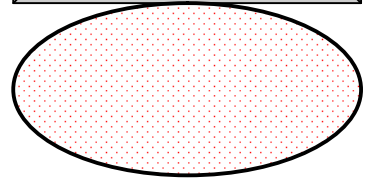
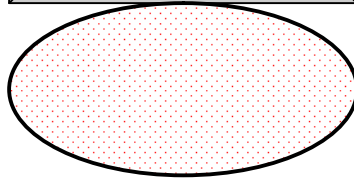
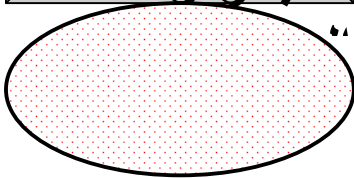
8321
5675 -



4625
2847 +



8432
5165 -



اكتب رمز