

جسر النجاح

الترلائي الأور
أساسي
2

قراءة

أملأ
خط

انتاج
كتابي

رياضيات
حساب ذهني

إيقاظ
علمي

تربية
إسلامية

Français

الامتحانات

مرفق
بإصلاح دقيق



المختار العميري

متفقد عام للمدارس الابتدائية

فوزي بن الشيخ

متفقد أول للمدارس الابتدائية

سليم ريدان

مساعد بيداغوجي

عادل الأنصاري

استاذ مدارس ابتدائية

دار اليمامة
لنشر الكتاب


امتحانات جسر النجاج

المادة : قراءة و فهم
المستوى : السنة الثانية

اختبار نهاية الثلاثي الأول
عدد : 1

الاسم :
اللقب :
القسم :

أقرأ النص :



تنفس الصبح، فاستيقظت الشمس وتململت وأطلت
علينا حجلة. دغدعت بأشعتها الأزهار فتفتحت، ولمست
العصافير ففرقت، وهمست إلى الفراشات المزرکشة فحلقت
وزادت منظر الحديقة جمالا وبهاء.

خرج فادي كعادته كل صباح ووقف أمام قفص كبير به
حمامة بيضاء جميلة، وفتح بابه الحديدي، ومد يده وقال لها:

« أنظري ماذا جلبت لك في يدي؟ ... حبات قمح ذهبية اللون... هيا أقتري... التقطها ولا تخافي! »
رأت الحمامة الحب، فاقتربت من يد فادي ببطء، وأخذت تنقر الحب حبة حبة بحذر، وفادي يتنسم،
وقد أحس بسرور عظيم. وبينما هو في غمرة من المتعة والفرح إذ بصوت يناديه : « فادي ... هيا لتشتري
الخبز... أسرع! ».

لبي فادي النداء، وأسرع نحو أمه، وقد نسي علق باب القفص... وعندما عاد لم يجد الحمامة. فتش في
كل ركن من أركان الحديقة لكن دون جدوى. فأخذ يبكي...

النقاط المُسندة	الأنشطة	المعايير
1	1 - أربط بسهم. • حمامة بيضاء. • عضفورا جميلا. • بلبلا صغيرا.	مع2 <input type="checkbox"/>
1	2 - استخرج الجملة المؤيدة لإجابتي، واكتبها.	مع2 <input type="checkbox"/>
1	3 - أشطب الجملة التي لا تناسب النص. - سمع فادي صوت أمه يناديه.	مع2 <input type="checkbox"/>

- فَرَّتِ الْحَمَامَةُ مِنَ الْقَفْصِ.
- تَبَاطَأَ فَادِي فِي تَلْبِيَةِ نِدَاءِ أُمِّهِ.
4 - أَرَبُّطُ بِمَا يُنَاسِبُ.

مع2أ

- لِيَلْعَبَ مَعَ الْحَمَامَةِ.
• لِيُطْعِمَ الْحَمَامَةَ.
• لِلتَّرْفِيهِ عَنِ نَفْسِهِ.

• خَرَجَ فَادِي إِلَى الْحَدِيقَةِ.

5 - أَسْتَخْرِجُ الْجُمْلَةَ الْمُنَاسِبَةَ لِلصُّورَةِ مِنَ النَّصِّ وَأَكْتُبُهَا.

مع2ب



6 - حَزِنَ فَادِي عِنْدَمَا لَمْ يَجِدِ الْحَمَامَةَ.
- أَكْتُبُ الْجُمْلَةَ الدَّالَّةَ عَلَى ذَلِكَ.

مع2ب

7 - أَبْحَثُ فِي النَّصِّ عَنِ مُرَادِفِ الْكَلِمَاتِ التَّالِيَةِ.

مع2ج

.....
.....
.....

بَحَثٌ =
بِتَيْقُظٍ =
شِدَّةٍ =

8 - أَضَعُ أَلْعَلَامَةَ (x) أَمَامَ مَا يَتَّصِفُ بِهِ فَادِي.

مع3

طَاعَةُ الْوَالِدَيْنِ

الاسْتِهْتَارُ

الْحِرْصُ

9 - قَامَ فَادِي بِتَرْبِيَةِ حَمَامَةٍ. هَلْ تُوَافِقُهُ أَمْ لَا؟ وَلِمَاذَا؟

الرَّأْيُ :
التَّغْلِيلُ :

جَدْوَلُ إِسْنَادِ الْأَعْدَادِ

معايير التَّمَكُّنِ مُسْتَوِيَّاتُ التَّمَكُّنِ	مَعَايِيرُ الْحَدِّ الْأَدْنَى			المعايير	
	مع3	مع2ج	مع2ب		مع2أ
القِرَاءَةُ الْجَهْرِيَّةُ : معا1 : القِرَاءَةُ السَّليمة مِنَ الْأَخْطَاءِ : مِنْ 0 إِلَى 2,5	0	0	0	0	إِنْعِدَامُ التَّمَكُّنِ
القِرَاءَةُ الْمُسْتَرْسَلَةُ : مِنْ 0 إِلَى 2,5	0,5	1	1	1	التَّمَكُّنُ دُونَ الْأَدْنَى
القِرَاءَةُ الْمُتَعَمَّةُ : مِنْ 0 إِلَى 3	1,5 - 1	2	2	2	التَّمَكُّنُ الْأَدْنَى
$\frac{\cdot}{20} = \frac{\cdot}{12} + \frac{\cdot}{8}$	3	3	3	3	التَّمَكُّنُ الْأَفْصَى

إِمْتِحَانَاتِ جِسْرِ النَّجَاحِ

إِخْتِبَارِ نِهَايَةِ الثَّلَاثِي الْأَوَّلِ

عَدَد : 2

الْمَادَّة : قِرَاءَةٌ وَ فَهْمٌ
الْمُسْتَوَى : السَّنَةِ الثَّانِيَةِ

الْأَسْمَاءُ :
الْلُقَبُ :
الْقِسْمُ :

أَقْرَأُ النَّصَّ :

كَبُرَتْ فِرَاحُ الْحَجَلِ وَبَتَّ لَهَا رِيشُ نَاعِمٍ مُزْرَكَشٍ، فَصَارَتْ تُغَادِرُ الْعُشَّ لِتَتَفَسَّحَ وَتَكْتَشِفَ الْمَكَانَ.
تَقَطَّنَتْ إِلَيْهَا الْحَجَلَةُ الْأُمُّ، فَحَدَّرَتْهَا وَأَوْصَتْهَا بِأَلَّا تَبْتَعِدَ كَثِيرًا خَوْفًا عَلَيْهَا مِنْ خَطَرِ الْحَيَوَانَاتِ الْمُفْتَرِسَةِ.
ذَاتَ صَبَاحٍ، طَارَتِ الْحَجَلَةُ بَعِيدًا، تَبَحَّثَ عَنْ قُوتِ صِغَارِهَا، فَخَرَجَتِ الْفِرَاحُ كَعَادَتِهَا وَتَفَرَّقَتْ عَنْ
بَعْضِهَا، فَأَضَاعَ أَحَدُهَا طَرِيقَهُ وَأَخَذَ يَسِيرُ نَائِهَا. رَأَاهُ تُعَلَّبُ فَجَعَلَ يَقْتَرِبُ مِنْهُ وَيُخَاتِلُهُ، فَأَحَسَّ بِهِ الْفَرُخُ وَطَارَ عَلَى
عُصْنِ شَجَرَةٍ، وَبَقِيَ يَرْتَعِدُ مِنَ الْخَوْفِ.
وَفَجْأَةً سَمِعَ حَفَقَ أَجْنِحَةِ حَوْلَهُ، فَإِذَا هِيَ أُمُّهُ تَلْتَقِطُهُ بِمِنْقَارِهَا وَتَلُومُهُ عَلَى صَنِيعِهِ.

النَّقَاطُ الْمُسْتَدَّةُ	الْأَنْشِطَةُ	الْمَعَايِرُ
1	<ul style="list-style-type: none"> • لِتَبَحَّثَ عَنْ قُوتِهَا. • لِتَكْتَشِفَ الْمَكَانَ. • لِتَبَحَّثَ عَنْ أُمَّهَا. 	<p>1 - أ / أَرْبُطُ بِسَهْمٍ :</p> <p>تُغَادِرُ فِرَاحُ الْحَجَلِ الْعُشَّ</p> <p>مع 2</p> <input type="checkbox"/>
1		<p>1 - ب / أَسْتَخْرِجُ الْقَرِينَةَ الدَّالَّةَ عَلَى ذَلِكَ</p> <p>مع 2</p> <input type="checkbox"/>
1		<p>2 - مَا هِيَ النَّصِيحَةُ الَّتِي وَجَّهَتْهَا الْحَجَلَةُ الْأُمُّ لِفِرَاحِهَا الصَّغِيرَةِ ؟</p> <p>مع 2</p> <input type="checkbox"/>
1		<p>3 - لَمْ تَعْمَلِ الْفِرَاحُ الصَّغِيرَةُ بِنَصِيحَةِ الْأُمِّ. أُبْحَثُ فِي النَّصِّ عَنِ الْقَرِينَةِ الدَّالَّةِ عَلَى ذَلِكَ</p> <p>مع 2</p> <input type="checkbox"/>

4 - أ / أَفْرَأُ وَأَضْعُ عَلَامَةً (x) أَمَامَ الْجُمْلَةِ الصَّحِيحَةِ.

إِنْقَضَ الثُّغْلَبُ عَلَى فَرْخِ الْحَجَلِ.

تَفْطَنُ فَرْخُ الْحَجَلِ إِلَى الثُّغْلَبِ.

عَادَ فَرْخُ الْحَجَلِ إِلَى الْعُشِّ بِمُفْرَدِهِ.

4 - ب / اسْتَخْرِجْ مِنَ النَّصِّ الْقَرِيْنَةَ الدَّالَّةَ عَلَى صِحَّةِ اخْتِيَارِي.

1

1

5 - أَفْرَأُ النَّصَّ ثُمَّ أَرْتَبُ الْأَحْدَاثَ التَّالِيَةَ بِوَضْعِ الْأَرْقَامِ مِنْ 1 إِلَى 3.

أَحَدُ فِرَاخِ الْحَجَلِ يُضِيعُ طَرِيقَهُ.

أُمُّ فِرَاخِ الْحَجَلِ تَلْتَقِطُ صَغِيرَهَا وَتَعُودُ بِهِ إِلَى الْعُشِّ.

فِرَاخُ الْحَجَلِ تُغَادِرُ الْعُشَّ لِتَكْتَشِفَ الْمَكَانَ.

6 - اسْتَخْرِجْ مِنَ النَّصِّ مُرَادِفًا لِكُلِّ مُفْرَدَةٍ مِمَّا يَلِي:

نَبَهَتْهَا =

يَخْدَعُهُ =

صَائِعًا =

7 - أ / مَا رَأَيْكَ فِي تَصْرُفَاتِ فِرَاخِ الْحَجَلِ ؟ عِلِّدْ رَأْيَكَ

تَصْرُفَاتِ فِرَاخِ الْحَجَلِ

لِأَنَّهَا

7 - ب / بِمَ تَصِفُ الْحَجَلَةَ الْأُمَّ ؟

لِمَاذَا ؟

0,5

0,5

0,5

0,5

0,5

0,5

0,5

1

0,5

1

12 مع

2 مع ب

2 مع ج

2 مع د

3 مع

3 مع

جَدْوَلُ إِسْتِنَادِ الْأَعْدَادِ

معايير التمييز	معايير الحد الأدنى					مستويات التملك
	معايير 1	معايير 2	معايير 3	معايير 4	معايير 5	
القراءة السليمة من الأخطاء: من 0 إلى 2,5	3 مع	2 مع	2 مع	2 مع	2 مع	إعدام التملك (---)
القراءة المسترسلة: من 0 إلى 2,5	0	0	0	0	0	التملك دون الأدنى (++)
القراءة المنعممة: من 0 إلى 3	0,5	0,5	0,5	0,5	0,5	التملك الأدنى (+++)
	2 - 1	1	1	1	1	التملك الأقصى (++++)
	3	1,5	1,5	1,5	1,5	

$$\frac{1}{20} = \frac{1}{12} + \frac{1}{8}$$

إِمْتِحَانَاتِ جِسْرِ النَّجَاحِ

المادة : قراءة و فهم
المستوى : السنة الثانية

اختبار نهاية الثلاثي الأول
عدد : 3

الاسم :
اللقب :
القسم :



أقرأ النص :

رَحَلَ فَصَلَ الشَّتَاءِ بِبُرْدِهِ الْقَارِسِ، وَعَوَاصِفِهِ الْمُخِيفَةِ،
وَرَعْدِهِ الْمُزْمَجِرِ. وَجَاءَ فَصَلَ الرَّبِيعِ بِسَمَائِهِ الصَّافِيَةِ الزَّرْقَاءِ،
وَسَمْسِهِ الْمُشْرِقَةِ الدَّافِنَةِ، وَنَسِيمِهِ الْعَلِيلِ الْمُنْعِشِ. فَفَرِحَ
الْأَطْفَالُ بِمَقْدَمِهِ وَخَرَجُوا إِلَى الْحُقُولِ الْخَضِرَاءِ وَالْبَسَاتِينِ
الْغَنَاءِ لِلِاسْتِمْتَاعِ بِجَمَالِ الرَّبِيعِ الْأَخَازِ.

جَرَى خَلِيلٌ وَعَلَاءٌ وَقَادِي وَسَطَ الْعُشْبِ الْأَخْضَرِ يَنْعَمُونَ بِأَعَارِيدِ الطُّيُورِ الْمُتَرْتِمَةِ، وَيَسْتَنْشِقُونَ
الْعِطْرَ الشَّدِيدِي، وَيُرَاقِبُونَ أَسْرَابَ النُّحْلِ وَقَدْ أَرْتَفَعَ طِينُهَا كَمُوسِيقَى عَذْبَةٍ وَهِيَ تَنْتَقِلُ بَيْنَ الْأَزْهَارِ السَّاحِرَةِ :
فِيهِدِهِ شَقَائِقُ النُّعْمَانِ حَمْرَاءُ قَانِيَةٌ وَتِلْكَ الْأَقَاحِي صَفْرَاءُ فَاقِعَةٌ أَوْ بَيْضَاءُ نَاصِعَةٌ.
خَطَرَ بِبَالِ خَلِيلٍ أَنْ يَقْبِضَ عَلَى بَعْضِ النُّحْلِ، وَيَضَعَهُ فِي قَارُورَةٍ مِنَ الْبِلُورِ وَجَدَهَا مَرْمِيَّةً هُنَاكَ
وَسُرْعَانَ مَا انْتَقَلَ الْأَطْفَالُ إِلَى تَنْفِيذِ الْفِكْرَةِ.

دَارُ الْيَمَامَةِ (أَتْرُكُوهَا إِنَّهَا نَافِعَةٌ) - بتصرف -

النقاط المُسْتَدَّة	الأشْطَه	التعابير
1	<ul style="list-style-type: none"> فَرَاشَاتٍ مُزْرَكَشَةٍ. بَعْضِ النُّحْلِ. طُيُورٍ جَمِيلَةٍ. 	<p>1 - أَرَبِّطْ بِسَهُمِ :</p> <p>معداً <input type="checkbox"/></p> <p>فَكَرَّ خَلِيلٌ فِي الْقَبْضِ عَلَى</p>
1	<p>2 - اسْتَخْرِجْ الْجُمْلَةَ الْمُؤَيَّدَةَ لِإِجَابَتِي، وَأَكْتُبْهَا.</p> <p>.....</p> <p>.....</p>	<p>معجب <input type="checkbox"/></p>
1	<p>3 - اشْطَبُ الْجُمْلَةَ الَّتِي لَا تَنَاسِبُ النَّصَّ.</p> <p>- تَجَوَّلَ الْأَطْفَالُ بَيْنَ الْبَسَاتِينِ.</p> <p>- تَجَوَّلَ الْأَطْفَالُ بَيْنَ الْحُقُولِ فِي فَصْلِ الشَّتَاءِ.</p> <p>- خَرَجَ الْأَطْفَالُ لِلتَّجَوُّلِ فِي فَصْلِ الرَّبِيعِ.</p>	<p>معداً <input type="checkbox"/></p>

4 - أَرْبُطُ بِمَا يَنَاسِبُ :

1

- لِلْعَيْبِ.
- لِصَيْدِ النَّحْلِ.
- لِالاسْتِمْتَاعِ بِجَمَالِ الرَّبِيعِ.

• خَرَجَ الْأَطْفَالُ إِلَى الْحُقُولِ

مع2أ

5 - اسْتَخْرِجُ الْجُمْلَةَ الْمُنَاسِبَةَ لِلصُّورَةِ مِنَ النَّصِّ وَكْتُبْهَا.



1

.....

.....

.....

مع2ب

6 - قَامَ الْأَطْفَالُ بِصَيْدِ النَّحْلِ.

- اَكْتُبُ الْجُمْلَةَ الدَّالَّةَ عَلَى ذَلِكَ مِنَ النَّصِّ :

مع2ب

1

.....

.....

7 - اَبْحَثْ فِي النَّصِّ عَن مَرَادِفِ الْكَلِمَاتِ التَّالِيَةِ :

مع2ج

مَرَّ =
لَاخَ =
يَسْتَمْتِعُونَ =

8 - اَضَعِ الْعَلَامَةَ (x) اَمَامَ مَا يَتَّصِفُ بِهِ خَلِيلٌ.

الْعُرُورُ

الْمُشَاكَسَةُ

الْهُدُوءُ

مع3

9 - قَامَ الْأَطْفَالُ بِصَيْدِ النَّحْلِ. هَلْ تُوَافِقُهُمْ أَمْ لَا ؟ وَلِمَاذَا ؟

- الرَّأْيُ :

- التَّعْلِيلُ :

جَدْوَلُ اسْتَادِ الْأَعْدَادِ

مع1 : الْقِرَاءَةُ الْجَهْرِيَّةُ
الْقِرَاءَةُ السَّلِيمَةُ مِنَ الْأَخْطَاءِ : مِنْ 0 إِلَى 2,5
الْقِرَاءَةُ الْمُسْتَرْسَلَةُ : مِنْ 0 إِلَى 2,5
الْقِرَاءَةُ الْمُتَعَمَّةُ : مِنْ 0 إِلَى 3
$\frac{1}{20} = \frac{1}{12} + \frac{1}{8}$

مِغْيَارُ التَّمْيِيزِ	مَعَايِيرُ الْحَدِّ الْأَدْنَى			مُسْتَوِيَّاتُ التَّمَلُّكِ
	مع2	مع2ب	مع2ج	
3	0	0	0	إِنْعِدَامُ التَّمَلُّكِ (---)
0	1	1	1	التَّمَلُّكُ دُونَ الْأَدْنَى (+--)
1	2	2	2	التَّمَلُّكُ الْأَدْنَى (++-)
2	3	3	3	التَّمَلُّكُ الْأَقْصَى (+++)

إِمْتِحَانَاتِ جِسْرِ النِّجَاحِ

المادة : قراءة و فهم
المستوى : السنة الثانية

اختبار نهاية الثلاثي الأول

عدد : 4

الاسم :
اللقب :
القسم :

أقرأ النص :

تَوَعَّلَ حَطَابٌ فِي غَابَةِ كَثِيفَةِ الْأَشْجَارِ، كَثِيرَةَ الْعَصَافِيرِ وَالْحَمَامِ. اخْتَارَ مَكَانًا ظَلِيلًا، وَجَلَسَ مُسْنِدًا ظَهْرَهُ جِذْعَ شَجَرَةٍ فَيَحَاءَ.

وَضَعَ فَأْسَهُ جَانِبًا، ثُمَّ فَتَحَ جِرَابَهُ وَأَخَذَ قَارُورَةَ مَاءٍ لِيَشْرَبَ مِنْهَا وَيُرْوِيَ ظَمَأَهُ. نَظَرَ لِلْأَشْجَارِ كَأَنَّهُ سَيَنْتَقِي وَاحِدَةً لِيَنْقُضَ عَلَيْهَا بِفَأْسِهِ يَقْطَعُ جِذْعَهَا لِيَحْرِمَهَا مِنَ الْحَيَاةِ...

فَكَرَّ وَهَمَسَ قَائِلًا : « أَجْدَادِي غَرَسُوا، وَأَنَا أَقْلَعُ الْأَشْجَارَ لِأَبِيعَ حَطْبَهَا... لَقَدْ حَطَّمْتُ بِفَأْسِي هَذِهِ عَشْرَاتِ الْأَشْجَارِ... سَأَتْلِفُ الْغَابَةَ إِنْ وَاصَلْتُ أَنَا وَأَمْثَالِي مِنَ الْحَطَّابِينَ مِثْلَ هَذَا الْعَمَلِ... سَنُحْرِمُ مِنَ الْحَطْبِ، وَسَتَهَاجِرُ الْعَصَافِيرُ وَالْأَرْضُ سَتُصْبِحُ قَاحِلَةً... »

وَضَعَ فَأْسَهُ عَلَى ظَهْرِهِ وَقَفَلَ رَاجِعًا إِلَى مَنْزِلِهِ مُفَكِّرًا عَاقِدًا الْعَزْمَ عَلَى إِعَادَةِ غِرَاسَةِ مَا حَطَّمَهُ بِسَاعِدِهِ.

النقاط المستند	الأنشطة	المعايير
0,5 0,5 0,5	1 - أضع العلامة (x) أمام الإجابة المناسبة للنص : يَذْهَبُ الْحَطَّابُ إِلَى الْغَابَةِ مَعَ صَاحِبِهِ. يَقْطَعُ الْحَطَّابُ الْأَشْجَارَ بِمِنْشَارٍ كَهَرَبَاتِيٍّ. يَقْطَعُ الْحَطَّابُ الْأَشْجَارَ بِفَأْسٍ.	مع 2 <input type="checkbox"/> <input type="checkbox"/> <input type="checkbox"/>
0,5	2 - أدعم إجابتني بقريئة من النص.	مع 2 ج <input type="checkbox"/>
0,5	3 - كيف تُصبح الغابة إن واصل الحطابون قلع الأشجار ؟	مع 2 <input type="checkbox"/>
0,5 0,5 0,5	4 / أرتب أحداث النص. الجلوس للإستراحة. التوغل في الغابة. العزم على غراسة الأشجار.	مع 2 <input type="checkbox"/> <input type="checkbox"/> <input type="checkbox"/>

15 / غَيْرِ الْحَطَّابِ مَوْقِفُهُ عَمَّا كَانَ عَلَيْهِ فِي بَدَايَةِ النَّصِّ. أَقْرَأْ وَأَجِيبْ.

0,5

..... مَا هُوَ مَوْقِفُ الْحَطَّابِ فِي بَدَايَةِ النَّصِّ ؟

0,5

..... الدَّلِيلُ :

0,5

..... مَا هُوَ مَوْقِفُ الْحَطَّابِ فِي نِهَايَةِ النَّصِّ ؟

0,5

..... الدَّلِيلُ :

6 - أَشْرَحُ الْكَلِمَةَ الْمُسَطَّرَةَ.

0,5

..... تَوَعَّلَّ حَطَّابٌ فِي غَابَةِ :

0,5

..... يَرْوِي ظَمَأَهُ :

0,5

..... شَجَرَةَ فَيْحَاءَ :

7 - أَرْبُطُ الْحَدِيثَ بِزَمَانٍ وَقُوعِهِ.

0,5

• الْحَاضِرُ

• غَرَسَ الْأَجْدَادُ الْأَشْجَارَ

0,5

• الْمُسْتَقْبَلُ

• يَقْطَعُ الْحَطَّابُ الْأَشْجَارَ

0,5

• الْمَاضِي

• سَيَغْرِسُ الْحَطَّابُ الْأَشْجَارَ

8 - رَفَعَ الْحَطَّابُ فَأَسَهُ لِيَقْطَعَ غُصْنَ الشَّجَرَةِ، فَتَوَسَّلْتُ إِلَيْهِ. تَرَى مَاذَا سَتَقُولُ لَهُ ؟

1

9 - لَوْ كُنْتَ مَكَانَ الْحَطَّابِ، كَيْفَ تَتَصَرَّفُ حَتَّى تَكْسِبَ رِزْقَكَ مِنْ بَيْعِ الْحَطَبِ، وَتُحَافِظَ عَلَى الْأَشْجَارِ فِي نَفْسِ الْوَقْتِ.

1

1

جَدْوَلُ إِسْنَادِ الْأَعْدَادِ

مع1 : الْقِرَاءَةُ الْجَهْرِيَّةُ	مِغْيَارُ التَّمْيِيزِ	مَعَايِرُ الْحَدِّ الْأَدْنَى					مُسْتَوْنَاتُ التَّمَلُّكِ
		مع2	مع2د	مع2ج	مع2ب	مع2أ	
..... الْقِرَاءَةُ السُّلِيمَةُ مِنَ الْأَخْطَاءِ: مِنْ 0 إِلَى 2,5	مع3	مع2ه	مع2د	مع2ج	مع2ب	مع2أ	إِنْعِدَامُ التَّمَلُّكِ (---)
..... الْقِرَاءَةُ الْمُسْتَرْسَلَةُ : مِنْ 0 إِلَى 2,5	0	0	0	0	0	0	التَّمَلُّكُ دُونَ الْأَدْنَى (+--)
..... الْقِرَاءَةُ الْمُتَنَعَّمَةُ : مِنْ 0 إِلَى 3	1	0,5	0,5	0,5	0,5	1 - 0,5	التَّمَلُّكُ الْأَدْنَى (++)
.....	2	1	1	1	1	2 - 0,5	التَّمَلُّكُ الْأَدْنَى (+++)
.....	3	1,5	1,5	1,5	1,5	3 - 2,5	التَّمَلُّكُ الْأَقْصَى (++++)

$$\frac{20}{20} = \frac{12}{12} + \frac{8}{8}$$

إِمْتِحَانَات جِسْر النُّجَاح

إِخْتِبَار نِهَآيَةِ الثَّلَاثِي الْأَوَّل

عَدَد : 5

الْمَادَّة : قِرَاءَةٌ وَ فَهْمٌ
الْمُسْتَوَى : السَّنَةِ الثَّانِيَةِ

الاسم :
اللقب :
القسم :

الزَّائِرُ الْغَرِيبُ

أَقْرَأُ النَّصَّ :

تَجَمَّعَ الْأَطْفَالُ فِي سَاحَةِ الْحَيِّ وَتَوَافَقُوا عَلَى صُنْعِ لُعْبَةٍ يَلْعَبُونَ بِهَا. أَخْضَرَ بَدْرَانٌ مَا يَلْزَمُ مِنْ أَدْوَابٍ، وَجَلَبَتْ زَهْرَاءُ أَوْرَاقًا مُخْتَلِفَةً الْأَحْجَامِ وَالْأَلْوَانِ، وَأَنْتَ رِيْمَةُ بِأَشْرَطِيَةِ مِنَ الشَّمَاشِ، وَتَوَزَّعُوا إِلَى فَرِيقَيْنِ: فَرِيقٌ يَرَسُمُ عَلَى الْوَرَقِ الْمُقَوَّى نَسْرًا يَفْتَحُ جَنَاحَيْهِ وَفَرِيقٌ يُلَوِّنُ الرُّسُومَ وَيُفَضِّلُ الْأَشْكَالَ. فَرَعَ الْأَطْفَالُ مِنَ الْعَمَلِ، وَوَقَّفُوا يَنْظُرُونَ إِلَى طَائِرَاتِهِمْ الْوَرَقِيَّةِ بِإِعْجَابٍ، ثُمَّ صَاحُوا: «مَرَحَى! مَرَحَى! هَيَّا نُطَيِّرْهَا فِي الْفَضَاءِ. أَمْسِكِ الْأَطْفَالَ بِطَرَفِ الْخَيْطِ، وَأَطْلِقُوا يَرْتَدُّونَ، فَإِنَّهُنَّ الطَّيَّارَةُ فِي السَّمَاءِ، وَقَالَتْ وَفَاءُ: « مَا أَكْبَرَ هَذَا النَّسْرَ الْمُحَلَّقَ! » وَفَجْأَةً، هَبَّتْ رِيحٌ قَوِيَّةٌ، فَسَقَطَتِ الطَّيَّارَةُ عَلَى شَجَرَةٍ، وَوَقَّعَتْ قُرْبَ عُشِّ صَغِيرٍ، فَخَافَتِ الْعَصَافِيرُ وَصَاحَتْ: « يَا وَيْلَنَا! مَنْ هَذَا الزَّائِرُ الْغَرِيبُ؟ » .

النَّقَاطُ الْمُسْتَدَدَةُ	الأشْطَطَةُ	المَعَايِيرُ
0,5 0,5 0,5	1- أضع العلامَةَ (x) أمامَ المَكَانِ الَّذِي دَارَتْ فِيهِ الْأَخْدَاتُ. في سَاحَةِ الْمَدْرَسَةِ. <input type="checkbox"/> في الغَابَةِ. <input type="checkbox"/> في سَاحَةِ الْحَيِّ. <input type="checkbox"/>	مع 2 <input type="checkbox"/> <input type="checkbox"/>
0,5 0,5 0,5	2- أجب بـ: «صَوَابٌ أَوْ حَطَأٌ». رَسَمَ الْأَطْفَالُ عَلَى الْوَرَقِ الْمُقَوَّى لُغْبَانًا. اسْتَقْبَلَتِ الْعَصَافِيرُ الزَّائِرَ بِفَرَحٍ. سَقَطَتِ الطَّيَّارَةُ قُرْبَ عُشِّ الْعَصَافِيرِ.	مع 2 <input type="checkbox"/> <input type="checkbox"/>
0,5	3- اسْتَخْرِجْ مِنَ النَّصِّ الْجُمْلَةَ الَّتِي تَدُلُّ عَلَى الْإِجَابَةِ الصَّائِبَةِ.	مع 2 <input type="checkbox"/>
0,5 0,5 0,5	4- أربط كلَّ شَخْصِيَّةٍ بِالْعَمَلِ الَّذِي أَنْجَزْتَهُ: • زَهْرَاءُ • أَنْتَ بِأَشْرَطِيَةِ مِنَ الشَّمَاشِ. • رِيْمَةُ • أَخْضَرَ مَا يَلْزَمُ مِنْ أَدْوَابٍ. • بَدْرَانٌ • جَلَبَتْ أَوْرَاقًا مُخْتَلِفَةً الْأَحْجَامِ وَالْأَلْوَانِ.	مع 2 <input type="checkbox"/> <input type="checkbox"/>

5 - أَسْتَخْرِجُ مِنَ النَّصِّ مَا يَدُلُّ عَلَى إِعْجَابِ الْأَطْفَالِ بِطَائِرَتِهِمْ.

0,5

مع 2

6 - بِمَ شَعُرْتَ وَفَاءَ حِينَ رَأَتِ الطَّائِرَةَ تَرْتَفِعُ فِي السَّمَاءِ ؟

0,5

مع 2

7 - أَيُّدُ جَوَابِكَ بِقَرِينَةٍ دَالَّةٍ تَسْتَخْرِجُهَا مِنَ النَّصِّ.

0,5

مع 2

8 - أ- أَعْرِضْ مَوْقِعَ الْجُزْءِ الْمُسَطَّرِ فِي مَكَانٍ آخَرَ مِنَ الْجُمْلَةِ الْآتِيَةِ :
صَنَعَ الْأَطْفَالُ بِأَعْوَادِ الْقَصَبِ وَالْكَاغِدِ طَيَّارَةً.

مع 2

8 - ب- أَكُونُ سُؤَالَ يَبْدَأُ بِ «لِمَاذَا» تَتِمُّ الْإِجَابَةُ عَنْهُ بِالْجُمْلَةِ الْآتِيَةِ :
سَقَطَتِ الطَّائِرَةُ لِأَنَّ الرِّيحَ هَبَّتْ بِقُوَّةٍ.

0,5

مع 2

0,5

9 - أَكْتُبْ تَحْتَ كُلِّ كَلِمَةٍ مُسَطَّرَةٍ مُرَادِفَهَا مِمَّا يَلِي :

يَتَأَمَّلُونَ - فِي انبِهَارٍ - انْتَهَى

فَرَعَ الْأَطْفَالُ مِنَ الْعَمَلِ، وَوَقَفُوا يَنْظُرُونَ إِلَى طَائِرَتِهِمْ الْوَرَقِيَّةِ بِإِعْجَابٍ.

مع 2

0,5

0,5

0,5

..... الْأَطْفَالُ مِنَ الْعَمَلِ، وَوَقَفُوا طَائِرَتِهِمْ الْوَرَقِيَّةِ

10 - أَيُّهُمَا تَفْضَلُ، لُعْبَةٌ تَصْنَعُهَا بِنَفْسِكَ أَمْ لُعْبَةٌ تَشْتَرِيهَا ؟

مع 3

1

1

1

عَلِّلْ اخْتِيَارَكَ :

مع 3

جَدْوَلُ إِسْنَادِ الْأَعْدَادِ

مَعَارِيزُ التَّمْيِيزِ	مَعَارِيزُ الْحَدِّ الْأَدْنَى							مُسْتَوَانَاتُ التَّمَلُّكِ
	مع 3	مع 2و	مع 2هـ	مع 2د	مع 2ج	مع 2ب	مع 2أ	
القراءةُ السليمةُ مِنَ الأخطاءِ: مِنْ 0 إِلَى 2,5	3	2	2	2	2	2	2	إِنْعِدَامُ التَّمَلُّكِ (---)
القراءةُ المُسْتَرَسَلَةُ: مِنْ 0 إِلَى 2,5	0	0	0	0	0	0	0	التَّمَلُّكُ دُونَ الْأَدْنَى (+--)
القراءةُ الْمُتَنَعِّمَةُ: مِنْ 0 إِلَى 3	1	0,5	0,5	0,5	0,5	0,5	0,5	التَّمَلُّكُ الْأَدْنَى (++-)
	2	1	1	1	1	1	1	التَّمَلُّكُ الْأَدْنَى (++-)
$\frac{20}{20} = \frac{12}{12} + \frac{8}{8}$	3	1,5	1,5	1,5	1,5	1,5	1,5	التَّمَلُّكُ الْأَفْصَى (++++)

إِمْتِحَانَات جِسْرِ النَّجَاح

المَادَّة : حَطُّ وَ إِمْلَاءُ
المُسْتَوَى : السَّنَةِ الثَّانِيَةِ

إِخْتِبَار نِهَآيَةِ الثَّلَاثِي الأَوَّل
عَدَد : 1

الاسم :
اللقب :
القسم :

الأَنْشِطَةُ

المَعَايِيرُ

النَّقَاطُ
المُسْتَدَدَةُ

0,5
لكل حرف

1 - اُنسُخْ عَلَى مِثَالِ المِثَالِ :

الوُضُوحُ
الجَمَالِيَّةُ

سَ . . . صَ

الوُضُوحُ
الجَمَالِيَّةُ
التَّنَاسُقُ

0,5
لكل كلمة

أَصِيصٌ

و
الاسْتِرْسَالُ

2 - أُعِيدُ كِتَابَةَ الجُمْلَةِ.

لِسَانِكَ حِصَانِكَ إِنِ صُنْتَهُ صَانِكَ .

الوُضُوحُ
الجَمَالِيَّةُ
التَّنَاسُقُ

0,5
لكل كلمة

10

1 - أَكْمَلِ الكَلِمَاتِ بِالحُرُوفِ المُنَاسِبَةِ (سَا - صِي - صَ - سَ)

و
الاسْتِرْسَالُ

قَفَّ... - جَرَّ... - وَ... دَهَّ - حَ...رَّ

السَّلَامَةُ
مِنَ
الأَخْطَاءِ

0,5
لكل حرف

2 - أَكْمَلِ بِالإِسْمِ المُنَاسِبِ لِلصُّورَةِ.

فِي صَبِيحَةِ يَوْمِ العِيدِ لَبِسْتُ سَعَادُ جَمِيلاً وَانْتَعَلْتُ



السَّلَامَةُ
مِنَ
الأَخْطَاءِ

2
لكل كلمة
صحيحة

لَمَاعاً وَتَوَجَّهْتُ صُحْبَةَ إِخْوَتِهَا إِلَى سَاحَةِ العِيدِ،



فَاشْتَرْتُ فَاشْتَرْتُ حَشِيياً وَ كَهْرَبَائِيّاً.



10

إِمْتِحَانَات جِسْرِ النَّجَاح

المَادَّة : خَطُّ وَ إِمْلَاءٌ
المُسْتَوَى : السَّنَةِ الثَّانِيَةِ

إِخْتِبَار نِهَآيَةِ الثَّلَاثِي الأَوَّل
عَدَد : 2

الأَسْم :
اللقَب :
القِسْم :

المَعَايِيرُ	النَّقَاطُ المُسْتَنَدَةُ	الأَنْشِطَةُ
الوُضُوحُ الْجَمَالِيَّةُ	0,5 لكُلِّ حَرْفٍ	1 - اُنْسخُ عَلَي مِثَالِ المِثَالِ : بَ . نَ . تَ . ثَ
الوُضُوحُ الْجَمَالِيَّةُ التَّنَاسُقُ وَ الاسْتِرْسَالُ	0,5 لكُلِّ كَلِمَةٍ	تَبْنَةُ
الوُضُوحُ الْجَمَالِيَّةُ التَّنَاسُقُ وَ الاسْتِرْسَالُ	1,5 لكُلِّ كَلِمَةٍ	2 - أُعِيدُ كِتَابَةَ الجُمْلَةِ وَأَعَيِّرُ «الْوَلَدُ» بِ «الْبِنْتُ». رَتَبَ الوَلَدُ النَّشِيطُ البَيْتَ.
الوُضُوحُ الْجَمَالِيَّةُ التَّنَاسُقُ وَ الاسْتِرْسَالُ		إِمْلَاءٌ :
السَّلَامَةُ مِنَ الأَخْطَاءِ	0,5 لكُلِّ حَرْفٍ	1 - اكْمَلِ الكَلِمَاتِ بِالحُرُوفِ (ب - ت - ث - ذ) الأَ ... كَنَزٌ وَ ... رَوَةٌ وَ الأُمُّ ... حَتَّ أَقْدَامِهَا جَ...ةً
السَّلَامَةُ مِنَ الأَخْطَاءِ	2 لكُلِّ كَلِمَةٍ صَحِيحَةٍ	2 - اكْتُبِ الكَلِمَةَ المُنَاسِبَةَ. الأَخْيَارَ الأَشْرَارَ، فَإِنَّ الأَشْرَارَ النَّدَامَةَ.

10

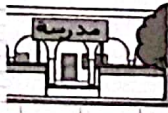

10

إِمْتِحَانَاتِ جِسْرِ النَّجَاحِ

المادة : حَطُّ وَ إِمْلَاءُ
المستوى : السنة الثانية

إِخْتِبَارِ نِهَآيَةِ الثَّلَاثِي الْأَوَّلِ
عَدَد : 3

الاسم :
اللقب :
القسم :













المعايير	الأنشطة	النقاط المُسندة
الوضوح الجمالية	1 - أنسخ على منوال المثال : ط . ت	0,5 لكل حرف
الوضوح الجمالية التناسق و الإسترسال	بطة 2 - أعيد كتابة الجملة وأغيز «العصفور» بـ «العصفورة». بقي العصفور الصغير مدعورا.	0,5 لكل كلمة 1,5 لكل كلمة
الوضوح الجمالية التناسق و الإسترسال	إملاء : 1 - أكمل الكلمات بالحروف المناسبة (ش - ح - س - ك) أ...رع ال...بُ نحو ال...مامة و...دّها بفكّيه. 2 - أكمل بالاسم المناسب لكل صورة. وَضَعَ قَادِي فِي ثُمَّ أَخَذَ وَذَهَبَ إِلَى	10 0,5 لكل حرف 2 لكل كلمة صحيحة
السلامة من الأخطاء		10
السلامة من الأخطاء	 وَذَهَبَ إِلَى  ثُمَّ أَخَذَ	10

إِمْتِحَانَات جِسْر النِّجَاح

المادة : خط و إملاء
المستوى : السنة الثانية

إختبار نهاية الثلاثي الأول
عدد : 4

الاسم :
اللقب :
القسم :

النقاط المُسندة	الأشـطة	المعايير										
0,5 لكل حرفي	1 - أنسخ على منوال المثال : ر . ز	الوضوح الجمالية										
0,5 لكل كلمة	زربية	الوضوح الجمالية النسب الاشتغال										
1,5 لكل كلمة	2 - أعيد كتابة الجملة وأغيز «الولد» بـ «البنث». زَيْنَ الْوَلَدِ الصُّورَةَ بِالْأَزْرَقِ.	الوضوح الجمالية النسب الاشتغال										
<input type="text"/> 10												
	إملاء :											
	اكتب الاسم المناسب لكل صورة، ثم أعمر بها الفراغات.											
1 لكل كلمة صحيحة	<table border="1"> <tr> <td></td> <td></td> <td></td> <td>اسم فتاة يبدأ بالحرف «ز»</td> <td></td> </tr> <tr> <td>.....</td> <td>.....</td> <td>.....</td> <td>.....</td> <td>.....</td> </tr> </table>				اسم فتاة يبدأ بالحرف «ز»		السلامة من الأخطاء
			اسم فتاة يبدأ بالحرف «ز»									
.....								
1 لكل كلمة صحيحة	<p>وَضَعْتُ فِي</p> <p>فَوْقَ بَعِيدًا عَنُ</p>	السلامة من الأخطاء										
<input type="text"/> 10												

إِمْتِحَانَاتِ جِسْرِ النَّجَاحِ

إِخْتِبَارِ نِهَآيَةِ الثَّلَاثِي الْأَوَّلِ

عَدَدَ : 5

الْمَادَّةُ : خَطُّ وَ إِمْلَاءُ




الْمُسْتَوَى : السَّنَةِ الثَّانِيَةِ

الاسْمُ :
اللقبُ :
القِسْمُ :

النَّقَاطُ المُسْتَدَّةُ	الأنشِطَةُ	المَعَايِيرُ
0,5 يَكُلُّ حَرْفِي	1 - أَنْسُخْ عَلَى مَنَوَالِ المِثَالِ ش . ز .	الْوُضُوحُ الْجَمَالِيَّةُ
0,5 يَكُلُّ كَلِمَةً	شَجَرَةٌ	الْوُضُوحُ الْجَمَالِيَّةُ التَّنَاسُقُ وَ الاسْتِرْسَالُ
1,5 يَكُلُّ كَلِمَةً	2 - أُعِيدُ كِتَابَةَ الْجُمْلَةِ. إِشْتَرَى سُكَّرِي طَبَقًا مَنقُوشًا.	الْوُضُوحُ الْجَمَالِيَّةُ التَّنَاسُقُ وَ الاسْتِرْسَالُ
10		
0,5 يَكُلُّ حَرْفِي	إِمْلَاءُ : 1 - أَكْمَلُ الكَلِمَاتِ بِالحُرُوفِ المُنَاسِبَةِ (ط - س - ض - ظ) وَ...عَ الحَ...أبُ فَأ...هُ عَلَى...هَرِهِ.	السَّلَامَةُ مِنَ الأَخْطَاءِ
2 يَكُلُّ كَلِمَةً صَحِيحَةً	2 - أَكْمَلُ بِالِاسْمِ المُنَاسِبِ. إِعْمَلْ لِي كَأَنَّكَ وَاعْمَلْ لِي كَأَنَّكَ تَمُوتُ عَدَا.	السَّلَامَةُ مِنَ الأَخْطَاءِ
10		

إِمْتِحَانَاتِ جِسْرِ النِّجَاحِ

الاسم : اللقب : القسم :	إختبار نهاية الثلاثي الأول عدد : 1	المادة : إنتاج كتابي المستوى : السنة الثانية
-------------------------------	---------------------------------------	-------------------------------------------------

النقاط المستوى	الأشياء	المعايير	
0,5	<p>أعبر عن كل مشهد بجملة على الأقل.</p>   	معيار 1 معيار 2 معيار 3 معيار 4 معيار 5 معيار 6 معيار 7 معيار 8 معيار 9 معيار 10 معيار 11 معيار 12 معيار 13 معيار 14 معيار 15	
0,5			
1			
0,5			
0,5			
0,5			
1			
0,5			
0,5			
0,5			
1			
0,5			
0,5			
0,5			
0,5			
1			
1			
1			
2			
2			
1			

أعيد كتابة الجملة مرتبة وأثريها بما يناسب :

جدول إستاد الأعداد

مغيار التميز	معايير الحد الأدنى							مستويات التملك
	معدب	معدا	معدب	معدا	معداب	معدا	معدا	
0	0	0	0	0	0	0	0	العدم التملك - - -
2	1	0,5	0,5	1	1	0,5	1	التملك دون الأذن - - +
4	2	1	1	2	2	1,5	2	التملك الأذن - + +
5	3	1,5	1,5	3	3	2,5	3	التملك الأقصى + + +

20

إِمْتِحَانَاتِ جِسْرِ النَّجَاحِ


المادة : إنتاج كتابي
المستوى : السنة الثانية

اختبار نهاية الثلاثي الأول
عدد : 2


الاسم :
اللقب :
القسم :

النقاط المُسْتَدَّة	الأنشطة	المعايير
	<p>السند 1 : التعليمة 1 : أربط المقاطع لأحصل على كلمات أستعملها في تكوين جملة.</p> <p>المنذ • تد • حدي • كل • ق • بها • زل • هو •</p> <p>* ذات مساء خرجت هناء مع</p>	<p>معا1 <input type="checkbox"/></p> <p>معا2 <input type="checkbox"/></p> <p>معا3 <input type="checkbox"/></p>
0,5	<p>السند 2 : التعليمة 1 : أكمل الكلمات بالمقاطع التالية : دو - را - ط - تد - ريد - ج</p> <p>* الط ق - انف ح - ت قب - ان لق - مر قة - يع</p> <p>التعليمة 2 : أكتب الكلمات في أماكنها لأحصل على فقرة.</p>	<p>معا1 <input type="checkbox"/></p> <p>معا2 <input type="checkbox"/></p> <p>معا3 <input type="checkbox"/></p>
0,5	<p>* فجأة الباب ف</p>	
1	<p>الكلب في</p>	
0,5	<p>وتسمرت هناء في مكانها المشهد</p> <p>..... من الخوف على صديقها.</p>	
0,5	<p>السند 3 : التعليمة 1 : أستعمل المفردات التالية في كتابة فقرة تعبر عن المشهد.</p> <p>تلاحق - جرت - مسرعة - غير مبالية - همت بعبور - غادرت - كادت ...</p>	<p>معا1 <input type="checkbox"/></p> <p>معا2 <input type="checkbox"/></p> <p>معا3 <input type="checkbox"/></p>
0,5	<p>.....</p>	
0,5	<p>.....</p>	
1	<p>.....</p>	
0,5	<p>.....</p>	
0,5	<p>.....</p>	


السَّنْدُ 4 : التَّعْلِيمَةُ : أَسْتَعِينُ بِمَا تَجَمَّعَ لَدَيَّ مِنْ رَصِيدِ لُغَوِيٍّ وَأَعْبُرُ عَنِ الْمَشَاهِدِ التَّالِيَةِ :



السَّنْدُ 2 :



السَّنْدُ 3 :



السَّنْدُ 4 :



معاً

مع2ب

مع2ب

معاً

مع2ب

مع2ب

معاً

مع2ب

مع2ب

مع3ب

مع4

0,5

0,5

0,5

0,5

0,5

0,5

0,5

0,5

0,5

1

1

1

2

2

1

MOURAIAA.COM

جَدْوَلُ إِسْتَادِ الْأَعْدَادِ

مِغْيَارُ التَّمْيِيزِ	مَعَايِيرُ الْحَدِّ الْأَدْنَى						مُسْتَوَاتُ التَّمَلُّكِ
	مع4	مع3ب	مع3أ	مع2ب	مع2أ	مع1ب	
0	0	0	0	0	0	0	إِنْعِدَامُ التَّمَلُّكِ - - -
2	1	0,5	0,5	1	1 - 0,5	1 - 0,5	التَّمَلُّكُ دُونَ الْأَدْنَى - - +
4	2	1	1	2	2 - 1,5	2 - 1,5	التَّمَلُّكُ الْأَدْنَى - + +
5	3	1,5	1,5	3	3 - 2,5	3 - 2,5	التَّمَلُّكُ الْأَفْصَى + + +

20

إِمْتِحَانَات جِسْر الدَّجَاح

السَّنة :
 المَشْرُوع :
 السَّنَة الأخرى :



إِخْتِبَار نِهَآيَة التَّلَاقِي الأَوَّل
 عَدَد : 3

الاسم :
 اللقب :
 القسم :

الأدب طة

السَّنَة :
 المَشْرُوع :
 السَّنَة الأخرى :

تَمَر الطَّيْرُ هَادِمًا جَمِيرًا - فَجَاءَ نَحْرُ البُحْرُ - هَبَّتْ رِيَّاحٌ قَوِيَّةٌ - طَائِرَتْ فُجْبَعَةٌ
 الطَّيْرُ المَشُوقُ وَبَطَلَتْ أَوْزَاقًا كَانَتْ عَلَى رُكْبَتَيْهِ - لِمُسَاعَدَتِهِ.



جَدْوَلُ إِسْنَادِ الأَعْدَادِ

مَعْيَارُ التَّمْيِيزِ	مَعَايِيرُ الحَدِّ الأَدْنَى					مَعْيَارُ التَّمْيِيزِ
	معا 1	معا 2	معا 3	معا 4	معا 5	
معا	0	0	0	0	0	إِعْدَادُ التَّمْيِيزِ
0	0	0	0	0	0	إِعْدَادُ التَّمْيِيزِ
1,5	1	1	1	1	1	إِعْدَادُ التَّمْيِيزِ
3	2	2	2	2	2	إِعْدَادُ التَّمْيِيزِ
5	3	3	3	3	3	إِعْدَادُ التَّمْيِيزِ

20

إِمْتِحَانَات جِسْرِ الدَّجَاحِ

المادة : إنتاج كتابي
المستوى : السنة الثانية

إختبار نهاية الثلاثي الأول
عدد : 4

الاسم :
اللقب :
القسم :


النقاط
المُسندة

الأنشطة

المعايير

- اكتب جملة أمام كل مشهد.

فراخها - أثناء - أوصت - العش - بأن لا - غيابها - تغادر - العصفورة - الصغيرة - الأم




معاً 1

معاً ب

معاً 2

معاً 3

وجيداً - الفرخ - باكياً - بقي - فرحاً - الصغير - حزيناً




معاً 1

معاً ب

معاً 2

معاً 3

النجدة - اضطرب - حزيناً - يطلب - الصغير - لحناً - في القفص - إندهشت -
وجيداً - العصفور - أنشد



معاً 1

معاً ب

معاً 2

معاً 3

أَعِيدُ كِتَابَةَ الْجُمَلِ مُرْتَبَةً وَأَثْرِيهَا بِمَا يُنَاسِبُ :

0,5

0,5

0,5

0,5

0,5

0,5

0,5

0,5

0,5

1



1

1

2

2

1



معاً

معاب

مع2ب

معاً

معاب

مع2ب

معاً

معاب

مع2ب

مع3ب

مع4

جَدْوَلُ إِسْتِنَادِ الْأَعْدَادِ

مَعْيَارُ التَّمْيِيزِ	مَعَايِرُ الْحَدِّ الْأَدْنَى									مُسْتَوِيَاتُ التَّمَلُّكِ
	مع4	مع3ب	مع3أ	مع2ج	مع2ب	مع2أ	معاج	معاب	معأ	
0	0	0	0	0	0	0	0	0	0	إِنْعِدَامُ التَّمَلُّكِ ---
2 - 1	1	1	0,5	0,5	0,5	1	1 - 0,5	1 - 0,5	---	التَّمَلُّكُ دُونَ الْأَدْنَى + --
4 - 3	2	2	1	1	1	2	2 - 1,5	2 - 1,5	- +	التَّمَلُّكُ الْأَدْنَى - +
5	3	3	1,5	1,5	1,5	1,5	1,5	1,5	1,5	التَّمَلُّكُ الْأَقْصَى + ++

20

إِمْتِحَانَاتِ جِسْرِ النَّجَاحِ

المادة : رياضيات
(حساب ذهني)
المستوى : السنة الثانية

إختبار نهاية الثلاثي الأول
عدد : 1

الاسم :
اللقب :
القسم :

0,5	- التذاكر الخاصة بالدخول لمشاهدة عروض السيرك ثلاثة أنواع : نوع بـ 12 د ونوع بـ 10 د ونوع بـ 18 د. - أرتب الأعداد من الأصغر إلى الأكبر.
1 > 18 >	- أحصر العدد 18 بين عددين أصغر من 20.
0,5	- دخل المتفرجون خيمة العرض فكان عدد الجالسين بالمقاعد من الصنف الأول 80. - أكتب العدد الذي يأتي مباشرة قبل العدد 80.
0,5	- أما عدد المقاعد من الصنف الثاني فهو 89. - أكتب العدد الذي يأتي مباشرة بعد العدد 89.
0,5	- عدد الجالسين بهذه المقاعد في أول العرض 60 ثم التحق 13 متفرجا آخر وجلسوا بالمقاعد الفارغة. - كم أصبح عدد المتفرجين الجالسين بالمقاعد من الصنف الثاني؟
0,5	- عدد المقاعد من الصنف الثالث 100. - فقط منها شغلها المتفرجون. - ما هو عدد المقاعد الفارغة؟
0,5	- في عرض الحيوانات أحصر العارض 8 كلاب كبيرة و 7 كلاب صغيرة. - ما هو عدد الكلاب بالعرض؟

إِمْتِحَانَات جِسْرِ النَّجَاح

المادة : رياضيات	إختبار نهاية الثلاثي الأول	الاسم :
المستوى : السنة الثانية	عدد : 1	اللقب :
		القسم :

النقاط المستندة	الأشـطة	المعايير
1	السند 1 : حل بمدينة نابل السرك الإيطالي، بحيمة العرض ثلاثة أضاف من المقاعد. عدد النساء بالصنف الأول من المقاعد 29 وعدد الرجال أقل من عدد النساء بـ 12، أما عدد الأطفال فيزيد عن عدد النساء بـ 7.	مع 1 <input type="checkbox"/>
0,5	التعليمة 1 : أحسب عدد الأطفال بالصنف الأول من المقاعد.	مع 2 <input type="checkbox"/>
0,5	الحل العمـل	مع 2 <input type="checkbox"/>
0,5	عدد الأطفال بالصنف الأول من المقاعد. العملية :	مع 1 <input type="checkbox"/>
1	التعليمة 2 : أرتب أعداد العملية تصاعدياً.	مع 2 <input type="checkbox"/>
1	مع 1 <input type="checkbox"/>
1	التعليمة 3 : أحسب عدد الرجال بالصنف الأول من المقاعد.	مع 2 <input type="checkbox"/>
0,5	الحل العمـل	مع 2 <input type="checkbox"/>
0,5	عدد الرجال بالصنف الأول من المقاعد. العملية :	مع 2 <input type="checkbox"/>
0,5	التعليمة 4 : أرتب عدد الرجال والنساء والأطفال الذين جلسوا بالصنف الأول من المقاعد تنازلياً.	مع 2 <input type="checkbox"/>
0,5	مع 2 <input type="checkbox"/>

السُّنْدُ 2 :

- عَدَدُ الْمُتَفَرِّجِينَ بِالصَّنْفِ الثَّانِي مِنَ الْمَقَاعِدِ 85، وَعَدَدُ الرَّجَالِ وَالنِّسَاءِ 42.
التَّعْلِيمَةُ 1 : أَضَعُ الْعَلَامَةَ (x) أَمَامَ السُّؤَالِ الْمُنَاسِبِ.

الْعَمَلُ

الْحَلُّ

1,5
1
1,5

- مَا هُوَ عَدَدُ النِّسَاءِ بِالصَّنْفِ الثَّانِي مِنَ الْمَقَاعِدِ ؟

- مَا هُوَ عَدَدُ الْأَطْفَالِ بِالصَّنْفِ الثَّانِي مِنَ الْمَقَاعِدِ ؟

- مَا هُوَ عَدَدُ الرَّجَالِ بِالصَّنْفِ الثَّانِي مِنَ الْمَقَاعِدِ ؟

- الْإِجَابَةُ اللَّفْظِيَّةُ :

- الْعَمَلِيَّةُ :

مع5

السُّنْدُ 3 :

- أَمَّا بِالصَّنْفِ الثَّلَاثِ مِنَ الْمَقَاعِدِ، فَعَدَدُ النِّسَاءِ هُوَ 27 وَهُوَ أَكْثَرُ مِنْ عَدَدِ الرَّجَالِ بِ 13
وَأَقَلُّ مِنْ عَدَدِ الْأَطْفَالِ بِ 19.

التَّعْلِيمَةُ 1 : أَبْحَثُ عَنْ عَدَدِ الرَّجَالِ الْجَالِسِينَ بِالْمَقَاعِدِ مِنَ الصَّنْفِ الثَّلَاثِ.

1

الْعَمَلُ

الْحَلُّ

- عَدَدُ الرَّجَالِ الْجَالِسِينَ بِالْمَقَاعِدِ مِنَ الصَّنْفِ الثَّلَاثِ.

- الْعَمَلِيَّةُ :

مع2ب

0,5

التَّعْلِيمَةُ 2 : أَرْتَبُ أَعْدَادَ الْعَمَلِيَّةِ تَصَاعُدِيًّا.

مع2ه

0,5

التَّعْلِيمَةُ 3 : أَبْحَثُ عَنْ عَدَدِ الْأَطْفَالِ الْجَالِسِينَ بِالْمَقَاعِدِ مِنَ الصَّنْفِ الثَّلَاثِ.

الْعَمَلُ

الْحَلُّ

- عَدَدُ الْأَطْفَالِ الْجَالِسِينَ بِالْمَقَاعِدِ مِنَ الصَّنْفِ الثَّلَاثِ.

- الْعَمَلِيَّةُ :

مع2أ

1

التَّعْلِيمَةُ 4 : مَا هُوَ عَدَدُ الْمُتَّفَرِّجِينَ بِالصَّنْفِ الثَّالِثِ مِنَ الْمَقَاعِدِ ؟

0,5

الْعَمَلُ

الْحَلُّ

1

- عَدَدُ الْمُتَّفَرِّجِينَ بِالصَّنْفِ الثَّالِثِ مِنَ الْمَقَاعِدِ.

- الْعَمَلِيَّةُ :

مع 1

التَّعْلِيمَةُ 5 : إِذَا عَلِمْتَ أَنَّ عَدَدَ الْمَقَاعِدِ بِالصَّنْفِ الثَّالِثِ هُوَ 98 مَقْعَدًا، فَمَا هُوَ عَدَدُ الْمَقَاعِدِ الَّتِي بَقِيَتْ فَارِغَةً؟

1

الْعَمَلُ

الْحَلُّ


- عَدَدُ الْمَقَاعِدِ الَّتِي بَقِيَتْ فَارِغَةً.

- الْعَمَلِيَّةُ :

مع 2أ

0,5

السَّنَدُ 4 : بَدَأَ الْعَرُضُ فَقَامَ أَحَدُ الْعَارِضِينَ بِمَلَاعِبَةٍ مَجْمُوعَةٍ مِنَ الْكِلَابِ.



0,5

0,5

0,5

التَّعْلِيمَةُ 1 : أَكْتُبُ «نَعَمْ» أَوْ «لَا»

- الْكُرَّةُ «ب» أَمَامَ الْكَلْبِ رَقْمُ 4.






- الْكَلْبُ رَقْمُ 2 فَوْقَ الْحَبْلِ.

التَّعْلِيمَةُ 2 : أَلَوْنُ الْيَدِ الْيُسْرَى لِلْكَلْبِ رَقْمُ 3.

مع 2د

السُّدُّ 5 :

- بَعْدَ انْتِهَاءِ الْعَرْضِ، إِشَارَى عَلَاءُ ثَلَاثَ قِطْعٍ مِنَ الْحَلْوَى مِنْ عِنْدِ التَّجَارِ الْمُؤَجَّوِدِينَ
أَمَامَ السُّرِّكَ ثُمَّ رَكِبَ مَعَ أَبِيهِ السِّيَّارَةَ وَقَصَدَا الْمَنْزِلَ.

		
80 مٻي مٻي	45 مٻي
		

0,5
0,5
0,5

3 مٻي

التَّعْلِيمَةُ :
- أَمَثَلُ ثَمَنَ قِطْعَةِ الْحَلْوَى الْأُولَى بِالْقِطْعِ النَّقْدِيَّةِ الْمُنَاسِبَةِ.
- أَحْسَبُ الْقِطْعِ النَّقْدِيَّةِ وَأَبِينُ ثَمَنَ قِطْعَةِ الْحَلْوَى الثَّانِيَةِ.
- أَكْمَلُ تَمَثِيلَ ثَمَنِ قِطْعَةِ الْحَلْوَى الثَّالِثَةِ بِالْقِطْعِ النَّقْدِيَّةِ الْمُنَاسِبَةِ.

جَدْوَلُ إِسْتَادِ الْأَعْدَادِ

مُسْتَوِيَّاتُ التَّمَلُّكِ	مَعَايِيرُ الْحَدِّ الْأَدْنَى							مَعْيَارُ التَّمَيِّزِ	الرِّيَاضِيَّاتُ	الْحِسَابُ الذَّهْنِيُّ
	معا1	معا2 أ	معا2 ب	معا2 ج	معا2 هـ	معا3	معا5			
إِنْعِدَامُ التَّمَلُّكِ	0	0	0	0	0	0	0	5	$\frac{\dots}{16}$	$\frac{\dots}{4}$
التَّمَلُّكُ دُونَ الْأَدْنَى	1	0,5	1	0,5	0,5	0,5	0,5	1,5		
التَّمَلُّكُ الْأَدْنَى	2	1	2	1	1	1	1	2,5		
التَّمَلُّكُ الْأَقْصَى	3	1,5	3	1,5	1,5	1,5	1,5	4		$\frac{\dots}{20}$

إِمْتِحَانَاتِ جِسْرِ النَّجَاحِ

الأسم: اللقب: القسم:	إختبار نهاية الثلاثي الأول عدد: 2	المادة: رياضيات (حساب ذهني) المستوى: السنة الثانية
----------------------------------------------	--------------------------------------	------------------------------------------------------------

النقاط المُسندة	الحل	الأنشطة
1	1 - طالعت ميلاء قصة عدد صفحاتها 50. أحضر العدد 50 بين عددين متتاليين.
1	2 - في اليوم الأول، طالعت ميلاء 19 صفحة وفي اليوم الثاني طالعت 9 صفحات. كم طالعت من صفحة في الجملة ؟
1	3 - عدت ميلاء صفحات القصة حسب الانتظام التالي: 0 - 3 - 6 - 9 - - أكمل العددين الناقصين.
1	4 - تملك ميلاء القطع النقدية التالية :  كم تملك البنت ؟

.....
4

إِمْتِحَانَات جِسْرِ النَّجَاح

المادة : رياضيات

المستوى : السنة الثانية

إختبار نهاية الثلاثي الأول

عدد : 2

الاسم :

اللقب :

القسم :

المعايير

الأنشطة

النقاط
المُسندة

السند 1 :

نظمت مدرسة لفائدة تلاميذها عرضين تنشيطيين للترفيه عنهم.

صباح يوم الأحد حضر العرض الأول 30 ولدًا و 25 بنتًا و 6 معلمات.

التعليمة 1 : أحسب عدد التلاميذ الحاضرين.

مع 2

التعليمة 2 : أرتب أعداد العملية تصاعديًا.

مع 2

التعليمة 3 : أحسب عدد الحاضرين من التلاميذ والمعلمات.

مع 2

التعليمة 4 : أرتب أعداد العملية تنازليًا.

1

السند 2 :

أحضرت مديرة المدرسة أقنعة للتكرار :

- 21 قناعًا تمثل وجه أرنب.



فبلغ عدد كل الأقنعة 45.

مع 2

- أقنعة تمثل وجه مهرج.



التعليمة 1 : أتمم بالعدد الناقص لإجد عدد الأقنعة التي تمثل وجه مهرج.

مع 1

0,5

0,5

+

21

التَّعْلِيمَةُ 2 : اَكْتُبِ الْكِتَابَةَ الْجَمْعِيَّةَ الْمُنَاسِبَةَ لِأَجْدِ جُمْلَةَ الْأَقْنَعَةِ.

مع 2 ب

مع 2 أ

التَّعْلِيمَةُ 3 : أرتب أعداد العمليَّة التي تحصلت عليها.

السَّنْدُ 3 : وَزَعِ الْمُنَشِّطُ عَلَى الْحَاضِرِينَ طَرَابِيشَ مِنَ الْوَرَقِ الْمُقَوَّى حَمْرَاءَ وَزُرْقَاءَ وَخَضْرَاءَ.

- عَدَدُ الطَّرَابِيشِ الْحَمْرَاءِ 12.

- عَدَدُ الطَّرَابِيشِ الزُّرْقَاءِ أَكْثَرُ مِنَ الطَّرَابِيشِ الْحَمْرَاءِ بِ 4.

- عَدَدُ الطَّرَابِيشِ الْخَضْرَاءِ 21.

التَّعْلِيمَةُ 1 : أَحْسُبْ عَدَدَ الطَّرَابِيشِ الزُّرْقَاءِ.

مع 1

التَّعْلِيمَةُ 2 : أَحْسُبْ عَدَدَ كُلِّ الطَّرَابِيشِ.

مع 5

السَّنْدُ 4 :

قَدَّمَ الْمُنَشِّطُ عَرْضًا طَرِيفًا : بَبْغَاءَ يَجْمَعُ قِطْعًا نَقْدِيَّةً بِمِنْقَارِهِ وَيَضَعُهَا فِي الْحَصَالَةِ.

رَمَى سَامِي 23 مِي.

رَمَتْ زَيْنَبُ 32 مِي.

رَمَى جَاسِرُ 45 مِي.

التَّعْلِيمَةُ : أُمَثِّلْ كُلَّ مَبْلَغٍ بِثَلَاثِ قِطْعٍ نَقْدِيَّةٍ

مَبْلَغُ سَامِي 23 مِي

مَبْلَغُ زَيْنَبَ 32 مِي

مَبْلَغُ جَاسِرِ 45 مِي

مع 3

السَّنْدُ 5 :

يَتَابِعُ الْأَطْفَالَ عُرُوضَ الْمُنَشِّطِ بِشَعْفٍ، وَأَعْجَبُوا بِالْبَبْغَاءِ الذِّي.

التَّعْلِيمَةُ : اسْتَعِينِ بِالْمَشْهَدِ وَأَنْجِزِ الْمَطْلُوبَ.



0,5
0,5
0,5

- أَلَوْنُ السَّاقِ الْيُسْرَى لِمُنْتَشِطٍ.

- يُوجَدُ الْبَيْعَاءُ عَلَى الْمُنْتَشِطِ.

- أَلَوْنُ الْبَالُونِ الَّذِي يُقَابِلُ يَدِي الْيُسْرَى.

السَّنَدُ 6 :

حَضَرَ الْعَرْضَ الثَّانِي فِي الْمَسَاءِ 35 تَلْمِيذَةً وَ24 تَلْمِيذًا وَثَلَاثَةَ مُعَلِّمِينَ.

التَّعْلِيمَةُ 1 : أَحْسَبُ عَدَدَ التَّلَامِيذِ الَّذِينَ حَضَرُوا الْعَرْضَ الثَّانِي.

5 مع

التَّعْلِيمَةُ 2 : أَكْمَلُ بِـ (الْأَوَّلُ - الثَّانِي) وَأَشْطَبُ الْعَدَدَ الْخَاطِئِ.

عَدَدُ التَّلَامِيذِ الَّذِينَ حَضَرُوا الْعَرْضَ أَكْثَرُ مِنْ عَدَدِ التَّلَامِيذِ الَّذِينَ

حَضَرُوا الْعَرْضَ بِـ

4	6
---	---

جَدْوَلُ إِسْتَادِ الْأَعْدَادِ

الْحِسَابُ الدَّهْنِي	مِغْيَارُ التَّمْيِيزِ	مَعَايِيرُ الْحَدِّ الْأَدْتِي					مستويات التملك
		5 مع	4 مع	3 مع	2 مع	1 مع	
$\frac{\cdot}{4}$	5 مع	0	0	0	0	0	إِنْعِدَامُ التَّمَلِكِ
	2 - 1	0,5	1	1	1	0,5	التَّمَلِكُ دُونَ الْأَدْتِي
$\frac{\cdot}{20} = \frac{\cdot}{4} + \frac{\cdot}{16}$	3	1	2	2	2	1	التَّمَلِكُ الْأَدْتِي
	4	1,5	3	3	3	1,5	التَّمَلِكُ الْأَقْصَى

إِمْتِحَانَاتِ جِسْرِ النَّجَاحِ

إِخْتِبَارِ نِهَائِيَةِ الثَّلَاثِيَةِ الْأُولَى

عَدَدٌ : 3

المَادَّةُ : رِيَاضِيَّاتٍ
(حِسَابٌ ذِهْنِيٌّ)
المُسْتَوَى : السَّنَةُ الثَّانِيَّةُ

الاسْمُ :
اللقبُ :
القِسْمُ :

النَّقَاطُ الْمُسْتَدَدَةُ	الْحَلُّ	الْأَنْشِطَةُ
0,5		1 - دَخَلَ مُرَادُ الْمَتَجَرِّ وَبَقِيَ يَتَأَمَّلُ الدَّرَاجَاتِ الْمَعْرُوضَةَ وَعَدَّهَا فَإِذَا هِيَ 9 دَرَّاجَاتٍ حَمْرَاءَ وَ8 دَرَّاجَاتٍ زُرْقَاءَ. مَا هُوَ عَدَدُ الدَّرَاجَاتِ الْمَعْرُوضَةِ لِلْبَيْعِ ؟
0,5		2 - تُوَجَدُ بِالْمَتَجَرِّ كَذَلِكَ 12 دَرَّاجَةً نَارِيَّةً مِنْهَا 7 صَفْرَاءَ وَالْبَقِيَّةُ حَمْرَاءَ. مَا عَدَدُ الدَّرَاجَاتِ النَّارِيَّةِ الْحَمْرَاءِ ؟
0,5		3 - أُعْجِبَ مُرَادٌ بِدَرَّاجَةٍ حَمْرَاءَ فَسَأَلَ الْبَائِعَ عَنْ ثَمَنِهَا فَأَعْلَمَهُ أَنَّهُ مَبْلَغٌ مَحْضُورٌ بَيْنَ 79 د و 81 د. مَا هُوَ ثَمَنُ الدَّرَّاجَةِ الْحَمْرَاءِ ؟
0,5		4 - سَأَلَهُ إِثْرٌ ذَلِكَ عَنْ ثَمَنِ الدَّرَّاجَةِ الزُّرْقَاءِ فَأَخْبَرَهُ أَنَّهُ مَبْلَغٌ يَسْبِقُ مُبَاشَرَةً 90 د. مَا هُوَ ثَمَنُ الدَّرَّاجَةِ الزُّرْقَاءِ بِالْدَيْنَارِ ؟
0,5		5 - إِخْتَارَ مُرَادُ الدَّرَّاجَةَ الْحَمْرَاءَ، فَمَكَّنَهُ التَّاجِرُ مِنْ تَخْفِيفِهَا فَاشْتَرَاهَا بِمَبْلَغٍ مَحْضُورٍ بَيْنَ 70 د و 80 د وَرَقْمٌ آحَادِهِ 5. مَا هُوَ الْمَبْلَغُ الَّذِي دَفَعَهُ ؟
0,5		6 - شَرَى مُرَادٌ لِدَرَّاجَتِهِ قُفْلًا بِ 6 د وَمِنْفَاحًا بِ 8 د. كَمْ ثَمَنُ الْقُفْلِ وَالْمِنْفَاحِ ؟
0,5		7 - فِي الْمَنْزِلِ سَأَلَتْهُ أُمُّهُ عَنِ الْمَبْلَغِ الَّذِي صَرَفَهُ، فَدَعَاهَا إِلَى اتِّبَاعِ نِظَامِ الْعَدِّ التَّالِي لِتَعْرِفِ الثَّمَنَ. 80 د - 83 د - 86 د - ... - 92 د
0,5		8 - طَلَبَتْ رِيمٌ مِنْ أُخِيهَا أَنْ يَزِيدَهَا 5 مِي لِتَشْتَرِيَ قِطْعَةً حَلَوَى ثَمَنُهَا 25 مِي. مَا هُوَ الْمَبْلَغُ الَّذِي تَمْلِكُهُ رِيمٌ ؟

إِمْتِحَانَاتِ حِجْرِ النَّجَاحِ

المادة : رياضيات
المستوى : السنة الثانية

إختبار نهاية الثلاثي الأول
عدد : 3

الاسم :
اللقب :
القسم :

النقاط المستندة	الأنشطة	المعايير
0,5	السند 1 : نظمت مدرستنا رحلة إلى مدينة نابل شارك فيها 25 تلميذا من السنة الرابعة و24 تلميذا من السنة الخامسة وعدد من تلاميذ السنة السادسة يقل عن مجموع المشاركين من الرابعة والخامسة بـ 6 تلاميذ.	معا <input type="checkbox"/>
0,5	التعليمة 1 : أبحث عن عدد تلاميذ السنة الرابعة والخامسة المشاركين في الرحلة.	معا <input type="checkbox"/>
0,5	التعليمة 2 : أحسب عدد تلاميذ السنة السادسة المشاركين في الرحلة.	<input type="checkbox"/>
0,5	التعليمة 3 : ما هو العدد الجملي للتلاميذ المشاركين في الرحلة ؟	<input type="checkbox"/>
0,5	التعليمة 4 : أرتب نتائج العمليات الثلاث تصاعدياً.	معا <input type="checkbox"/>
0,5	السند 2 : قرّر 5 معلمين مرافقة التلاميذ، فاكترت المدرسة حافلة تتوفّر على 36 مقعداً من الجهة اليمنى بينما يقل عدد مقاعد الجهة اليسرى عن اليمنى بـ 6.	معا <input type="checkbox"/>
0,5	التعليمة 1 : أحسب العدد الجملي للمشاركين في الرحلة.	معا <input type="checkbox"/>
0,5	التعليمة 2 : أبحث عن عدد المقاعد بالجهة اليسرى للحافلة.	معا <input type="checkbox"/>

التَّعْلِيمَةُ 3 : أُبْحَثُ عَنْ عَدَدِ مَقَاعِدِ الْحَافِلَةِ.

0,5

مع 2ب

التَّعْلِيمَةُ 4 : أُرْتَبُ نَتَائِجَ الْعَمَلِيَّاتِ الثَّلَاثِ تَنَازُلِيًّا.

0,5

السَّنَدُ 3 :

لِنَقْلِ بَقِيَّةِ الْمُشَارِكِينَ فِي الرُّحْلَةِ، اِكْتَرَبَتِ الْمَدْرَسَةُ حَافِلَةً صَغِيرَةً إِضَافِيَّةً تَتَّسِعُ لـ 38 رَاكِبًا.
التَّعْلِيمَةُ 1 : مَا هُوَ عَدَدُ الْمُشَارِكِينَ الَّذِينَ سَيَرْكَبُونَ الْحَافِلَةَ الصَّغِيرَةَ ؟

0,5

مع 1

مع 2أ

0,5

التَّعْلِيمَةُ 2 : كَمْ عَدَدُ مَقَاعِدِ الْحَافِلَةِ الصَّغِيرَةِ الَّتِي بَقِيَتْ شَاغِرَةً ؟

0,5

التَّعْلِيمَةُ 3 : أُبْحَثُ عَنْ عَدَدِ الْفَتَيَاتِ الْمُشَارِكَاتِ فِي الرُّحْلَةِ إِذَا كَانَ عَدَدُ الْأَوْلَادِ 40.

0,5

السَّنَدُ 4 :

عِنْدَمَا أَوْشَكَتِ الرُّحْلَةُ عَلَى نِهَائِهَا تَوَجَّهَ ثَلَاثَةُ أَطْفَالٍ إِلَى مَتَجَرٍّ صَغِيرٍ يَبِيعُ التُّحَفَ،
فَأَعْجَبُوا بِمَجْمُوعَةٍ مِنَ الصُّورِ التُّذْكَارِيَّةِ عَدَدُهَا 85 وَقَرَّرُوا شِرَاءَهَا.
اِقْتَنَى عَاطِفٌ 28 صُورَةً وَهَذَا الْعَدَدُ يَفُوقُ عَدَدَ صُورِ مَهْرَانَ بِـ 6 صُورٍ وَاشْتَرَتْ مَرِيَمُ بَقِيَّةَ
الصُّورِ.

التَّعْلِيمَةُ 1 : اخْتَارُ مِمَّا يَلِي ثَلَاثَةَ أَسْئَلَةٍ أُرْتَبُّهَا حَسَبَ تَسْلُسُلِهَا مِنْ 1 إِلَى 3 وَأُجِيبُ عَنْهَا لِحَلِّ
الْوَضْعِيَّةِ :

0,5

←

- كَمْ عَدَدُ الصُّورِ الَّتِي اشْتَرَاهَا الْأَطْفَالُ ؟

0,5

←

- أَحْسَبُ عَدَدَ الصُّورِ الَّتِي اشْتَرَتْهَا مَرِيَمُ.

0,5

←

- مَا هُوَ عَدَدُ الصُّورِ الَّتِي اشْتَرَاهَا عَاطِفٌ وَمَهْرَانُ ؟

0,5

←

- أَحْسَبُ عَدَدَ الصُّورِ الْبَاقِيَّةِ لِلتَّاجِرِ.

1

←

- كَمْ عَدَدُ الصُّورِ الَّتِي اشْتَرَاهَا مَهْرَانُ ؟




1

أَحُلُّ الْوَضْعِيَّةَ :

مع 5

مع 5

فِي نِهَائِيَةِ الرُّحْلَةِ صَعِدَ الْأَطْفَالُ الْحَافِلَةَ وَتَفَقَّدَ الْأَصْدِقَاءُ الثَّلَاثَةَ مَا بَقِيَ لَهُمْ مِنْ مَالٍ فَوَجَدُوا الْمَبَالِغَ الثَّلَاثِيَّةَ :

نُقُودُ مَرْيَمَ	نُقُودُ مَهْرَانَ	نُقُودُ عَاطِفِ
		
68 مي	74 مي

التَّعْلِيمَةُ 1 : أَكْمِلْ تَعْمِيرَ بَيِّنَاتِ الْجَدْوَلِ.


التَّعْلِيمَةُ 2 : أَرْتَّبُ الْمَبَالِغَ الْبَاقِيَّةَ لِلْأَصْدِقَاءِ الثَّلَاثَةِ.

0,5

السند 6 : أَثْنَاءَ الرُّحْلَةِ التَّقَطَّتْ صُورَةٌ لِعَاطِفٍ وَمَرْيَمَ وَهُمَا يَلْهُوَانِ عَلَى شَاطِئِ الْبَحْرِ.

التَّعْلِيمَةُ 1 : أَتَأَمَّلُ الْمَشْهَدَ وَأَتِمُّ الْجُمْلَ بِمَا يُنَاسِبُ مِنَ الْعِبَارَاتِ الثَّلَاثِيَّةِ :

عَلَى يَسَارٍ - الْيُسْرَى - تَحْتَ - عَلَى يَمِينٍ - الْيُمْنَى - فَوْقَ



- السَّفِينَةُ عَاطِفِ.

- تُمَسِّكُ مَرْيَمُ السَّطْلَ بِيَدِهَا

- طَائِرُ النَّوْرَسِ شِرَاعِ السَّفِينَةِ.

جَدْوَلُ إِسْنَادِ الْأَعْدَادِ

الْحِسَابُ الدَّهْنِيُّ	مِعْيَارُ التَّمْيِيزِ	مَعَايِيرُ الْحَدِّ الْأَدْنَى					مُسْتَوْنَاتُ التَّمْلُكِ
		معد 4	معد 3	معد 2	معد 1	معد 1	
$\frac{\cdot}{4}$	معد 5	0	0	0	0	0	إِنْعِدَامُ التَّمْلُكِ
	من 0	0,5	1	0,5	1,5 - 1 - 0,5	0,5	التَّمْلُكُ دُونَ الْأَدْنَى
	إلى 4	1	2	1	3 - 2,5 - 2	1	التَّمْلُكُ الْأَدْنَى
$\frac{\cdot}{20} = \frac{\cdot}{4} + \frac{\cdot}{16}$		1,5	3	1,5	4,5 - 4 - 3,5	1,5	التَّمْلُكُ الْأَفْصَى

إِمْتِحَانَات جِسْرِ النَّجَاح

الاسم : اللقب : القسم :	إِمْتِحَانَات نِهَآيَةِ الثَّلَاثِي الْأَوَّل عَدَد : 4	الْمَادَّة : رِيَاضِيَّات (حِسَابٌ ذِهْنِيٌّ) الْمُسْتَوَى : السَّنَةِ الثَّانِيَّة
-------------------------------	------------------------------------------------------------	---------------------------------------------------------------------------------------------

النَّقَاطُ الْمُسْتَنَدَةُ	الْحَلُّ	الْأُنْشُطَةُ
1	1 - عَدَّتْ الْجَدَّةُ دَجَاجَهَا فَوَجَدَتْ عِنْدَهَا 9. أَخْصِرُ الْعَدَدَ 9 بَيْنَ عَدَدٍ يَسْبِقُهُ مُبَآشِرَةً وَآخَرَ يَلِيهِ مُبَآشِرَةً.
1	2 - وَجَدَتْ الْجَدَّةُ فِي فُنِّ الدَّجَاجِ 6 بَيْضَاتٍ، وَفِي عُشِّ آخَرَ 8 بَيْضَاتٍ. أَحْسِبُ عَدَدَ الْبَيْضِ الَّذِي تَحَصَّلَتْ عَلَيْهِ.
1	3 - تَجْمَعُ الْجَدَّةُ الْبَيْضَ فِي سَلَّةٍ. هَا هِيَ تَعُدُّهُ بِالطَّرِيقَةِ التَّالِيَةِ : 2 - 4 - 6 - 8 - 10 - 12 - أَكْتُبُ الْعَدَدَيْنِ الْمُوَالِيَيْنِ مُحَافِظًا عَلَى نَفْسِ الْإِنْتِظَامِ.
1	4 - أَخْرَجَتْ الْجَدَّةُ 10 بَيْضَاتٍ اسْتَعْمَلَتْ مِنْهَا 6 لِصُنْعِ مُرْطَبَةٍ. كَمْ بَيْضَةً لَمْ تَسْتَعْمِلْهَا.

.....
4

إِمْتِحَانَات جِسْرِ النَّجَاح

المادة : رياضيات
المستوى : السنة الثانية

إختبار نهاية الثلاثي الأول
عدد : 4

الاسم :
اللقب :
القسم :

النقاط المستندة	الأنشطة	المعايير																
0,5	<p>السند 1 :</p> <p>يُقْضَى أَحْمَدُ عَطْلَةَ الشِّتَاءِ فِي الرَّيْفِ عِنْدَ جَدَّتِهِ. وَكَانَ يُسَاعِدُ جَدَّهُ فِي الْأَعْمَالِ الْفِلَاحِيَّةِ. فِي هَذَا الشِّتَاءِ عَرَسَ الْجَدُّ : 18 شَجَرَةَ زَيْتُونٍ. 16 شَجَرَةَ تَفَّاحٍ. 15 شَجَرَةَ خَوْخٍ.</p> <p>التَّعْلِيمَةُ 1 : أَلِاحِظْ الْجَدُولَ وَأَبْحَثْ عَنْ :</p>	<p>معا</p> <p><input type="checkbox"/></p> <p>مع2ب</p> <p><input type="checkbox"/></p>																
1 جُمْلَةٌ أَشْجَارِ الزَّيْتُونِ.	<input type="checkbox"/>																
1 جُمْلَةٌ أَشْجَارِ التَّفَّاحِ.	<input type="checkbox"/>																
1 جُمْلَةٌ أَشْجَارِ الْخَوْخِ.	<input type="checkbox"/>																
0,5	<table border="1"> <thead> <tr> <th>جُمْلَةُ الْأَشْجَارِ مِنْ كُلِّ نَوْعٍ</th> <th>عَدَدُ الْأَشْجَارِ الْمَعْرُوسَةِ هَذَا الشِّتَاءِ</th> <th>عَدَدُ الْأَشْجَارِ فِي الْحَقْلِ</th> <th>أَنْوَاعُ الْأَشْجَارِ</th> </tr> </thead> <tbody> <tr> <td>.....</td> <td>18</td> <td>36</td> <td>الزَّيْتُونُ</td> </tr> <tr> <td>.....</td> <td>16</td> <td>14</td> <td>التَّفَّاحُ</td> </tr> <tr> <td>.....</td> <td>15</td> <td>23</td> <td>الْخَوْخُ</td> </tr> </tbody> </table>	جُمْلَةُ الْأَشْجَارِ مِنْ كُلِّ نَوْعٍ	عَدَدُ الْأَشْجَارِ الْمَعْرُوسَةِ هَذَا الشِّتَاءِ	عَدَدُ الْأَشْجَارِ فِي الْحَقْلِ	أَنْوَاعُ الْأَشْجَارِ	18	36	الزَّيْتُونُ	16	14	التَّفَّاحُ	15	23	الْخَوْخُ	<p>مع2أ</p> <p><input type="checkbox"/></p>
جُمْلَةُ الْأَشْجَارِ مِنْ كُلِّ نَوْعٍ	عَدَدُ الْأَشْجَارِ الْمَعْرُوسَةِ هَذَا الشِّتَاءِ	عَدَدُ الْأَشْجَارِ فِي الْحَقْلِ	أَنْوَاعُ الْأَشْجَارِ															
.....	18	36	الزَّيْتُونُ															
.....	16	14	التَّفَّاحُ															
.....	15	23	الْخَوْخُ															
0,5	<p>التَّعْلِيمَةُ 2 : أَرْتَبُ الْأَعْدَادَ الَّتِي تُمَثِّلُ جُمْلَةَ الْأَشْجَارِ تَنَازُلِيًّا.</p> <p>.....</p>	<p>مع1</p> <p><input type="checkbox"/></p>																
1	<p>السند 2 :</p> <p>تَفَقَّدَ الْجَدُّ زَرْبِيَّةَ حَيَوَانَاتِهِ. عَدَّهَا أَحْمَدُ فَوَجَدَ 48 رَأْسَ غَنَمٍ.</p> <p>التَّعْلِيمَةُ 1 : مَا هُوَ عَدَدُ الْكِبَاشِ إِذَا كَانَ فِي الْقَطِيعِ 13 نَعْجَةً ؟</p> <p>.....</p>	<p>مع2ج</p> <p><input type="checkbox"/></p>																
0,5	<p>التَّعْلِيمَةُ 2 : أَرْتَبُ أَعْدَادَ الْعَمَلِيَّةِ تَصَاعُدِيًّا.</p> <p>.....</p>	<p>مع2أ</p> <p><input type="checkbox"/></p>																

السَّنَدُ 3 :
يَوْمَ السُّوقِ الْأُسْبُوعِيَّةِ عَرَضَ الْجَدُّ 17 كَبْشًا لِلْبَيْعِ. بَاعَ مِنْهَا 10 كِبَاشٍ وَرَجَعَ بِالْبَاقِي
إِلَى الضُّيْعَةِ.
التَّعْلِيمَةُ 1 : أَحْسِبْ عَدَدَ الْحَيَوَانَاتِ الَّتِي رَجَعَ بِهَا.

مع 2 ج

التَّعْلِيمَةُ 2 : أَسَاعِدُ الْجَدُّ عَلَى مَعْرِفَةِ عَدَدِ الْأَغْنَامِ الْبَاقِيَةِ بَعْدَ الْبَيْعِ بِطَرِيقَتَيْنِ.

مع 5

الطَّرِيقَةُ الْأُولَى :

الطَّرِيقَةُ الثَّانِيَةُ :

السَّنَدُ 4 :

أَعْطَتْ الْجَدَّةُ حَفِيدَهَا 85 مِي. صَرَفَ مِنْهَا 40 مِي لِشِرَاءِ حَلْوَى.
التَّعْلِيمَةُ 1 : أَمْتَلِ الْمَبْلَغَ الَّذِي سَلَّمَتْهُ الْجَدَّةُ لِحَفِيدِهَا بِأَقْلَ عَدَدٍ مِنَ الْقِطَعِ النَّقْدِيَّةِ.

مع 1

مع 3

التَّعْلِيمَةُ 2 : كَمْ بَقِيَ لِلطُّفْلِ بِالْمِي ؟

مع 2 ج

التَّعْلِيمَةُ 3 : أَرْتَبُ أَعْدَادَ الْعَمَلِيَّةِ.

مع 2 أ

التَّعْلِيمَةُ 4 : أَمْتَلِ الْمَبْلَغَ الْبَاقِيَ لِأَحْمَدَ بِأَرْبَعِ قِطَعِ نَقْدِيَّةِ.

مع 3

التَّعْلِيمَةُ 5 : أَمْتَلِ الْمَبْلَغَ الْبَاقِيَ بِأَقْلَ مَا يُمَكِّنُ مِنَ الْقِطَعِ النَّقْدِيَّةِ.

تَقَدُّمُ الْجَدَّةِ كُلُّ صَبَاحِ الْعَلْفِ لِلدَّوَابِّ.
التَّوَلِيْمَةُ : أَسْتَعِينُ بِالْمَشْهَدِ وَأَتَمِّمُ الْفَرَاقَاتِ بِمَا يَنْسِبُ.



يُمَسِّكُ أَحْمَدُ الْقَفَّةَ بِيَدِهِ
الْبَطَّةُ عَلَى الْجَدَّةِ.
أَحْمَدُ وَاقِفٌ الْجَدَّةِ.

0,5

0,5

0,5

جَدْوَلُ إِسْنَادِ الْأَعْدَادِ

الْحِسَابُ الذَّهْنِيُّ	مِعْيَارُ التَّمْيِيزِ	مَعَايِيرُ الْحَدِّ الْأَدْنَى						مُسْتَوِيَاتُ التَّمَلُّكِ
		معد 5	معد 4	معد 3	معد 2 ج	معد 2 ب	معد 2 أ	
$\frac{\cdot}{4}$	معد 5	0	0	0	0	0	0	0
	1	0,5	0,5	1	1	0,5	0,5	إِنْعَادَامُ التَّمَلُّكِ
	2	1	1	2	2	1	1	التَّمَلُّكُ دُونَ الْأَدْنَى
$\frac{\cdot}{20} = \frac{\cdot}{4} + \frac{\cdot}{16}$	4	1,5	1,5	3	3	1,5	1,5	التَّمَلُّكُ الْأَدْنَى
								التَّمَلُّكُ الْأَقْصَى

إِمْتِحَانَاتِ جِسْرِ النِّجَاحِ

إِخْتِبَارِ نِهَآيَةِ الثَّلَاثِي الأَوَّلِ

عَدَد : 7

المَادَّة : إِيقَاطِ عِلْمِيّ
المُسْتَوَى : السَّنَةِ الثَّانِيَةِ

الأَسْم :
اللقَّب :
القِسْم :


النَّقَاطُ
المُسْتَدَّةُ

الأَنْشِيطَةُ

المَعَايِرُ

السَّنَدُ 1 :

جَلَسْتُ رَانِيَةَ حَدْوِ جَدِّهَا، يُشَاهِدَانِ بَرَنَامَجًا تَلْفِزِيًّا حَوْلَ الحَيَوَانَاتِ، فَاسْتَعَلَّتْ
الْبِنْتُ النُّشِيطَةَ الفُرْصَةَ، وَدَوَّنتْ مَعْلُومَاتٍ وَأَنْجَزَتْ تَدْرِيبَاتٍ. أَشَارِكُ رَانِيَةَ عَمَلَهَا المُثْمِرَ
وَأُنْجِزُ مَا يَلِي :



التَّعْلِيمَةُ 1 : أَرْبِطُ بَيْنَ الحَيَوَانَاتِ وَالصَّنْفِ الَّذِي يَنَاسِبُهَا.

العِجْلُ

مِنَ الحَيَوَانَاتِ الأَلِيْفَةِ

الفَرَسُ

السُّنْجَابُ

مِنَ الحَيَوَانَاتِ البَرِّيَّةِ

التَّمْسَاحُ

الفَهْدُ

التَّعْلَبُ

التَّعْلِيمَةُ 2 : أَكْتُبُ الحَيَوَانَاتِ التَّالِيَةَ فِي الفَرَاغَاتِ لِأَحْصَلَ عَلَى إِفَادَاتٍ صَحِيحَةٍ.

الجَمَلُ - النِّمْرُ - الفَأْرُ - العُزَّالَةُ - العِجْلُ - الكَلْبُ

حَيَوَانُ بَرِّيٌّ كَالِشِّ.

حَيَوَانُ أَلِيْفٍ لَاحِمٌ.

حَيَوَانُ بَرِّيٌّ لَاحِمٌ.

حَيَوَانُ بَرِّيٌّ عَاشِبٌ.

حَيَوَانُ أَلِيْفٍ عَاشِبٌ.

حَيَوَانُ أَلِيْفٍ عَاشِبٌ.

معاً

معاب


التَّعْلِيمَةُ 3 : أَتَذَكِّرُ فَوَائِدَ الْحَيَوَانَاتِ وَأُضْلِحُ مَا وَرَدَ فِي الْجَدْوَلِ مِنْ أخطاءٍ، وَذَلِكَ بِإِتِّمَامِ الْفَرَاعَاتِ فِي الْمُخَطِّطِ.

الْحَيَوَانَاتُ	الْفَوَائِدُ
الْخُرُوفُ	الْبَيْضُ وَاللَّحْمُ
العِجْلُ	الصُّوفُ وَالْجِلْدُ وَاللَّحْمُ
الدَّجَاجَةُ	الْجِلْدُ وَاللَّحْمُ

1

1

1



السَّنَدُ 2 :

تَذَكَّرْتُ رَأْيِيَةَ أَنَّ الْعِذَاءَ ضَرُورِيٌّ لِلْإِنْسَانِ وَالْحَيَوَانَاتِ فَأَرَادَتْ أَنْ تُصَنَّفَ مَجْمُوعَةً مِنَ النَّبَاتَاتِ. أَسَاعِدْهَا عَلَى ذَلِكَ.

التَّعْلِيمَةُ 4 : أَحِيطُ بِخَطِّ مُغْلَقِ الصَّنْفِ الْمُنَاسِبِ لِكُلِّ نَبَاتٍ مِمَّا يَلِي :


1

1

1

الْبُرْتُقَالُ ← تَلْقَائِيٌّ - مَزْرُوعٌ - مَعْرُوسٌ
 الزَّعْتَرُ ← مَعْرُوسٌ - تَلْقَائِيٌّ
 الْقَمْحُ ← تَلْقَائِيٌّ - مَعْرُوسٌ - مَزْرُوعٌ

السَّنَدُ 3 : أَنْهَتْ رَأْيِيَةَ مُشَاهِدَةَ الْبَرْنَامِجِ التَّلْفِزِيِّ، فَأَحْضَرَتْ لَوَازِمَ الرَّسْمِ، وَرَسَمَتْ مَشْهَدًا طَبِيعِيًّا، أَتَأَمَّلُ مَا رَسَمْتَهُ رَأْيِيَةَ وَأُنْجِزُ.



التَّعْلِيمَةُ 5 : أَضَعُ فِي إِطَارِ الْعِبَارَةِ الصَّحِيحَةَ ثُمَّ أَعْلَلُ.

يَظْهَرُ الْفَيْلُ لِلْفَهْدِ كَلِيًّا - جُزْئِيًّا.

مع2

التَّعْلِيمَةُ 6 :

أَرْبُطُ بِخَطَيْنِ ثُمَّ أَعْلَلُ.

مع2ب

- الأَقْرَبُ لِلْفَهْدِ.
- الأَبْعَدُ عَنِ الْفَهْدِ.

• الْفَيْلُ

• الشُّجْرَةُ

أَعْلَلُ :

مع3

السَّنَدُ 4 :

أَسْتَفِيدُ مِمَّا أَنْجَزْتُهُ رَابِعَةً، وَأَتَذَكَّرُ مَعَارِفِي.

التَّعْلِيمَةُ 7 : أَشْطَبُ الْعِبَارَاتِ الْخَاطِئَةَ.

كَمِّيَّةُ الْمَاءِ بِالْخَزَّانِ

الْمَسَافَةُ بَيْنَ الْمَدْرَسَةِ وَالْمَنْزِلِ

بِاللِّتْرِ

بِالْمِتْرِ

السَّعَاتِ

الْأَطْوَالِ

قَيْسُ

بِالْمِتْرِ

بِاللِّتْرِ

الْأَطْوَالِ

السَّعَاتِ

قَيْسُ

جَدْوَلُ إِسْنَادِ الْأَعْدَادِ

مِغْيَارُ التَّمْيِيزِ	مَعَايِيرُ الْحَدِّ الْأَدْنَى					مُسْتَوِيَّاتُ التَّمَلُّكِ
	مع3	مع2ب	مع2أ	معاج	معاب	
1,5 - 1 - 0,5	0	0	0	0	0	إِنْعِدَامُ التَّمَلُّكِ
3 - 2,5 - 2	1,5 - 1 - 0,5	1	1	1,5 - 1 - 0,5	1,5 - 1 - 0,5	التَّمَلُّكُ دُونَ الْأَدْنَى
4,5 - 4 - 3,5	2	2	2	2	2	التَّمَلُّكُ الْأَدْنَى
5	3 - 2,5	3	3	3 - 2,5	3 - 2,5	التَّمَلُّكُ الْأَقْصَى

إِمْتِحَانَات جِسْرِ النَّجَاح

المادة : إيقاظ علمي
المستوى : السنة الثانية

إختبار نهاية الثلاثي الأول
عدد : 2

الاسم :
اللقب :
القسم :

الأنشطة

النقاط
المستندة

المعايير

السند 1 : يستعد وسيم لإنجاز الاختبارات، لذلك كانت أمه تساعد في المراجعة المنزلية، فأفترحت عليه مجموعة من التمارين وطلبت منه إنجازها. استعد مع وسيم للاختبارات وأشار له أنشطة المراجعة.


التعليمة 1 : أصنف الحيوانات التالية بوضع علامة (x) في الخانة المناسبة.

الحيوانات	الحيّة	الجرو	الفيل	ابن آوى	الثاقه
نوعها					
أليفة / أليف					
برية / بري					


التعليمة 2 : أربط كل حيوان باسمه ونوعه حسب غذائه والوسط الذي يعيش فيه.



• أسد • حيوان أليف عاشب



• بقرة • حيوان أليف لاجم



• قط • حيوان بري لاجم

السند 2 : قال وسيم لأمه : « للحيوانات فوائد فالإنسان يستفيد من لحم الدجاجة وبيضها أما الخروف فلا نستفيد إلا من لحمه. »

التعليمة 3 : أعيد كتابة الجزء الخاطي في قول وسيم مصلحا.

1
1

مع 3

السَّنْدُ 3 :

أَنْصَتَتْ الأُمُّ لِابْنِهَا، وَأَصْلَحَتْ خَطَاهُ ثُمَّ دَعَتْهُ إِلَى إِنْجَازِ التَّمَارِينِ التَّالِيَةِ حَوْلَ النَّبَاتَاتِ.
التَّعْلِيمَةُ 4 : أَكْتُبْ مَا يُنَاسِبُ مِنَ الأَعْمَالِ فِي الخَانَاتِ الفَارِغَةِ.

مِنْ أَعْمَالِ العِنَايَةِ بِالنَّبَاتَاتِ المَغْرُوسَةِ

معاج

0,5
0,5
0,5

3 مع

2 مع

التَّعْلِيمَةُ 5 : أَقْرَأِ الإِفَادَةَ ثُمَّ أَكْتُبْ أَمَامَهَا «خَطَأً» أَوْ «صَوَابً» ثُمَّ أَعْلَلْ إِجَابَتِي بِثَلَاثَةِ أَمْثَلَةٍ.

1
1
1
1

أَشْجَارُ الغَابَةِ كَبِيرَةٌ وَلَا تَهْدُدُهَا الأَخْطَارُ.....


أَعْلَلْ : *

*

*

السَّنْدُ 4 :

تَوَقَّفَ وَسِيمٌ عَنِ العَمَلِ لِفَتْرَةٍ وَجِيزَةٍ، وَجَلَسَ فِي شُرْفَةِ المَنْزِلِ فَرَأَى المَشْهَدَ التَّالِيَّ :



0,5
0,5
0,5

معاد

التَّعْلِيمَةُ 6 : أَتَأَمَّلُ المَشْهَدَ وَأُرَتِّبُ مِنَ الأَقْرَبِ إِلَى الأَبْعَدِ عَن وَسِيمٍ بِوَضْعِ الأَرْقَامِ مِنْ 1 إِلَى 3.

السَّيَّارَةُ - شَجَرَةُ الزَّيْتُونِ - شَجَرَةُ الصَّنَوْبَرِ

التَّعْلِيمَةُ 7 : أَسْتَعِينُ بِالْكَلِمَاتِ الْمُسَطَّرَةِ وَأُعِيدُ كِتَابَةَ الْإِفَادَةِ مُصَلِحَةً.

يَظْهَرُ الْجِسْمُ الْبَعِيدُ لِلنَّازِرِ كَبِيرًا.

مع3

1

1

السَّنْدُ 5 :

قَالَ وَسِيمٌ بِالْإِعْتِمَادِ عَلَى خُطْوَتِي أَسْتَطِيعُ أَنْ أَقِيسَ بِدِقَّةٍ الْمَسَافَةَ الَّتِي تَفْصِلُنِي عَنْ سَيَّارَةِ

أَبِي.

مع2ب

التَّعْلِيمَةُ 8 : أَضَعْ عَلَامَةَ (x) فِي الْخَانَةِ الْمُنَاسِبَةِ.

أُؤَافِقُ عَلَى قَوْلِ وَسِيمٍ.

لَا أُؤَافِقُ عَلَى قَوْلِ وَسِيمٍ.

MOURAJAA.COM

أُعَلِّلُ :

1

1

جَدْوَلُ إِسْتِنَادِ الْأَعْدَادِ

مَعْيَارُ التَّمَيُّزِ	مَعَايِرُ الْحَدِّ الْأَدْنَى						مُسْتَوِيَّاتُ التَّمَلُّكِ
	مع3	مع2ب	مع2أ	مع1د	مع1ج	مع1أ	
1	0	0	0	0	0	0	إِنْعِدَامُ التَّمَلُّكِ
2	1	1	0,5	0,5	1,5 - 1 - 0,5	1,5 - 1 - 0,5	التَّمَلُّكُ دُونَ الْأَدْنَى
3	2	2	1	1	2	2	التَّمَلُّكُ الْأَدْنَى
4	3	3	1,5	1,5	3 - 2,5	3 - 2,5	التَّمَلُّكُ الْأَفْصَى

إِمْتِحَانَاتِ جِسْرِ النَّجَاحِ

المادة : إيقاظ علمي
المستوى : السنة الثانية

إختبار نهاية الثلاثي الأول
عدد : 3


الاسم :
اللقب :
القسم :

النقاط
المُسندة

الأنشطة

المعايير

السند 1 : سامي يعمل بنصائح أبيه ومعلميه، فهو يستغل أوقات فراغه في إنجاز أنشطة مفيدة. أتأمل المشهد الذي رسمه سامي ثم أنجز التدريبات.



التعليمة 1 : أكمل الفراغات حسب المطلوب بأسماء حيوانات من المشهد.

..... حيوان بري عاشب.

..... حيوان أليف لاجم.

..... حيوان أليف عاشب.

التعليمة 2 : أحيط بخط مغلق العدد الصحيح ثم أعلل.

* عدد الحيوانات البرية العاشبة في المشهد : 8 - 3 - 4 - 7

أعلل :

التعليمة 3 : أصنف الكلمات التالية لأحصل على إفادتين صحيحتين :

بعيد - صغيرا - الفيل - الكلب - كبيرا - قريب

يظهر للراعي لأنه

يظهر للراعي لأنه

مع 1أ

مع 2أ

مع 1ب

السند 2 : بَعْدَ أَنْ رَسَمَ سَامِي الْمَشْهَدَ حَرَّرَ فِقْرَةً حَوْلَ حَيَاةِ الرَّاعِي، وَأَنْشِطْتِهِ وَمَا يُشَاهِدُهُ مِنْ نَبَاتَاتٍ تَلْقَائِيَّةٍ وَأُخْرَى يَغْرِسُهَا أَوْ يَزْرَعُهَا وَيَعْتَنِي بِهَا.
التَّعْلِيمَةُ 4 : أَصْنَفُ نَبَاتَاتِ الْجَدْوَلِ بِوَضْعِ عِلَامَةِ (x) فِي الْجَدْوَلِ.

صِنْفُهَا	النَّبَاتَاتُ	الرَّيْتُونُ	زَهْرُ الْأَقْحُوَانِ	الْجُلْبَانُ	الرَّعْتَرُ	الْقَمْحُ	اللُّوزُ
تَلْقَائِيَّةٌ							
مَعْرُوسَةٌ							
مَزْرُوعَةٌ							

0,5
0,5
0,5
0,5
0,5
0,5

السند 3 : كَوَّنَ سَامِي عِدَّةَ جُمَلٍ حَوْلَ الْمَشْهَدِ الَّذِي رَسَمَهُ.
أَقْرَأُ الْجُمْلَتَيْنِ التَّالِيَتَيْنِ ثُمَّ أَصْلِحُهُمَا.
* الزَّرَافَةُ هِيَ الْأَقْرَبُ لِلرَّاعِي مِنَ الْفِيلِ.

التَّعْلِيمَةُ 6 أ : أَصْلِحُ :

التَّعْلِيمَةُ 6 ب : أَعْلَلُ :

* نَقِيسُ عَرَضِ النَّهْرِ بِاللِّتْرِ.

التَّعْلِيمَةُ 7 أ : أَصْلِحُ :

التَّعْلِيمَةُ 7 ب : أَعْلَلُ :

السند 4 : بِالْأَسْهُمِ أَقَامَ سَامِي الْعِلَاقَتَيْنِ التَّالِيَتَيْنِ، أَتَأَمَّلُ الْمُخَطَّطَ التَّالِيَّ جَيِّدًا ثُمَّ أَصْلِحُ.

مِثْرٌ وَاحِدٌ ← 1 ل
لِتْرٌ وَاحِدٌ ← 1 مي

التَّعْلِيمَةُ 8 : أَعْمَرُ الْجَدْوَلَ بِمَا يُنَاسِبُ مِنَ الرُّمُوزِ.

0,5
0,5
0,5
0,5
0,5
0,5

رُمُوزُهَا	وَحَدَاتُ الْقَيْسِ	1
لِتْرٌ وَاحِدٌ	x	
مِثْرٌ وَاحِدٌ		x

جَدْوَلُ إِسْنَادِ الْأَعْدَادِ

مِغْيَارُ التَّمْيِيزِ	مَعَايِرُ الْحَدِّ الْأَدْتِي						مُسْتَوَاتُ التَّمْلِكِ	
	مع3	مع2ب	مع2أ	مع1د	معاج	معاب		مع1أ
1		0	0	0	0	0	0	إِنْعِدَامُ التَّمْلِكِ ---
2		0,5	0,5	1	1,5 - 1 - 0,5	1,5 - 1 - 0,5	1	التَّمْلِكُ دُونَ الْأَدْتِي --
3		1	1	2	2	2	2	التَّمْلِكُ الْأَدْتِي --+
4		1,5	1,5	3	3 - 2,5	3 - 2,5	3	التَّمْلِكُ الْأَفْضَى +++

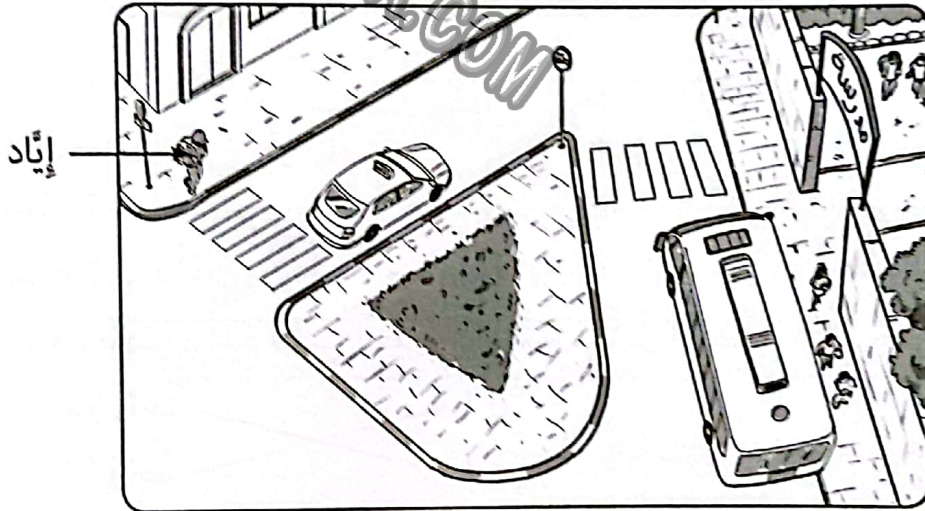
إِمْتِحَانَاتِ جِسْرِ النِّجَاحِ

الأسم : اللقب : القسم :	إِخْتِبَارِ نِهَآيَةِ الثَّلَاثِي الأَوَّلِ عَدَد : 4	المَادَّة : إِيقَاطِ عِلْمِي المُسْتَوَى : السَّنَةِ الثَّانِيَةِ
-------------------------------	-----------------------------------------------------------------	----------------------------------------------------------------------

النَّقَاطُ المُسْتَدَدُ	الأَنْشِطَةُ	المَعَايِرُ
----------------------------	--------------	-------------

السَّنَدُ 1 :

نَظَمَتِ المَدْرَسَةُ رِحْلَةً تَرْفِيهِيَّةً وَدِرَاسِيَّةً إِلَى مَحْمِيَّةٍ طَبِيعِيَّةٍ، فَشَارَكَ فِيهَا إِيَادُ. وَفِي اليَوْمِ المَوْعُودِ نَهَضَ إِيَادُ بَآكِرًا فَاسْتَعَدَّ لِلرِّحْلَةِ ثُمَّ غَادَرَ المَنْزِلَ، وَاتَّجَهَ نَحْوَ المَدْرَسَةِ، حَيْثُ كَانَتِ الحَافِلَةُ فِي انْتِظَارِ المُشَارِكِينَ. التَّعْلِيمَةُ 1 : أَتَأَمَّلُ المَشْهَدَ ثُمَّ أُنَجِّزُ.



أَكْتُبِ المُنْفَرَدَاتِ فِي الخَانَاتِ لِأَرْتَبَ مَا أَرَاهُ فِي المَشْهَدِ مِنَ الأَبْعَدِ إِلَى الأَقْرَبِ لِإِيَادِ :

سَيَّارَةُ الأَجْرَةِ / المَدْرَسَةُ / الحَافِلَةُ

1
1
1

3	2	1

التَّعْلِيمَةُ 2 : أَكْمَلِ الفَرَاقَاتِ بِمَا يُنَاسِبُ مِنَ العِبَارَتَيْنِ التَّالِيَتَيْنِ : كَلِمًا - جُزْئِيًا

1
1
1

تَظَهَّرَ الحَافِلَةُ لِإِيَادِ

تَظَهَّرَ سَيَّارَةُ الأَجْرَةِ لِإِيَادِ

تَظَهَّرَ الحَافِلَةُ لِسَاقِي سَيَّارَةِ الأَجْرَةِ

معا

معا

التعليمة 3 : أضع الأقيسة المناسبة في خط مغلق.

قيس عرض الطريق : 2 م - 16 م - 80 م

قيس طول الحافلة : 2 م - 4 م - 12 م

قيس عرض الحافلة : 2 م - 8 م - 10 م

التعليمة 4 : أعيد كتابة الإفادات التالية صحيحة.

نقيس عمق خزان الماء باللتر.

أصلح :

اللتر هو الوحدة الأساسية لقيس الأطوال.

أصلح :

المسافة بين الحافلة وسيارة الأجرة < المسافة بين إياد والحافلة.

أصلح :


السند 2 :

وصل إياد إلى المحمية فسجل عدة معلومات حول النباتات والحيوانات ثم استثمرها

في إعداد مجموعة من التمارين. أشارك إيادًا في إنجازها.

التعليمة 5 : أصنف ما يلي في الفراغات :

حيوان لاجم / حيوان كالش / حيوان عاشب



.....

.....

.....

مراج



3-2-1



معاد



التَّعْلِيمَةُ 6 : أَكْتُبُ أَمَامَ الْإِفَادَةِ «خَطًا» أَوْ «صَوَابًا» ثُمَّ أَعْلَلُ بِكِتَابَةِ مِثَالَيْنِ.

مع2أ

* تَعِيشُ بَعْضُ الْحَيَوَانَاتِ فِي الْمَحْمِيَةِ لِأَنَّهَا مُهَدَّدَةٌ .

أَعْلَلُ :

التَّعْلِيمَةُ 7 : أَعْلَلُ الْإِفَادَةَ التَّالِيَةَ بِثَلَاثَةِ أَمْثَلَةٍ.

مع2ب

مِيَاهُ الْأَمْطَارِ لَا تَكْفِي لِتَعِيشِ الْأَشْجَارِ الْمُثْمِرَةِ.

السَّنَدُ 3 :

إِرْتَكَبَ إِيَادٌ خَطَّائِينَ فِي تَدْوِينِ الْمَعْلُومَاتِ.

التَّعْلِيمَةُ 8 : الْأَعْشَابُ الطُّفَيْلِيَّةُ نَبَاتَاتٌ مَرْزُوعَةٌ.

أُصْلِحْ :

الْقَوْلُ نَبَاتٌ مَعْرُوسٌ.

أُصْلِحْ :

جَدْوَلُ إِسْنَادِ الْأَعْدَادِ

مِغْيَارُ التَّمْيِيزِ	مَعَايِيرُ الْحَدِّ الْأَدْنَى						مُسْتَوِيَّاتُ التَّمَلُّكِ
	مع3	مع2ب	مع2أ	مع1د	مع1ج	مع1ب	
1	0	0	0	0	0	0	إِنْعِدَامُ التَّمَلُّكِ
2	1	1	0,5	0,5	1	1	التَّمَلُّكُ ذَوْنِ الْأَدْنَى
3	2	2	1	1	2	2	التَّمَلُّكُ الْأَدْنَى
4	3	3	1,5	1,5	3	3	التَّمَلُّكُ الْأَفْصَى

إِمْتِحَانَاتِ جِسْرِ النِّجَاحِ

المادة : التَّربِيَّةُ الإِسْلَامِيَّةُ
المستوى : السَّنَةُ الثَّانِيَّةُ

إِخْتِبَارِ نِهَآيَةِ الثَّلَاثِي الأَوَّلِ

عَدَد : 1

الاسم :
اللقب :
القسم :

الأُنشِطَةُ

النَّقَاطُ
المُسْتَنَدَةُ

المَعَايِيرُ

السَّنَدُ 1 : إِسْتَيْقَظَ خَلِيلٌ فِي الصَّبَاحِ، فَرَتَّبَ فِرَاشَهُ، ثُمَّ غَسَلَ أَطْرَافَهُ وَنَظَّفَ أَسْنَانَهُ وَارْتَدَى مَلَابِسَ نَظِيفَةً وَخَرَجَ إِلَى الحَدِيقَةِ، فَإِذَا الأشْجَارُ مُورِقَةٌ وَالْأَزْهَارُ مُتَفَتِّحَةٌ وَالْعَصَافِيرُ تُزْفِرِقُ، وَالْفَرَاشَاتُ تَطِيرُ مِنْ مَكَانٍ إِلَى مَكَانٍ. أُعْجِبَ خَلِيلٌ بِهَذَا الجَمَالِ وَتَسَاءَلَ فِي نَفْسِهِ...

التَّعْلِيمَةُ 1 : أَعْمُرُ الجَدُولَ بِمَا يُنَاسِبُ مِنَ الأَعْمَالِ الوَارِدَةِ فِي النِّصْنِ.

0,5

0,5

0,5

عَمَلٌ يَدُلُّ عَلَى نَظَافَةِ الجِسْمِ	عَمَلٌ يَدُلُّ عَلَى نَظَافَةِ البَيْتِ	عَمَلٌ يَدُلُّ عَلَى نَظَافَةِ الثِّيَابِ
.....
.....

1

التَّعْلِيمَةُ 2 : أَكْتُبُ الأَيَّةَ الدَّالَّةَ عَلَى نَظَافَةِ الثِّيَابِ.

قَالَ اللهُ تَعَالَى : « »

التَّعْلِيمَةُ 3 : أَضَعُ العَلَامَةَ (x) أَمَامَ مَا أَرَاهُ صَحِيحًا.

- الإِنْسَانُ هُوَ المُتَسَبِّبُ فِي الجَمَالِ وَالإِبْدَاعِ فِي الكَوْنِ.

- اللهُ هُوَ الخَالِقُ وَالمُتَسَبِّبُ الوَحِيدُ فِي الجَمَالِ وَالإِبْدَاعِ فِي الكَوْنِ.

- الطَّبِيعَةُ هِيَ المُسْوُولَةُ عَنِ الجَمَالِ وَالإِبْدَاعِ.

التَّعْلِيمَةُ 4 : أَكْمَلُ الأَيَّةَ بِالمُفْرَدَاتِ التَّالِيَةِ : (لَكُمْ - خَلَقَ - جَمِيعًا)

قَالَ اللهُ تَعَالَى : « هُوَ الَّذِي مَا فِي الأَرْضِ »

1

التَّعْلِيمَةُ 5 : أَرَادَ خَلِيلٌ شُكْرَ اللهِ عَلَى نِعْمِهِ. سَاعِدْهُ عَلَى ذَلِكَ بِشَطْبِ مَا لَا يُنَاسِبُ :

- الثَّنَاءُ عَلَى اللهِ.

- عَدَمُ مُسَاعَدَةِ المُحْتَاجِينَ.

- العَبَثُ بِالأَشْجَارِ وَالْأَزْهَارِ.

- الْإِلْتِزَامُ بِعِبَادَةِ اللَّهِ.
- الْقِيَامُ بِالْأَعْمَالِ الصَّالِحَةِ.

السَّنَدُ 2 :

- بَعْضُ النَّاسِ لَا يَشْكُرُونَ اللَّهَ عَلَى نِعَمِهِ، وَلَا يَعْمَلُونَ أَعْمَالًا صَالِحَةً وَقَدْ ذَكَرَهُمُ اللَّهُ فِي سُورَةِ الْإِخْلَاصِ.

التَّعْلِيمَةُ 1 : أَرْتَبُ الْآيَاتِ مِنْ سُورَةِ الْإِخْلَاصِ بِوَضْعِ الْأَرْقَامِ مِنْ 1 إِلَى 4.

- وَتَوَاصَوْا بِالْحَقِّ

- وَالْعَصْرَ إِنَّ الْإِنْسَانَ لَفِي خُسْرٍ

- إِلَّا الَّذِينَ آمَنُوا وَعَمِلُوا الصَّالِحَاتِ

- وَتَوَاصَوْا بِالصَّبْرِ

السَّنَدُ 3 :

- سَمِعَ خَلِيلٌ أُمَّهُ تُنَادِيهِ لِيسَاعِدَهَا فِي إِعْدَادِ مَائِدَةِ الطَّعَامِ، فَلَبَّى طَلِبَهَا بِسُرْعَةٍ.

التَّعْلِيمَةُ 1 : مَا رَأَيْتَ فِيهَا قَامَ بِهِ خَلِيلٌ، وَلِمَذَا ؟

معاب

معاج

مع3

التَّعْلِيمَةُ 2 :

اَكْتُبِ الْآيَةَ الدَّالَّةَ عَلَى الْإِحْسَانِ لِلْوَالِدَيْنِ إِنْطِلَاقًا مِنَ الْمُفْرَدَاتِ التَّالِيَةِ :

إِلَّا إِيَّاهُ

وَبِالْوَالِدَيْنِ

وَقَضَى رَبُّكَ

إِحْسَانًا

أَلَّا تَعْبُدُوا

مع2ب

« قَالَ اللَّهُ تَعَالَى : »

جَدْوَلُ إِسْنَادِ الْأَعْدَادِ

الشَّفَوِي	مَعَايِيرُ الْحَدِّ الْأَدْنَى						التَّمَلُّكُ مُسْتَوِيَّاتٌ
	مِعْيَارُ التَّمْيِيزِ	مع4	مع3	مع2ب	مع2أ	مع1ب	
- سَلَامَةُ النُّطْقِ : مِنْ 0 إِلَى 2	مع4	مع3	مع2ب	مع2أ	مع1ب	مع1أ	التَّمَلُّكُ
- الْأَسْتِرْتِاقُ : مِنْ 0 إِلَى 2	0	0	0	0	0	0	التَّمَلُّكُ دُونَ الْأَدْنَى
- الْأَسْتِظْهَارُ الْكَامِلُ : مِنْ 0 إِلَى 2	1	1	0,5	0,5	0,5	0,5	التَّمَلُّكُ الْأَدْنَى
- التُّلَاوَةُ : مِنْ 0 إِلَى 2	2	2	1	1	1	1	التَّمَلُّكُ الْأَفْصَى
	3	3	1,5	1,5	1,5	1,5	

إِمْتِحَانَات جِسْرِ النَّجَاح

إِخْتِبَار نِهَايَةِ الثَّلَاثِي الْأَوَّل

عَدَد : 2

المَادَّة : التَّرْبِيَّةُ الْإِسْلَامِيَّةُ
المُسْتَوَى : السَّنَةِ الثَّانِيَّةِ

الاسم :
اللقب :
القسم :

الأُنْشِيطَةُ

النَّقَاطُ
المُسْتَنَدَةُ

المَعَايِيرُ

السَّنَدُ 1 :

الْبِنْتُ نَجْلَاءُ مُحِبَّةٌ لِوَالِدَيْهَا، تَقُومُ فِي الصَّبَاحِ مَتَى يَقُومُ وَالِدُهَا لِتَحَضَّرَ لَهُ فَطُورَ الصَّبَاحِ، وَتَكْوِي مَلَابِسَهُ.

معا 1

التَّعْلِيمَةُ 1 : أُجِيبُ بِ (نَعَمْ / لَا) أَمَامَ مَا يُعْبَرُ عَنْ مَحَبَّةِ الْوَالِدَيْنِ.

- أَسَاعِدُ أُمِّي فِي تَرْتِيبِ الْمَنْزِلِ.

0,5

.....

0,5

.....

0,5

.....

- أَهْمِلُ نَصَائِحَ وَالِدَيَّ.

معا 3

- أَسَاهِمُ فِي نَفَقَاتِ الْمَنْزِلِ.

التَّعْلِيمَةُ 2 : أَرْبُطُ بِالتَّعْلِيلِ الْمُنَاسِبِ.

● لِأَحْصَلَ عَلَى مَالٍ مِنْ عِنْدِهِمَا.

● أَسَاعِدُ وَالِدَيَّ

معا 2

0,5

● لِأَفُوزَ بِرِضَائِهِمَا.

0,5

● لِأُعَبِّرَ عَنْ حُبِّي لَهُمَا.

0,5

التَّعْلِيمَةُ 3 : أَتَمِّمُ الْآيَةَ.

قَالَ اللَّهُ تَعَالَى : « وَقَضَى رَبُّكَ أَلَّا تَعْبُدُوا إِلَّا وَبِالْوَالِدَيْنِ »

(سُورَةُ الْإِسْرَاءِ الْآيَةُ 23)

معا 2ب

السَّنَدُ 2 :

يَحْرِصُ الْأَبُ عَلَى آدَاءِ صَلَاةِ الصُّبْحِ قَبْلَ الْخُرُوجِ إِلَى الْعَمَلِ.

0,5

التَّعْلِيمَةُ 1 : أَكْتُبُ اسْمَ الرُّكْنِ الْمُنَاسِبِ مِنْ أَرْكَانِ الْإِسْلَامِ.

0,5

.....

- صَدَقَةٌ مَفْرُوضَةٌ مِنْ مَالِ الْغَنِيِّ تُعْطَى لِلْفُقَرَاءِ.

.....

- يُؤَدِّيهَا الْمُسْلِمُ خَمْسَ مَرَّاتٍ فِي الْيَوْمِ.

.....

- يَمْتَنِعُ الْمُسْلِمُ الْبَالِغُ عَنِ الْأَكْلِ وَالشُّرْبِ شَهْرًا كَامِلًا طَاعَةً لِلَّهِ.

السَّنَدُ 3 :

سَمِعَتْ نَجْلَاءُ وَالِدُهَا يَتْلُو الْقُرْآنَ أَثْنَاءَ آدَاءِ الصَّلَاةِ.

(العَصْر - الْفِيل - الْهُمَزَة)

التَّعْلِيمَةُ : اُكْتُبْ أَمَامَ كُلِّ آيَةٍ سُورَتَهَا

- فَجَعَلَهُمْ كَعَضْبٍ مَأْكُولٍ (سورة.....)

- وَمَا أَذْرَاكَ مَا الْخَطْمَةُ (سورة.....)

- وَتَوَاصَوْا بِالْحَقِّ وَتَوَاصَوْا بِالصَّبْرِ (سورة.....)

معاب

السُّنْدُ 4 :

تَقُومُ الْأُمُّ كُلُّ صَبَاحٍ بِرَتْبِيبِ الْمَنْزِلِ وَتَنْظِيفِهِ فَتَجِدُ مِنْ ابْنَتِهَا لَجَلَاءَ الْمُسَاعَدَةِ.

التَّعْلِيمَةُ 1 : أَضَعْ عَلَامَةَ (x) فِي التَّرْبِيعَةِ الْمُنَاسِبَةِ.

معج

الإفَادَةُ	نظافة الثياب	نظافة الجسم	نظافة البيت
أَغْسِلْ أَسْنَانِي بِالْفُرْشَاءِ وَالْمَعْجُونِ.			
تَنْفُضْ أُخْتِي الْعُبَارَ عَنِ الْأَثِّ.			
تَطْوِي أُمِّي الْمَلَابِسَ وَتَضَعُهَا فِي الْخِرَانَةِ.			
يَطْلِي أَبِي الْعُرْفَ بِالْجِيرِ الْمَائِي.			
أَغْسِلْ رِجْلِي قَبْلَ النَّوْمِ.			
أَفْتَحْ نَوَافِذَ الْمَنْزِلِ لِيَتَجَدَّدَ الْهَوَاءُ.			

مع2

التَّعْلِيمَةُ 2 : أَتَمِّمُ الْآيَةَ الْكَرِيمَةَ الَّتِي تَحْتُ عَلَى النَّظَافَةِ.

قَالَ اللَّهُ تَعَالَى : « وَثِيَابَكَ » (سورة المذثر الآية 4)

مع3

التَّعْلِيمَةُ 3 : أَشْطَبُ الْإِفَادَةَ الْخَاطِئَةَ، وَأَلَوُّنُ التَّعْلِيلَ الْمُنَاسِبَ.

أ / نَجَلَاءُ ابْنَةُ عَيْدَةَ.

ب / نَجَلَاءُ ابْنَةُ مُطِيعَةَ وَبَارَةَ بِوَالِدَتِهَا.

لِأَنَّهَا سَاعَدَتْ أُمَّهَا عَلَى مَضْيِ.

لِأَنَّهَا سَاعَدَتْ أُمَّهَا عَنِ طِيبِ خَاطِرِ.

جَدْوَلُ إِسْتَادِ الْأَعْدَادِ

السُّفُويُّ	مَعَايِيرُ الْحَدِّ الْأَدْنَى					مُسْتَوِيَاتُ التَّمَكُّنِ
	مَعْيَارُ التَّمْيِيزِ	معج	مع2ب	مع2أ	مع1ب	
- سَلَامَةُ النُّطْقِ : مِنْ 0 إِلَى 2	مع3	معج	مع2ب	مع2أ	مع1ب	مع1أ
- الْأَسْتِزْنَاسُ : مِنْ 0 إِلَى 2	0	0	0	0	0	0
- الْأَسْتِظْهَارُ الْكَامِلُ : مِنْ 0 إِلَى 2	1 - 0,5	1 - 0,5	0,5	0,5	0,5	0,5
- النَّوْءُ : مِنْ 0 إِلَى 2	2 - 1,5	2 - 1,5	1	1	1	1
	3	3 - 2,5	1,5	1,5	1,5	1,5

إِمْتِحَانَاتِ جِسْرِ الدَّجَاحِ

المادة : التَّربِيَةُ الإِسْلَامِيَّةُ
المستوى : السَّنَةُ الثَّانِيَّةُ

إِخْتِبَارِ نِهَآيَةِ الثَّلَاثِي الأَوَّلِ
عدد : 3

الاسم :
اللقب :
القسم :

الأُنشِيطَةُ

النقاط
المُسندة

المعايير

السند 1 :

خَلِيلٌ طِفْلٌ نَشِيطٌ، يَقُومُ فِي كُلِّ صَبَاحٍ مِنْ أَيَّامِ العُطْلَةِ، فَيُرْتَبُ فِرَاشَهُ، وَيَرْتَدِي مَلَابِسَ نَظِيفَةً وَيَتَوَضَّأُ وَيُصَلِّي مَعَ أَبِيهِ ثُمَّ يُصَاحِبُهُ إِلَى المَزْرَعَةِ حَيْثُ الأشْجَارُ المُثْمِرَةُ والمِيَاهُ العَذْبَةُ الجَارِيَةُ وَالشَّمْسُ الدَّافِئَةُ...

التَّعْلِيمَةُ 1 : أَكْمَلِ كِتَابَةَ الصَّلَوَاتِ الخَمْسِ.

الصُّبْحُ - - - المَعْرَبُ -

التَّعْلِيمَةُ 2 : أَعْمُرُ الجَدُولَ بِمَا يُنَاسِبُ مِنَ الأَعْمَالِ الوَارِدَةِ فِي النِّصِّ.

عَمَلٌ يَدُلُّ عَلَى نِظَافَةِ الجِسْمِ	عَمَلٌ يَدُلُّ عَلَى نِظَافَةِ البَيْتِ	عَمَلٌ يَدُلُّ عَلَى نِظَافَةِ الثِّيَابِ
.....
.....

التَّعْلِيمَةُ 3 : أَكْمَلِ الأَيَّةَ بِالمُفْرَدَةِ المُنَاسِبَةِ مِنَ المُفْرَدَاتِ التَّالِيَةِ :

فَطَهَّرَ

فَنظَّفَ

فَالِيسَ

قَالَ اللهُ تَعَالَى : « وَثِيَابَكَ »

التَّعْلِيمَةُ 4 : أَنْعَمَ اللهُ عَلَى الإِنْسَانِ بِنِعْمٍ عَدِيدَةٍ، فَكَيْفَ سَنَشْكُرُهُ؟

أَضَعْ العَلَامَةَ (x) أَمَامَ مَا تَرَاهُ صَحِيحًا.

أَحَافِظُ عَلَى نِعْمِ اللهِ وَلَا أَتَصَرَّفُ فِيهَا بِالتَّبْذِيرِ وَالإِسْرَافِ.

أَعْبُدُ اللهُ وَأَلْتَزِمُ بِأَوَامِرِهِ.

أَسْتَمْتِعُ وَأَتَصَرَّفُ كَمَا يَحُلُو لِي فِي النِّعْمِ الَّتِي أَتَحَصَّلُ عَلَيْهَا.

التَّعْلِيمَةُ 5 : أَكْمَلِ الْآيَةَ بِالْمُفْرَدَاتِ التَّالِيَةِ : (لَكُمْ - الْأَرْضِ - خَلَقَ - جَمِيعًا)

قَالَ اللَّهُ تَعَالَى : « هُوَ الَّذِي مَا فِي

مع2ب

السَّنَدُ 2 :

بَعْضُ النَّاسِ لَا يَشْكُرُونَ اللَّهَ عَلَى نِعَمِهِ، وَلَا يَعْمَلُونَ أَعْمَالًا صَالِحَةً وَقَدْ ذَكَرَهُمُ اللَّهُ فِي سُورَةِ الْعَصْرِ.

التَّعْلِيمَةُ 1 : أَضَعْ الْعَلَامَةَ (x) أَمَامَ الْآيَاتِ الْمَأْخُودَةِ مِنْ سُورَةِ الْعَصْرِ.

وَتَوَاصَوْا بِالْحَقِّ

يَحْسِبُ أَنَّ مَالَهُ أَخْلَدَهُ

وَتَوَاصَوْا بِالصَّبْرِ

معاب

السَّنَدُ 3 :

سَمِعَ خَلِيلٌ أُمَّهُ تُنَادِيهِ لِيَشْتَرِيَ لَهَا بَعْضَ الْحَاجِيَّاتِ مِنْ عِنْدِ الْعَطَّارِ، فَلَمْ يَلْبِي طَلِبَهَا، وَاعْتَذَرَ لَهَا بِكَوْنِهِ يُتَابِعُ بَرْنَامَجَهُ الْمَفْضَلَ.

التَّعْلِيمَةُ 1 : لَوْ كُنْتَ مَكَانَ خَلِيلٍ، مَاذَا كُنْتَ تَفْعَلُ، وَلِمَذَا؟

مع3

التَّعْلِيمَةُ 2 : أَكْتُبِ الْآيَةَ الدَّالَّةَ عَلَى الْإِحْسَانِ لِلْوَالِدَيْنِ انْطِلاقًا مِنَ الْمُفْرَدَاتِ التَّالِيَةِ :

إِلَّا إِيَّاهُ.

وَبِالْوَالِدَيْنِ

أَلَّا تَعْبُدُوا

مع2ب

قَالَ اللَّهُ تَعَالَى : « وَقَضَى رَبُّكَ

.....إِحْسَانًا»

جَدْوَلُ إِسْنَادِ الْأَعْدَادِ

السُّفُوفِي	مِعْيَارُ التَّمْيِيزِ	مَعْيَارُ الْحَدِّ الْأَدْنَى					المعيار مستويات التملك
		مع3	مع2ب	مع2أ	مع1ج	معاب	
سَلَامَةُ النُّطْقِ : مِنْ 0 إِلَى 2	مع3	مع2ب	مع2أ	مع1ج	معاب	مع1أ	إِنْعَادَامُ التَّمَلُّكِ
الْأَسْتِزْسَالُ : مِنْ 0 إِلَى 2	0	0	0	0	0	0	التَّمَلُّكُ دُونَ الْأَدْنَى
الْأَسْتِظْهَارُ الْكَامِلُ : مِنْ 0 إِلَى 2	1	1	0,5	1	0,5	0,5	التَّمَلُّكُ الْأَدْنَى
التَّالِوَةُ : مِنْ 0 إِلَى 2	2	2	1	2	1,5	1	التَّمَلُّكُ الْأَقْصَى
	3	3	1,5	3	2,5	1,5	

قراءة وفهم

اختبار عدد 1 ص 3 / 2

1 وَصَعَ فَادِي فِي الْقَفْصِ فِي حَمَامَةٍ بَيْضَاءَ.

2 وَقَفَّ أَمَامَ قَفْصِ كَبِيرٍ بِهِ حَمَامَةٌ بَيْضَاءَ.

3 - تَبَاطَأَ فَادِي فِي تَلْبِيَةِ بَدَاءِ أُمِّهِ.

4 - خَرَجَ فَادِي إِلَى الْحَدِيقَةِ - لِيُطْعِمَ الْحَمَامَةَ.

5 وَقَفَّ أَمَامَ قَفْصِ كَبِيرٍ بِهِ حَمَامَةٌ بَيْضَاءَ جَمِيلَةً.

6 فَأَخَذَ يَبْكِي.

7 بَحَثَ = فَتَّشَ

بِتَيَقُّظٍ = بِحَذَرٍ

شِدَّةٍ = عَمْرَةٍ

طَاعَةُ الْوَالِدَيْنِ X

الْأَسْتِهْتَارُ X

9 - الرَّأْيُ : نَعَمٌ أَوْافِقُهُ.

- التَّغْلِيلُ : لِأَنَّهُ يَجِبُ أَنْ يَهْتَمَّ بِهَوَايَةِ تَشْغَلُ وَقْتُ

فَرَاغِهِ وَتَلْهِمِهِ عَنِ الشَّارِعِ.

قراءة وفهم : اختبار عدد 2 ص 5 / 4

1 / تُغَادِرُ فِرَاحُ الْحَجَلِ الْعُشَّ - لِتَكْتَشِفَ الْمَكَانَ.

ب / الْقَرِينَةُ : «صَارَتْ تُغَادِرُ الْعُشَّ لِتَتَفَسَّحَ وَتَكْتَشِفَ

الْمَكَانَ.»

2 نَصَحَتْ الْحَجَلَةَ الْأُمُّ فِرَاحَهَا بِأَلَّا تَبْتَعِدَ كَثِيرًا حَتَّى تَسْلَمَ

مِنْ خَطَرِ الْحَيَوَانَاتِ الْمُفْتَرِسَةِ.

3 الْقَرِينَةُ الدَّالَّةُ : «خَرَجَتْ الْفِرَاحُ كَعَادَتِهَا وَتَفَرَّقَتْ عَنِ

بَعْضِهَا، فَأَضَاعَ أَحَدُهَا طَرِيقَهُ.»

4 أ / تَفَطَّنَ فَرُخُ الْحَجَلِ إِلَى التُّعَلُّبِ. X

ب / الْقَرِينَةُ الدَّالَّةُ : «فَأَحَسَّ بِهِ الْفَرُخُ وَطَارَ عَلَى غُصْنِ

شَجَرَةٍ.»

2 أَحَدُ فِرَاحِ الْحَجَلِ يُضِيعُ طَرِيقَهُ.

3 أُمُّ فِرَاحِ الْحَجَلِ تَلْتَقِطُ صَغِيرَهَا وَتَعُودُ بِهِ إِلَى الْعُشِّ.

1 فِرَاحُ الْحَجَلِ تُغَادِرُ الْعُشَّ لِتَكْتَشِفَ الْمَكَانَ.

6 نَبَهَتْهَا = حَذَرَتْهَا / يَخْدَعُهُ = يُخَاتِلُهُ / ضَائِعًا = تَائِبًا

7 أ / تَصْرُفَاتُ فِرَاحِ الْحَجَلِ خَطِيرَةٌ وَغَيْرُ مَسْئُولَةٍ. لِأَنَّهَا لَمْ تَلْتَزِمَ بِنِصَاحِ أُمِّهَا وَتَحْذِيرَاتِهَا وَعَرَضَتْ حَيَاتَهَا لِلْخَطَرِ.

ب / الْحَجَلَةُ الْأُمُّ حَنُونَةٌ رَحِيمَةٌ تُحِبُّ فِرَاحَهَا وَتُحْمِيهَا.

* لِأَنَّهَا كَانَتْ تُقَدِّمُ النَّصِيحَةَ لِفِرَاحِهَا وَتَحْذَرُهَا مِنْ

الْحَيَوَانَاتِ الْمُفْتَرِسَةِ كَمَا أَنْقَذَتْ فَرُخَهَا الضَّائِعَ وَحَمَلَتْهُ

بِمِنْقَارِهَا إِلَى الْعُشِّ.

اختبار عدد 3 ص 6

1 فَكَّرَ خَلِيلٌ فِي الْقَبْضِ عَلَى بَعْضِ النَّحْلِ.

«خَطَرَ بِبَالٍ خَلِيلٌ أَنْ يَقْبِضَ عَلَى بَعْضِ النَّحْلِ.»

2 - تَجَوَّلَ الْأَطْفَالُ بَيْنَ الْحُقُولِ فِي فَصْلِ الشِّتَاءِ.

3 خَرَجَ الْأَطْفَالُ إِلَى الْحُقُولِ لِلِاسْتِمْتَاعِ بِجَمَالِ الرَّبِيعِ.

4 «وَخَرَجُوا إِلَى الْحُقُولِ الْخَضْرَاءِ وَالْبَسَاتِينِ الْغَنَاءِ لِلِاسْتِمْتَاعِ

بِجَمَالِ الرَّبِيعِ الْأَخْضَدِ.»

5 - الْجُمْلَةُ الدَّالَّةُ : «وَسُرْعَانَ مَا انْتَقَلَ الْأَطْفَالُ إِلَى تَنْفِيذِ

الفِكرَةِ.»

6 مَرَّ = انْتَقَلَ

لَاخَ = خَطَرَ

يَسْتَمْتِعُونَ = يَنْعَمُونَ

7 المَشَاكِسَةُ X

8 - الرَّأْيُ : لَا أَوْافِقُهُمْ

9 - التَّغْلِيلُ : لِأَنَّ النَّحْلَ يَصْنَعُ لَنَا عَسَلًا يُفِيدُنَا دَوَاءً وَغِدَاءً.

1. يقطع الحطاب الأشجار بفأس. (X)

2. القرينة: «لقد حطمت بفاسي هذه عشرات الأشجار.»
- تصبح قاحلة بدون أشجار.

3. الجلوس للإستراحة. (2)

4. التوغّل في الغابة. (1)

5. العزم على غراسه الأشجار. (3)

6. موقف الحطاب في بداية النص: قلع الأشجار.

7. الدليل: «وأنا أقلع الأشجار لأبيع حطبها.»

موقف الحطاب في نهاية النص: غراسه الأشجار.

الدليل: «وقفل راجعا إلى منزله مفكرا عاقدا العزم على إعادة غراسه ما حطمه بساعده.»

8. توغّل حطاب في غابة: تعمق / دخل كثيرا
يزوي ظمأه: عطشه

شجرة فيحاء: قواحة / تتبعث منها رائحة

9. غرس الأجداد الأشجار

يقطع الحطاب الأشجار

سيغرس الحطاب الأشجار

الحاضر

المستقبل

الماضي

8. رفع الحطاب فأسه ليقطع غضن الشجرة، فتوسلت إليه:

«من فضلك لا تقطع جذعي، لا تحرمني الحياة.»

9. لو كنت مكان الحطاب، أقلع الأشجار الميتة / أقلع

الأشجار وأغرس أخرى وأعتني بها. (أو أي إجابة وجيهة)

1. في ساحة المدرسة. (X)

2. «خطأ» «خطأ» «صواب»

3. «سقطت الطائرة على شجرة، ووقعت قرب عش صغير.»

4. زهراء

ريحة

بدران

5. «فرغ الأطفال من العمل، ووقفوا ينظرون إلى

طائرهم الورقية باعجاب.»

6. أعجبت وفاء بمنظر تلك الطائرة الكبيرة المحلقة

في السماء.

7. قالت وفاء: «ما أكبر هذا النسر المحلق!»

8. أ- صنع الأطفال طائرة بأعواد القصب والكاغذ.

ب- السؤال: لماذا سقطت الطائرة؟

9. إنتهى الأطفال من العمل، ووقفوا يتأملون طائرهم

الورقية في النهار.

10. مثال: كنت أذهب مع أصدقائي إلى دكان النجار

فنجتمع خشبات متقايسة ونجتمع في بطحاء الحي

فنشد الخشبات إلى بعضها بالمسامير ونصنع نقالة

نركب لها ثلاث عجلات ثم نركبها وننطلق بنا في

المنحدرات السريعة.

الخط والإملاء

الإملاء: قفص - جرس - وسادة - حصير



في صبيحة يوم العيد لبست سعاد فستانا

جميلا وانتعلت حذاء



لماعا وتوجهت

صحبة إخوانها إلى ساحة العيد، فاشترت حصانا

خشبيا وقطارا



كهربائيا يسير على

السكة



الإنتاج الكتابي

إختبار عدد 1 ص 17

اشترى الأب عُصُفُورًا لابنه.

فتحَ الطفلُ القَفَصَ ليضعَ
الطَّعامَ للعُصْفُورِ.

طارَ العُصْفُورُ.




بِمُنَاسَبَةِ نَجَاحِ قَادِي فِي الْاِمْتِحَانِ، اشْتَرَى لَهُ أَبُوهُ عُصْفُورًا
جَمِيلًا، أَصْفَرَ اللَّوْنِ، نَاعِمَ الرَّيشِ، خَفِيفَ الْحَرَكَةِ، يُزْفَرُقُ
زَقَزَقَاتٍ عَذْبَةً. فَرِحَ قَادِي فَرَحًا لَا يُوصَفُ وَأَخَذَ الْقَفَصَ
وَوَضَعَهُ فِي مَكَانٍ آمِنٍ.

مَرَّتِ الْأَيَّامُ وَقَادِي يَعْتَنِي بِعُصْفُورِهِ الْجَمِيلِ اِعْتِنَاءً لَا
نَظِيرَ لَهُ : يَنْظِفُ الْقَفَصَ، وَيُعَيِّرُ الْمَاءَ وَيَضَعُ الطَّعَامَ.
وَفِي يَوْمٍ جَلَبَ قَادِي الطَّعَامَ كَعَادَتِهِ، وَفَتَحَ بَابَ الْقَفَصِ
وَقَدَّمَهُ لِعُصْفُورِهِ، وَفَجْأَةً سَمِعَ صَوْتَ أُمِّهِ يَنَادِيهِ، فَأَسْرَعَ،
وَنَسِيَ الْبَابَ مَفْتُوحًا.

اِعْتَنَمَ الْعُصْفُورُ الْفُرْصَةَ، وَقَفَزَ خَارِجَ الْقَفَصِ بِسُرْعَةٍ، ثُمَّ
صَفَّقَ بِجَنَاحَيْهِ، وَطَارَ فِي الْفُضَاءِ بَعِيدًا يَنْعَمُ بِالْحُرِّيَّةِ.

إختبار عدد 2 ص 18 / 19




إختبار عدد 2 ص 13

رَبَّتْ الْبِنْتُ النَّشِيطَةَ الْبَيْتَ.
الْإِمْلَاءُ : الْأَبُ كَنَزُ وَتَرَوُهُ وَالْأُمُّ تَحْتَ أَقْدَامِهَا جَنَّةً.
خَالِطُ الْأَخْيَارِ وَاجْتِنِبِ الْأَشْرَارَ، فَإِنَّ مُخَالَطَةَ الْأَشْرَارِ تُخْلِفُ
النَّدَامَةَ.

إختبار عدد 3 ص 14

بَقِيَتْ الْعُصْفُورَةُ الصَّغِيرَةُ مَدْعُورَةً.
الْإِمْلَاءُ :

أَسْرَعَ الْكَلْبُ نَحْوَ الْحَمَامَةِ وَشَدَّهَا بِفَكْيِهِ.
وَضَعَ قَادِي قَدِي الْعُصْفُورَ فِي الْقَفَصِ





ثُمَّ أَخَذَ مِحْفَظَتَهُ وَذَهَبَ إِلَى
الْمَدْرَسَةِ.

إختبار عدد 4 ص 15

زَيَّنَتِ الْبِنْتُ الصُّورَةَ بِالْأَزْرَقِ.

	اسْمُ فَتَاةٍ يَبْدَأُ بِالْحَرْفِ «ز»		الْإِمْلَاءُ :
تِلْفَازٌ	زَيْنَبُ	رُفٌ	

	
زَهْرَةٌ	مِزْهَرِيَّةٌ

* وَصَعَتْ زَيْنَبُ زَهْرَةً فِي مِزْهَرِيَّةٍ
فَوْقَ رُفٍّ بَعِيدًا عَنِ التِّلْفَازِ.

إختبار عدد 5 ص 16

الْإِمْلَاءُ : وَضَعَ الْحَطَّابُ فَأْسَهُ عَلَى ظَهْرِهِ.
اِعْمَلْ لِدُنْيَاكَ كَأَنَّكَ تَعِيشُ أَبَدًا وَاعْمَلْ لِآخِرَتِكَ
كَأَنَّكَ تَمُوتُ غَدًا.

اختبار عدد 3 ص 20

السُّنْدُ : التَّعْلِيمَةُ : الطُّفْسُ هَادِيٌّ جَمِيلٌ. حَرَجَ كَمَالَ يَنْزُرُهُ عَلَى كُرْسِيهِ الْمُتَحَرِّكِ .

فَجَاءَهُ تَغْيِيرُ الْجَوِّ، وَهَبَتْ رِيَاخٌ قَوِيَّةٌ فَطَيَّرَتْ فُبَعَّتَهُ وَبَعَثَتْ أَوْرَاقَهُ. شَاهَدَ الطُّفْلُ حَيْدَرُ مَا حَدَّثَ فَاسْرَعَ لِمُسَاعَدَةِ كَمَالٍ. فَجَمَعَ الْأَوْرَاقَ وَرَدَّ لَهُ الْفُبْعَةَ ثُمَّ دَفَعَ بِهِ الْكُرْسِيَّ نَحْوَ مَنْزِلِهِمْ.

اختبار عدد 4 ص 21 / 22

أَوْصَتِ الْعُصْفُورَةُ الْأُمُّ فِرَاحَهَا الصَّغِيرَةَ بِأَنْ لَا تُغَادِرَ الْعُشَّ أَثْنَاءَ غِيَابِهَا.

بَقِيَ الْفَرْخُ الصَّغِيرُ وَحِيدًا بَاكِئًا حَزِينًا.

إِضْطَرَبَ الْعُصْفُورُ الصَّغِيرُ فِي الْفَقِصِ وَأَنْشَدَ لِحَنًا حَزِينًا.

* اسْتَيْقَظَتِ الْعُصْفُورَةُ الْأُمُّ فِي الصَّبَاحِ، وَقَبَّلَتْ أَنْ تُغَادِرَ الْعُشَّ قَالَتْ لِفَرْخِهَا الصَّغِيرِ : « لَا تُغَادِرْ عُشَّكَ يَا فَرْخِي الصَّغِيرُ لِكَيْ لَا يُصِيبَكَ أَيُّ مَكْرُوهٍ. » ثُمَّ طَارَتْ بَعِيدًا.

فَلَقِيَ الْفَرْخُ وَأَرَادَ أَنْ يَتَعَلَّمَ الطَّيْرَانَ وَيَلْحَقَ بِأُمِّهِ، فَزَفَرَ بِجَنَاحَيْهِ فِي الْهَوَاءِ، وَلَكِنَّهُ سُرْعَانَ مَا سَقَطَ عَلَى الْأَرْضِ،

فَأَخَذَ يُزْفِرُ وَيَقُولُ : « أَنْجِدْنِي يَا أُمِّي. أَنْجِدْنِي ! »

مَرَّ طِفْلٌ حَذْوَ الشَّجَرَةِ، وَسَمِعَ الْعُصْفُورَ يُزْفِرُ، فَأَخَذَهُ إِلَى مَنْزِلِهِمْ، وَوَضَعَهُ فِي فَقِصٍ، وَقَالَ لَهُ : « لَقَدْ أَصْبَحْتَ مِلِكِي

الآن. » حَزَنَ الْفَرْخُ وَنَدِمَ لِأَنَّهُ لَمْ يَعْمَلْ بِنَصِيحَةِ أُمِّهِ.

الحساب الذهني

اختبار عدد 1 ص 23

10 - 12 - 18 -

من 0 إلى 17 > 18 > 19

79 -

90 -

73 -

30 -

15 -

* ذَاتَ مَسَاءٍ حَرَجَتْ هَنَاءُ تَلْهُو مَعَ كَلْبِهَا فِي حَدِيقَةِ الْمَنْزِلِ.

السُّنْدُ 2 : التَّعْلِيمَةُ 1 : * الطَّرِيقِ - انْفَتْحَ - تُرَاقِبُ -

انْطَلَقَ - مُرْتَجِفَةً - يَعْدُو

التَّعْلِيمَةُ 2 : فَجَاءَهُ انْفَتْحَ الْبَابُ فَاِنْطَلَقَ الْكَلْبُ يَعْدُو

فِي الطَّرِيقِ وَتَسَمَّرَتْ هَنَاءُ فِي مَكَانِهَا تُرَاقِبُ الْمَشْهَدَ

مُرْتَجِفَةً مِنَ الْخَوْفِ عَلَى صَدِيقِهَا.

السُّنْدُ 3 : التَّعْلِيمَةُ 1 :

غَادَرَتْ هَنَاءُ الْمَنْزِلَ وَجَرَتْ مُسْرِعَةً تَلَاحِقُ كَلْبَهَا الَّذِي

كَانَ يَعْدُو بَيْنَ السِّيَارَاتِ مَدْعُورًا. وَقَفَّتِ الْفَتَاةُ عَلَى حَافَةِ

الرُّصِيفِ تَتَابِعُ فِي ذُهُولِ حَرَكَاتِ الْكَلْبِ ثُمَّ هَمَّتْ بِعُبُورِ

الطَّرِيقِ، فَاسْرَعَ إِلَيْهَا أَحَدُ الْمَارَةِ وَأَمْسَكَ بِيَدِهَا وَقَالَ لَهَا:

« لَا تُعْرِضِي حَيَاتِكَ لِلْخَطَرِ مِنْ أَجْلِ ذَلِكَ الْكَلْبِ... »

ذَاتَ مَسَاءٍ عَادَ سَمِيرٌ مِنَ الْمَدْرَسَةِ مُتَعَبًا، فَوَضَعَ مِحْفَظَتَهُ

عَلَى مَكْتَبِهِ، وَتَنَاوَلَ لُمُجَةً خَفِيفَةً، ثُمَّ حَمَلَ طَائِرَتَهُ الْوَرَقِيَّةَ

وَانْطَلَقَ نَحْوَ الْحَدِيقَةِ لِيَتَسَلَّى وَيَسْتَمْتَعَ بِمُشَاهَدَةِ

الطَّائِرَةِ تَسْبُحُ عَالِيًا فِي الْفَضَاءِ الرَّحْبِ.

كَانَتْ أَنْسَامُ الْهَوَاءِ تَهُبُّ، فَتَرْتَفِعُ الطَّائِرَةُ عَالِيًا تَكَادُ تَلَامِسُ

السَّحَابَ، وَكَانَ سَمِيرٌ يُرْخِي لَهَا الْخَيْطَ شَيْئًا فَشَيْئًا، وَيَتَابِعُ

حَرَكَاتِهَا فِي بَهْجَةٍ.

وَفَجْأَةً، أَفَلَّتِ الْخَيْطُ مِنْ يَدِهِ، فَاِنْطَلَقَتِ الطَّائِرَةُ تَسْبُحُ

بَعِيدًا فِي السَّمَاءِ، وَتَسَمَّرَ سَمِيرٌ فِي مَكَانِهِ يُرَاقِبُهَا مُرْتَجِفًا مِنْ

هُوْلِ الصَّدْمَةِ.

غَادَرَ سَمِيرٌ الْمَنْزِلَ بَاكِئًا، وَجَرَى مُسْرِعًا يُرِيدُ أَنْ يَلْحَقَ

بِطَائِرَتِهِ، ثُمَّ وَقَفَ عَلَى حَافَةِ الرُّصِيفِ، وَعَيْنَاهُ الدَّامِعَتَانِ

مُحْمَلِقَتَانِ فِي السَّمَاءِ، غَيْرَ مُهْتَمٍّ بِحَرَكَةِ السِّيَارَاتِ السَّرِيعَةِ.

وَضَعَ سَاقًا عَلَى الْمَعْبَدِ، وَهَمَّ بِعُبُورِ الطَّرِيقِ وَهُوَ يُرَدِّدُ فِي

حَسْرَةٍ : « لَنْ أَدْعَكَ تُفْلِتِينَ ! سَاقِبُضْ عَلَيْكَ ... »

وَمِنْ حُسْنِ الْحِظِّ أَنْ كَانَ أَحَدُ الْمَارَةِ يُرَاقِبُ حَرَكَاتِهِ

الطَّائِشَةَ، فَاسْرَعَ لِنَجْدَتِهِ قَبْلَ حُضُولِ الْفَاجِعَةِ، وَأَمْسَكَ

بِيَدِهِ وَهُوَ يُرَدِّدُ بِلَهْجَةٍ قَاسِيَةٍ : « مَا لَكَ لَا تَحْتَرِمُ إِشَارَةَ

الضُّوءِ الْأَحْمَرَ. كَيْفَ تُخَاطِرُ بِحَيَاتِكَ مِنْ أَجْلِ طَائِرَةٍ وَرَقِيَّةٍ. فَكَّرْ جَيِّدًا قَبْلَ أَنْ تَتَصَرَّفَ بِتَهَوُّرٍ... »

الرياضيات

اختبار عدد 1 ص 24 / 25 / 26 / 27

السند 1 : التعلیمة 1 :

$$29 + 7$$

$$= 36$$

العملية : $36 = 7 + 29$

29

$$- 17$$

$$= 12$$

التعلیمة 2 : $36 > 29 > 7$

التعلیمة 3 : العملية : $17 = 12 - 29$

التعلیمة 4 : $17 < 29 < 36$

السند 2 :

ما هو عدد الأطفال بالصف الثاني من المقاعد ؟

الإجابة اللفظية : عدد الأطفال بالصف الثاني من

85

$$- 42$$

$$= 43$$

المقاعد هو 43 .

العملية : $43 = 85 - 42$

27

$$- 13$$

$$= 14$$

السند 3 : التعلیمة 1 :

العملية : $14 = 13 - 27$

التعلیمة 2 : $27 > 14 > 13$

27

$$+ 19$$

$$= 46$$

التعلیمة 3 :

العملية : $46 = 19 + 27$

27

14

$$+ 46$$

$$= 87$$

التعلیمة 4 :

العملية : $87 = 46 + 14 + 27$

98


$$- 87$$

$$= 11$$

التعلیمة 5 :

العملية : $11 = 87 - 98$

السند 4 : التعلیمة 1 :



- الكرة «ب» أمام الكلب رقم 4. «نعم»

- الكلب رقم 2 فوق الحبل. «لا»

80 مي	95 مي	45 مي
		أو ما يمثل المبلغ

الحساب الذهني : اختبار عدد 2 ص 28

$$51 > 50 > 49 - 1$$

$$28 = 9 + 19 - 2$$

$$15 - 12 = 3$$

$$4 - 1 = 38 \text{ مي}$$

اختبار عدد 2 ص 29 / 30 / 31

السند 1 : التعلیمة 1 :

$$55 = 25 + 30$$

$$55 > 30 > 25$$

التعلیمة 3 :

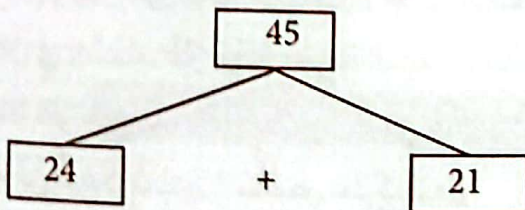
عدد الحاضرين من التلاميذ والمعلمات.

$$61 = 6 + 30 + 25 \text{ أو } 61 = 6 + 55$$

التعلیمة 4 :

$$6 < 25 < 30 < 61 \text{ أو } 6 < 55 < 61$$

السند 2 : التعلیمة 1 :



التعلیمة 2 :

$$45 = 24 + 21$$

التعلیمة 3 : أعداد العملية التي حصلت عليها:

$$21 < 24 < 45 \text{ أو } 45 > 24 > 21$$