

المربية:  
إنتصار غريب

إمـاج  
الفتـرة الأولى

السنة الرابعة

### السند عدد 1:

في إطار مشروع القسم " استثمار حديقة المدرسة" قام تلاميذ السنة الرابعة بمدرستنا جمع مبالغ مالية لاقتناء بعض الحاجيات اللازمة لتزيين ساحة المدرسة فكانت هذه المبالغ كما يبينه الجدول التالي:

رابعة ب	رابعة أ
	
76910 مليم	.....

### التعلمية عدد 1-1:

أحسب المبلغ الذي يملكه تلاميذ السنة الرابعة بأقل ما يمكن من القطع النقدية والأوراق المالية

### التعلمية عدد 2-1:

أمثل المبلغ الذي يملكه تلاميذ السنة الرابعة ب

### السند عدد 2:

توجه الأطفال لشراء البذور وبعض الحاجيات اللازمة لتزيين ساحة المدرسة اشترى تلاميذ السنة "الرابعة أ" 4 أكياس من البذور بـ 3465 مليم الكيس الواحد و 3 أكياس من السماد بـ 7460 مليم الكيس

عمل	حل
	1. أحسب ثمن أكياس البذور بالمليم
	.....
	2. أحسب ثمن أكياس السماد بالمليم

3. أحسب ثمن المشتريات بالمليم

.....

4. أحسب المبلغ المتبقي بالمليم

.....

### السند عدد 3:

أما تلاميذ "الرابعة ب" فاشتروا 6 مشاتل من الفل بـ 6340 مليم الواحدة و مشاتل من الياسمين بـ 17600 مليم

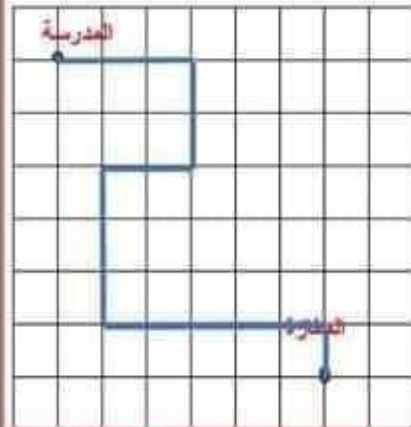
عمل	حل
	1. أحسب ثمن مشاتل الفل بالمليم
	.....
	2. أحسب ثمن المشتريات بالمليم
	.....
	3. أحسب المبلغ المتبقي بالمليم
	.....

### السند عدد 5:

أراد الأطفال تخصيص المبلغ المتبقي لهم في شراء مشاتل أخرى بـ 7310 مليم  
أطرح سؤالا مناسباً للوضعية يتطلب الإجابة عنه إنجاز عمليتين وأجيب عنه

السؤال.....  
الإجابة.....  
.....  
.....

### السند عدد 6:



قصد الأطفال المغازة فسلكوا المسلك الممثل على الشبكة:

1. اعتبر بالأنهم عن هذا المسلك

.....

2. اختصر المسلك

.....

3. ارسم المسلك المختصر على الشبكة

المرببة:  
إنتصار غريب

تمارين دعم  
الفترة الأولى

السنة الرابعة

### النشاط عدد1:

تملك السيدة مريم 95د، قصدت المغازة واقتنت حذاءً بـ 36970 مليم وحقيبة يد يقل ثمنها عن ثمن الحذاء بـ 1400 مليم و6 متر من القماش بـ 3610 مليم المتر الواحد

مدلوله اللفظي	المعطي العددي
.....	.....
.....	.....
.....	.....
.....	.....
.....	.....
.....	.....

### النشاط عدد2:

يملك جارنا سمير 6 أشجار من الزيتون و7 أشجار من التفاح و9 أشجار من البرتقال أنتجت الشجرة الواحدة من الزيتون 63 كغ وأنتجت الشجرة الواحدة من التفاح 136 كغ أما شجرة البرتقال فأنتجت 120 كغ

مدلوله اللفظي	المعطي العددي
.....	.....
.....	.....
.....	.....
.....	.....
.....	.....
.....	.....
.....	.....

### النشاط عدد3:

شري أمين قميص بـ 36900 مليم و4 أزواج جوارب بـ 3600 مليم ودفع 60د

مدلوله اللفظي	المعطي العددي
.....	.....
.....	.....
.....	.....
.....	.....
.....	.....

المرببة:  
إنتصار غريب

تمارين دعم  
الدرس:

السنة الرابعة

**النشاط عدد 1:**

كتر كل من أمين ورامي وسامي حصالتهم وتحصلوا على المبالغ التالية:




المبلغ		
	36910 مليون	أمين
	.....	رامي
	47600 مليون	سامي

1. أمثل المبلغ الذي يملكه أمين بأقل ما يمكن من القطع النقدية والأوراق المالية

2. أحسب المبلغ الذي يملكه رامي

3. أو اصل تمثيل المبلغ الذي يملكه سامي

**النشاط عدد 2:**

تملك زينب 3 أوراق مالية ذات  و 4 قطع نقدية ذات  و 3 قطع نقدية ذات  ما هو المبلغ الذي تملكه زينب؟

.....  
.....  
.....

اقتنت زينب 6 قصص بـ 4310 مليون

• أحسب ثمن القصص بالمليوم

.....  
.....  
.....

أمثل ثمن القصص بأقل ما يمكن من القطع النقدية والأوراق المالية

• أحسب المبلغ المتبقي لزينب بالمليوم

.....  
.....  
.....

أمثل المبلغ المتبقي بأقل ما يمكن من القطع النقدية والأوراق المالية

### النشاط عدد 3:

أعطت الأم لابنها مراد 6 أوراق مالية من فئة  وقطعة نقدية ذات  و 3 قطع نقدية ذات  و أعطت لابنتها سلمى 4 أوراق مالية ذات  و قطعة نقدية ذات 

• ماهو المبلغ الذي تسلمه مراد؟

---

---

---

---

• ماهو المبلغ الذي تسلمته سلمى؟

---

---

---

---

اشترى مراد حذاء رياضي بـ 26400 مليم فخفض له البائع في ثمنه قدره 1300 مليم

• أحسب ثمن الحذاء الرياضي بالمليم

---

---

---

---

• أمثل ثمن الحذاء بأقل ما يمكن من القطع النقدية والأوراق المالية

---

---

---

---

أما سلمى فاشتتت فستان بـ 36900 مليم فخفض لها البائع في ثمنه قدره 2450 مليم

• أحسب ثمن الفستان بالمليم

---

---

---

---

• أمثل ثمن الفستان بأقل ما يمكن من القطع النقدية والأوراق المالية

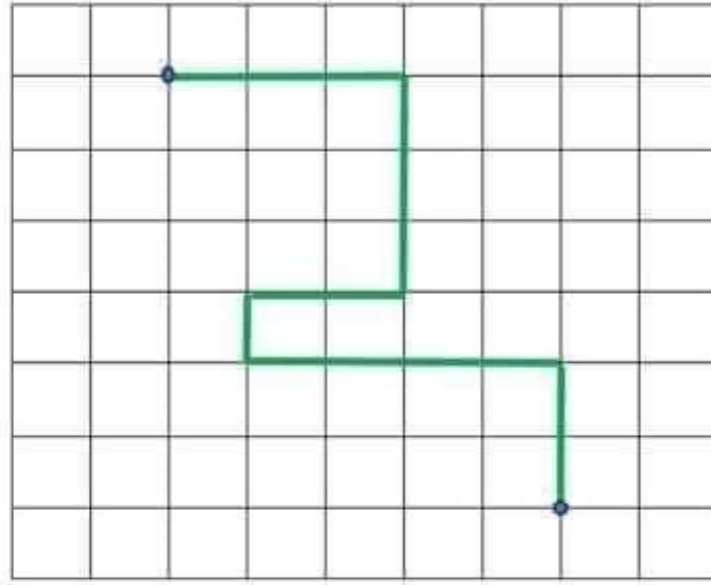
---

---

---

---

### النشاط عدد 3:



1. أعبّر عن هذا المسلك

.....

2. اختصره وأعيد كتابته

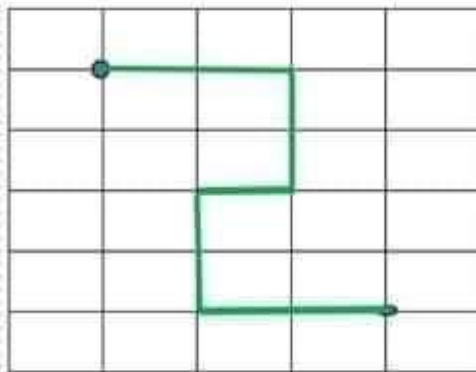
.....

3. أرسم المسلك المختصر على الشبكة

.....

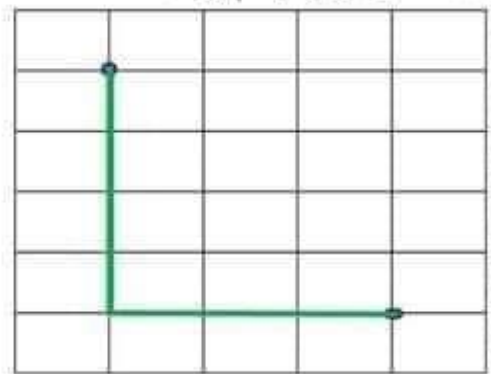
### النشاط عدد 4:

الاحظ وأجيب بنعم أو لا



هذا مسلك مختصر

.....



هذا مسلك مختصر

.....

