

السنة الثالثة الفترة الأولى	دعم وعلاج معيار 1 التأويل الملانم	المربي رياض مرزوقي
--------------------------------	---	-----------------------

النشاط عدد 1

يملك أمين مبلغا ماليا قدره 3300 مي زائته أمه 2650 مي، قصد المغازة واشترى كجة بـ 1520 مي ومربكة يقل ثمنها عن ثمن الكجة بـ 120.

التعليمة 1-1

استخرج من الوضعية التالية المعطى العددي ومدلوله اللفظية

مدلوله اللفظي	المعطى العددي
.....
.....
.....
.....

النشاط عدد 2

زارت ولاء رفقة أختها معرض الكتاب وأثناء التجول اقتنت قصص بـ 3650 مي والعباب بـ 4200 مي ودفعت للبائع 9850 مي.

التعليمة 1-1

استخرج من الوضعية التالية المعطى العددي ومدلوله اللفظية

مدلوله اللفظي	المعطى العددي
.....
.....

النشاط عدد 3

لتزيين القسم ليوم حفل عيد ميلاد المعلمة ساهمت سناء بأشرطة ملونة بـ 2310 مي وبالونات يقل ثمنها عن ثمن الأشرطة بـ 210 مي ومرطبات بـ 3950 مي ودفعت للبائع 9970 مي.
أربط بسهم

مدلوله اللفظي	المعطي العددي
المبلغ الذي دفعته سناء	2310 مي
ثمن الأشرطة الملونة	210 مي
الفارق	3950 مي
ثمن المرطبات	9950 مي

النشاط عدد 4

يملك أيمن 8990 مي شري لعبة بـ 3220 مي وكرة يقل ثمنها عن ثمن اللعبة بـ 120 مي وأقلام لبيدة بـ 1900 مي.

التعليمة 1-1

أستخرج من الوضعية التالية المعطي العددي ومدلوله اللفظية

مدلوله اللفظي	المعطي العددي
المبلغ الذي يملكه أيمن
ثمن اللعبة
الفارق
ثمن الأقلام اللبيدة

النشاط عدد 3

اشترى رامي لعبة بـ 2315 مـي وأفلاما ليدية بـ 3600 مـي وملحه البقع
تخفيضاً في ثمن الأقسام الليدية بـ 1100 مـي
اطرح سزالا مناسباً للوضعية يتطلب حله اجراء عمليتين

السؤال

الإجابة

النشاط عدد 4

اشترى مروان مجموعة قصص بـ 3250 مـي وأفلاما ليدية بقر ثمنيا عن ثمن
مجموعة القصص بـ 250 مـي.
اطرح سزالا مناسباً للوضعية يتطلب حله اجراء عمليتين

السؤال

الإجابة

المعزبي
رياض مرزوق

تمارين دعم وعلاج
العلاقة بين المتر والصنتمتر

السنة الثالثة

النشاط عدد 1

أحول إلى الوحدة المطلوبة

3م =صم	1200صم =م
45م =صم	6000صم =م
12م =صم	800صم =م
63م =صم	500صم =م
96م =صم	5200صم =م
49م =صم	6400صم =م
47م =صم	1300صم =م
2م =صم	9700صم =م


النشاط عدد 2

أحول إلى الوحدة المطلوبة

3م و 400صم =صم	6م و 600صم =صم
12م و 600صم =صم	4م و 600صم =صم
32م و 12صم =صم	15م و 200صم =صم

النشاط عدد 3

قطع أحمد المسافة الثانية بم 500م



3م و 200م

أحسب طول المسافة التي قطعها أحمد بالصلب


.....

المربي
رينان مرزوقى

تعاريف دعم وعلاج

السنة الثالثة

النشاط عدد 1

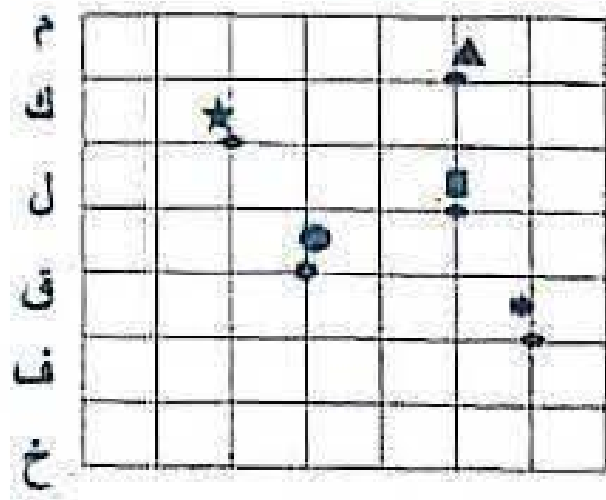


7 6 5 4 3 2 1

1- عين على الشبكة العدد التالية

(س، 2) // (ب، 4) // (ث، 3) // (س، 5) // (ب، 7)

النشاط عدد 1




7 6 5 4 3 2 1

المربي
رينان مرزوقى

تعاريف دعم وعلاج

السنة الثالثة

النشاط عدد 1

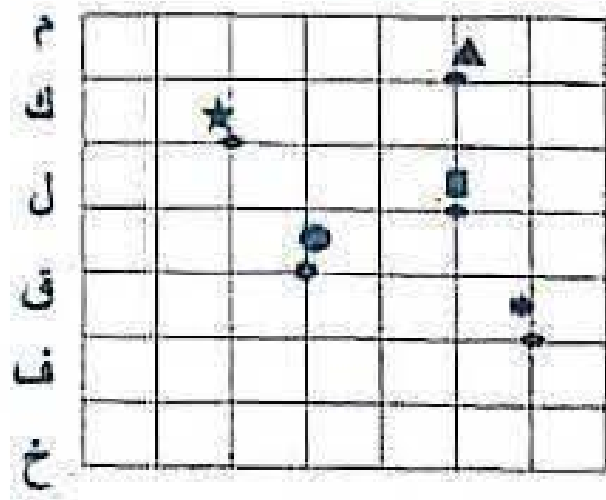


7 6 5 4 3 2 1

1- عين على الشبكة العند التالية

(س، 2) // (ب، 4) // (ث، 3) // (س، 5) // (ب، 7)

النشاط عدد 1



7 6 5 4 3 2 1

1- استخراج من الشبكة الأزواج

() •


() ◉

() ★

() ◻

() ▲

النشاط عدد 1



1- اللون التربيعت التالية

(3 ◉)

(5 ◻)

(6 ◉)

(1 ♥) (2 ◻)

	1- احسب ثمن المشتريات بالمليم

	2- احسب المبلغ المتبقى بالمليم

النشاط عدد 3

لتزيين القسم ليوم حفل عيد ميلاد المعلمة ساهمت سناء بأشرطة ملونة بـ 2310 سي وبالونات بقل ثمنها عن ثمن الأشرطة بـ 210 سي ومرطبات بـ 3950 سي ودفعت للبيع 9970 سي.

عمل	حل
	احسب ثمن البالونات بالمليم

	احسب مصاريف سناء بالمليم

	احسب المبلغ المتبقى لسناء بالمليم

النسبة الثالثة الفترة الأولى	دعم وعلاج معيار 5 الدقة	العربي رياض مرزوقي
---------------------------------	----------------------------	-----------------------

معيار 5 طرح سؤال مناسب ذي مرحلتين لوضعية والإجابة عنه

النشاط عدد 1

بمك أحمد 9520 من اشترى مريكة بـ 2560 من ولعبة تكرية بـ 1660 من

أطرح سؤالا للوضعية يتطلب عمليتين

السؤال

الإجابة

النشاط عدد 2

تبقى لرامي 4500 من اشترى قصة بـ 1200 من وموسوعة علمية بـ 2300 من

أطرح سؤالا مناسباً للوضعية يتطلب حلّه إجراء عمليتين

السؤال

الإجابة

المدرسة الابتدائية: الزهور السنة الثالثة	الفترة الأولى دعم وعلاج معلمة: الناويل الملازم معلمة: صحة الحسا	العربي رياض مرزوقي
--	--	-----------------------

النشاط عدد 1

يملك أمين مبلغاً مالياً قدره 3300 م.ي زانته أمه 2650 م.ي، قصد المغازة واشترى كجة بـ 1520 م.ي ومربكة يقل ثمنها عن ثمن الكجة بـ 120.

حل	عمل
أبحث عن المبلغ الذي أصبح لأمين بالمليم	_____
أحسب ثمن المربكة بالمليم	_____
أحسب ثمن المشتريات بالمليم	_____
أبحث عن المبلغ المتبقى بالمليم	_____

النشاط عدد 2

زارت ولاء رفقة أختها معرض الكتب وأثناء التجول اقتنت قصص بـ 3650 م.ي وألعاب بـ 4200 م.ي ودفعت للبائع 9850 م.ي.