

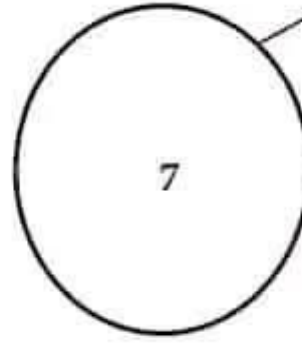
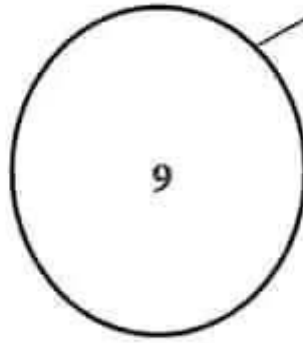

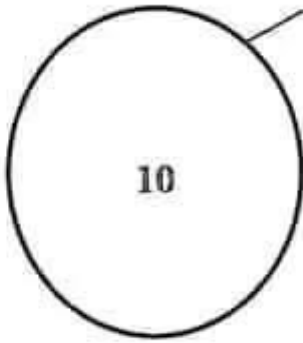
إِمْتِحَانَاتُ جِسْرِ النَّجَاحِ

المادة: رياضيات
المستوى: السنة الأولى

إختبار نهاية الثلاثي الثاني
عدد: 2

الاسم:
اللقب:
القسم:

النقاط المُسندة	الأشْطَة	المعايير
1	السند 1: في الصباح خرجت سلوى إلى الحديقة.	4 مع <input type="checkbox"/> <input type="checkbox"/> <input type="checkbox"/>
1		1 مع <input type="checkbox"/> <input type="checkbox"/>
0,5		1 مع <input type="checkbox"/> <input type="checkbox"/>
0,5		1 مع <input type="checkbox"/> <input type="checkbox"/>
0,5		1 مع <input type="checkbox"/> <input type="checkbox"/>
0,5		1 مع <input type="checkbox"/> <input type="checkbox"/>
0,5		1 مع <input type="checkbox"/> <input type="checkbox"/>
0,5		1 مع <input type="checkbox"/> <input type="checkbox"/>
0,5		1 مع <input type="checkbox"/> <input type="checkbox"/>
0,5		1 مع <input type="checkbox"/> <input type="checkbox"/>
0,5		التعليمة 1: ألون الفرخ الموجود على يمين البنت. ألون الزهرة الموجودة وراء البنت. ألون الفرخ الموجود تحت الشجرة. التعليمة 2: في الحديقة حيوانات كثيرة، أكون ثلاث مجموعات وأكتب كم كل مجموعة. أرتب الأعداد المتحصل عليها تصاعدياً.
	السند 2: رأت البنت ثلاثة أنواع من الفراشات.	



السُّنْدُ 4 :

وَجَدَ جَدِّي بِالضَّبْعَةِ حَصَالَةَ قَدِيمَةٍ فَأَبْتَسَمَ ثُمَّ كَسَرَهَا وَأَعْطَانَا مَا يَبْهَا مِنْ نُفُودٍ.

التَّعْلِيمَةُ 6 : أَكْمَلِ الْجَدْوَلَ بِمَا يُنَاسِبُ :

معد 3

0,5	مي	(2مي)	(5مي)	(2مي)
0,5	مي 7	()	()	(1مي)
0,5	مي 8	()	()	()

السُّنْدُ 5 :

بَعْدَ ذَلِكَ تَجَوَّلْنَا مَعَ جَدِّي فَشَاهَدْنَا عَصَافِيرَ وَرَكَضَنَا وَرَاءَ الْفَرَاشَاتِ وَقَطَفْنَا أَزْهَارًا.

التَّعْلِيمَةُ 7 : اسْتَعِينِ بِالْجَدُولَيْنِ وَأَكُونُ مَجْمُوعَاتٍ وَأَزْمُرُ لِكُلِّ مَجْمُوعَةٍ وَأَكْتُبُ كَمَّهَا.

معد 5

عَصَافِيرُ	فَرَاشَاتُ	أَزْهَارُ
5	3	4

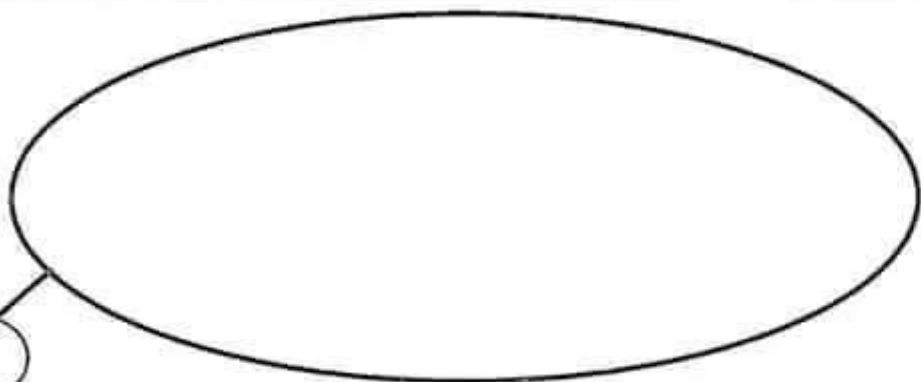
فَرَاشَاتُ	عَصَافِيرُ	أَزْهَارُ	
		x	لَا تَنْتَمِي لِـ س
x	x		تَنْتَمِي لِـ س

1 - 0,5

2 - 1,5

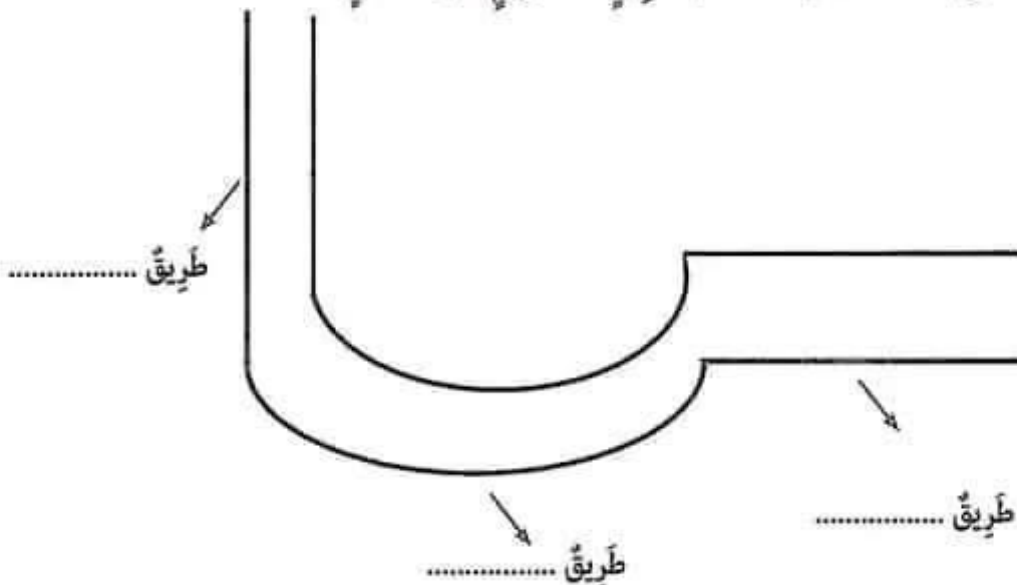
3 - 2,5

4 - 3,5



س

السُّنْدُ 6 : أَتْنَاءَ الْجَوْلَةِ تَنْقَلْنَا مَعَ جَدِّي عَلَى طَرِيقِ مُسْتَقِيمَةٍ وَأُخْرَى مُنْحَنِيَةٍ.
التَّعْلِيمَةُ 8 : أَكْتُبْ تَحْتَ كُلِّ طَرِيقٍ «مُسْتَقِيمٍ» أَوْ «مُنْحَنِ» .



مع4

مع4

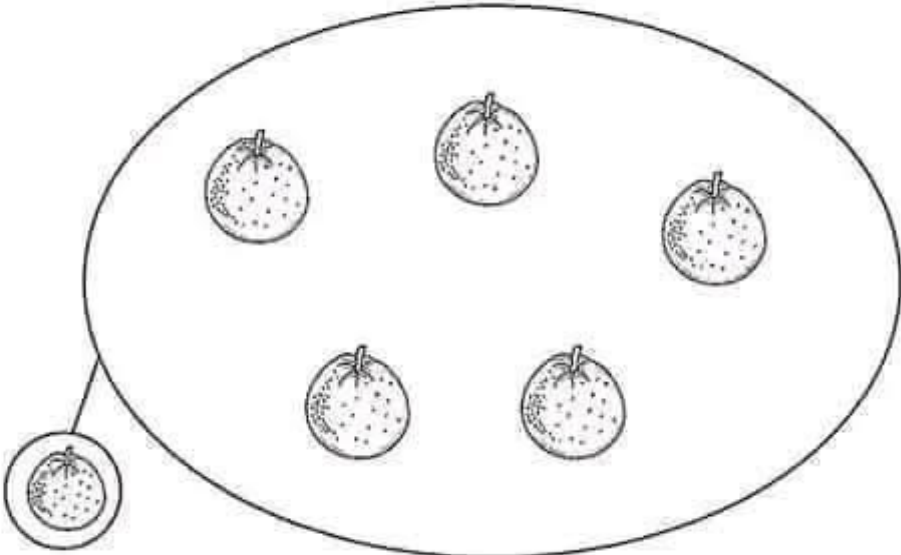
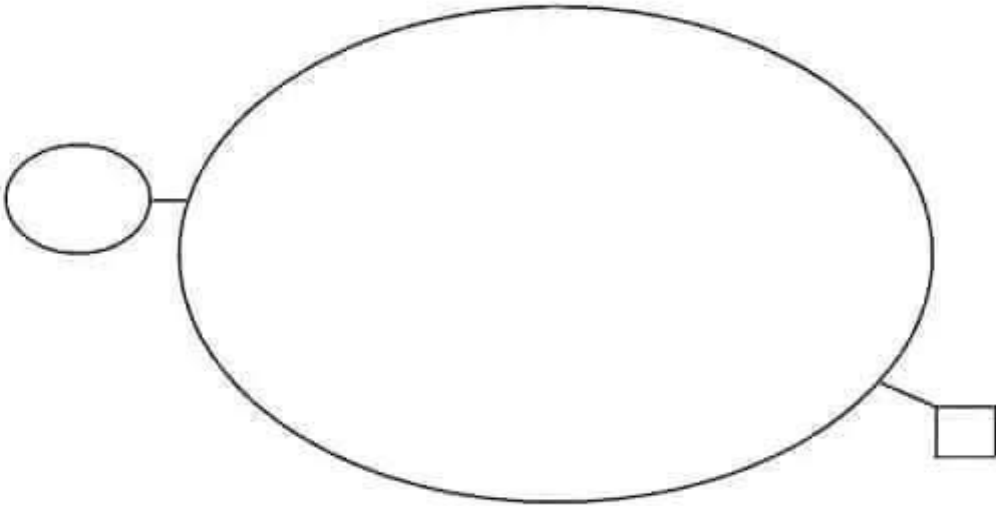
مع4

مع4

مع4

جَدْوَلُ إِسْتَادِ الْأَعْدَادِ

مِعْيَارُ التَّمْيِيزِ	مَع4	مَعَايِيرُ الْحَدِّ الْأَدْنَى						مُعَيَّرَاتُ التَّمَلُّكِ	
		مَع4	مَع3	مَع2د	مَع2ج	مَع2ب	مَع2أ		مَع1
1	0,5	0	0	0	0	0	0	0	إِتِّبَاعُ التَّمَلُّكِ ---
2	1,5	0,5	0,5	0,5	1	0,5	0,5	0,5	التَّمَلُّكِ دُونَ الْأَدْنَى -- +
3	2,5	1	1	1	2	1	1	1	التَّمَلُّكِ الْأَدْنَى - + +
4	3,5	1,5	1,5	1,5	3	1,5	1,5	1,5	التَّمَلُّكِ الْأَقْصَى + + +

1 - 1 - 1	التَّعْلِيمَةُ 2 : أَصْنَفُ الْحَيَوَانَاتِ إِلَى 3 مَجْمُوعَاتٍ وَأَرْمِزُ إِلَيْهَا.	مع 1
0.5		<input type="checkbox"/>
0.5	التَّعْلِيمَةُ 3 : أَكْتُبْ كَمَّ كُلِّ مَجْمُوعَةٍ.	مع 2
0.5	السَّنَدُ 3 : أَخْرِجْ جَدِي مِنَ السَّلَّةِ مَجْمُوعَةً مِنَ الْبُرْتُقَالَاتِ لِيُقَدِّمَهَا لَنَا.	<input type="checkbox"/>
		
	التَّعْلِيمَةُ 4 :	مع 2 ج
1	أرسم مجموعة من الصُّحُونِ عَنَّا صِرْهَا عَلَى قَدْرِ عَنَّا صِرِ مَجْمُوعَةِ الْبُرْتُقَالِ.	<input type="checkbox"/>
1		
1		
1.5		
1	التَّعْلِيمَةُ 5 :	مع 2
0.5	أرسم علامة (x) تَحْتَ كَمِّ عَنَّا صِرِ اتِّحَادِ مَجْمُوعَةِ الْبُرْتُقَالِ وَمَجْمُوعَةِ الصُّحُونِ.	<input type="checkbox"/>











إِمْتِحَانَاتِ جِسْرِ الدَّجَاحِ

الْمَادَّةُ : رِيَاضِيَّاتٍ (حِسَابُ ذِهْنِيٍّ) الْمُسْتَوَى : السَّنَةِ الْأُولَى	اِخْتِبَارُ نِهَائِيَّةِ الثَّلَاثِيِ الثَّانِيِ عَدَدٌ : 7	الاسم : اللقب : القسم :
--	--	-------------------------------

النَّقْطُ الْمُسْتَدَدُ	الْحَلُّ	الْأَسْئَلَةُ	
0,5 0,5	$\dots > 7 > \dots$	تَجَمَّعَ صَبِيحَةٌ يَوْمَ الْأَحَدِ 7 أَطْفَالٍ فِي حَدِيقَةِ الْحَيِّ. أَخْصِرْ هَذَا الْعَدَدَ بَيْنَ عَدَدَيْنِ . الْأَوَّلُ يَأْتِي مُبَاشَرَةً قَبْلَهُ وَالثَّانِي يَأْتِي مُبَاشَرَةً بَعْدَهُ.	①
1	$5 \cdot 4$	أَخْصَرَ أَحْمَدُ 4 مَشَاتِلَ لِأَزْهَارِ حَمْرَاءَ وَ 5 مَشَاتِلَ لِأَزْهَارِ وَرْدِيَّةٍ. أَقَارِنُ بَيْنَ عَدَدِ الْأَزْهَارِ الْحَمْرَاءِ وَالْأَزْهَارِ الْوَرْدِيَّةِ ؟	②
1	أَكْتُبِ الْعَدَدَ الَّذِي يَكُونُ مُبَاشَرَةً قَبْلَ 4	③
1	أَخْصَرْتُ سَلْمَى 7 زَهْرَاتٍ بَيْضَاءَ. مَا هُوَ الْعَدَدُ الَّذِي يَأْتِي مُبَاشَرَةً بَعْدَ 7 ؟	④

•
4

السند 5 :
أهدت البنت الأزهار إلى أمها. فقدمت الأم لها ثلاث مجموعات من القطع النقدية.
التعليمة 7 : أساعد البنت على حساب مجموع القطع النقدية في كل مجموعة.


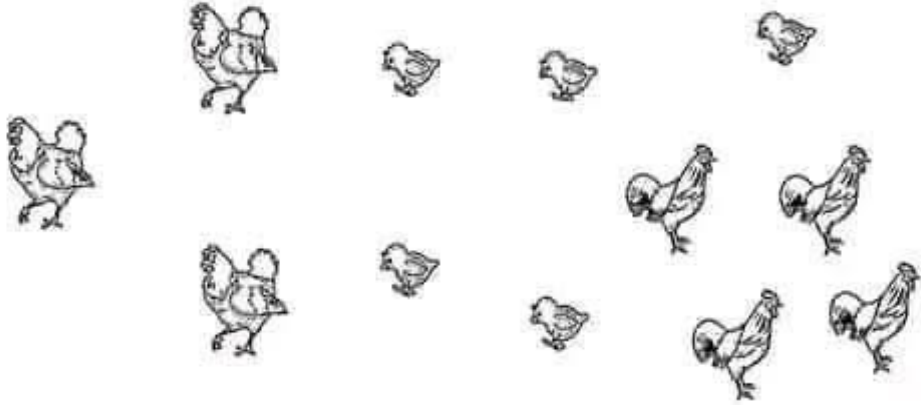
1 1 1	  	   	  	3 مع <input type="checkbox"/> <input type="checkbox"/> <input type="checkbox"/>
	مي	مي	مي	

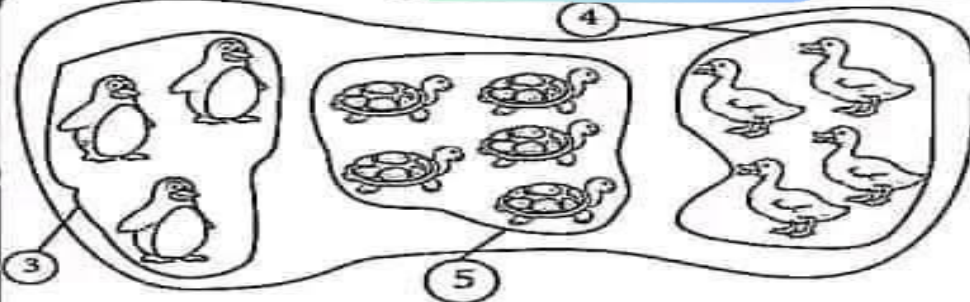
جدول إسناد الأعداد

	معيّار التميّز	معايير الحد الأدنى					المعايير مستويات التملك	
		5 مع	4 مع	3 مع	2 مع	1 مع		
$\frac{.}{16}$	0	0	0	0	0	0	إنعدام التملك ---	
	2	1	1	0,5	1,5	1	0,5	التملك دون الأدنى --+
		2	2	1	3	2,5	2	التملك الأدنى -++
	4	3	3	1,5	4,5	4	3,5	التملك الأقصى +++

إِمْتِحَانَاتِ حِسْرِ الدَّجَاحِ

الاسم : _____	إِخْتِبَارِ نِهَآيَةِ الثَّلَاثِي الثَّانِي	المَادَّة : رِيَاضِيَات
اللقب : _____		المُسْتَوَى : السَّنَةِ الأُولَى
القسم : _____		عَدَد : 4


النَّقَاطُ السُّنْدَةُ	الأُنْشُطَةُ	المَعَايِيرُ
	<p>السُّنْدَةُ 1 : يَمْلِكُ جَدِّي صَبِيْعَةً بِهَا مَجْمُوعَةٌ مِّنَ الحَيَوَانَاتِ.</p> 	
	<p>التَّعْلِيمَةُ 1 : أَكْمَلِ الفَرَاقَاتِ بِمَا يَلِي :</p> <p>عَلَى قَدْرِ - أَكْثَرَ مِنْ - أَقَلَّ مِنْ</p>	مع 2
0,5	عَدَدُ البَطَّاتِ عَدَدِ الدِّيَكَةِ.	<input type="checkbox"/>
0,5	عَدَدُ البَطَّاتِ عَدَدِ الدَّجَاجَاتِ.	<input type="checkbox"/>
0,5	عَدَدُ الدِّيَكَةِ عَدَدِ الدَّجَاجَاتِ.	<input type="checkbox"/>
	<p>السُّنْدَةُ 2 : فِي إِحْدَى أَرْكَانِ الصَّبِيْعَةِ شَاهِدْنَا هَذِهِ الحَيَوَانَاتِ.</p> 	



السَّنَدُ 1
التَّعْلِيمَةُ 1 :

7 = 3 + 4 / 8 = 3 + 5 / 9 = 5 + 4 : 2

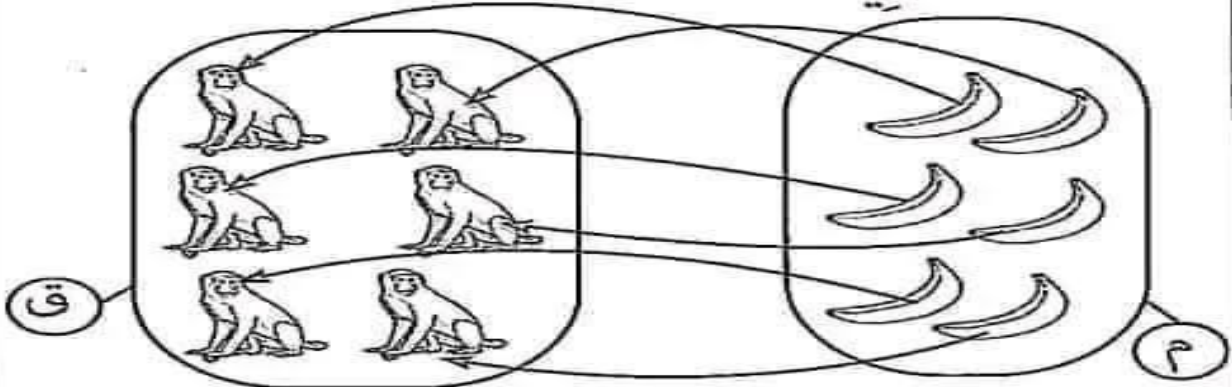
السَّنَدُ 2 :



التَّعْلِيمَةُ 1 : عَدَدُ الْقِرَدَةِ الْمَوْجُودَةِ بِالْقَفْصِ : 6

التَّعْلِيمَةُ 2 : 6 > 4 أَوْ 4 < 6


السَّنَدُ 3 : التَّعْلِيمَةُ 1 :



التَّعْلِيمَةُ 2 : 6 = 6

السَّنَدُ 4 :


التَّعْلِيمَةُ 1 :



التَّعْلِيمَةُ 2 : 6 > 3 > 2



السَّنَدُ 5 :

التَّعْلِيمَةُ 1 :



إِمْتِحَانَاتِ حِجْرِ الدَّجَاحِ

الْمَادَّةُ : رِيَاضِيَاتِ	إِخْتِبَارِ نِهَآيَةِ الثَّلَاثِي الثَّانِي	الْأَسْمُ :
الْمُسْتَوَى : السَّنَةِ الْأَوَّلَى	عَدَدُ : 7	الْلَقَبُ :
		الْقِسْمُ :

النَّقَاطُ الْمُسْتَدَّةُ	الْأَشْطَةُ	الْمَعَايِرُ
0,5 0,5 0,5	<p>السَّنْدُ الْأَوَّلُ :</p> <p>زَارَ خَلِيلٌ حَدِيقَةَ الْحَيَوَانَاتِ بِالْعَاصِمَةِ فَرَأَى أَنْوَاعًا مِنَ الْحَيَوَانَاتِ.</p>  <p>التَّعْلِيمَةُ 1 : أَكُونُ مَجْمُوعَاتٍ جَزِيئَةً وَأَكْتُبُ كَمَّ كُلِّ مِنْهَا .</p> <p>التَّعْلِيمَةُ 2 : أَحْسُبُ عَدَدَ الْبَطَّاتِ وَالسَّلَاحِفِ .</p> <p>.....</p> <p>أَحْسُبُ عَدَدَ السَّلَاحِفِ وَطُيُورِ الْبَطْرِيقِ .</p> <p>.....</p> <p>أَحْسُبُ عَدَدَ طُيُورِ الْبَطْرِيقِ وَالْبَطَّاتِ .</p> <p>.....</p>	<p>مع 1</p> <p><input type="checkbox"/></p> <p>مع 2</p> <p><input type="checkbox"/></p> <p><input type="checkbox"/></p> <p><input type="checkbox"/></p>
1 1 1	<p>السَّنْدُ الثَّانِي :</p> <p>إِنْتَقَلَ خَلِيلٌ فِي أَرْجَاءِ الْحَدِيقَةِ وَوَقَّفَ قُرْبَ قَفْصِ فِيهِ قِرْدَةٌ، ثُمَّ قَفَّصَ كَبِيرٌ بِهِ نُمُورًا.</p> 	<p>مع 1</p> <p><input type="checkbox"/></p>

إِمْتِحَانَاتِ جِسْرِ الدَّجَاحِ



الاسم :	إِخْتِبَارِ نِهَآيَةِ الثَّلَاثِي الثَّانِي عَدَد : 4	السَّمَادَّة : رِيَاضِيَاتِ (حِسَابِ ذِهْنِي)
اللقب :		الْمُسْتَوَى : السَّنَةِ الْأُولَى
القسم :		

النَّقَاطُ الْمُسْتَدَّةُ	الْحَلُّ	الْأَنْشِطَةُ	
1	الْعَدَدُ الَّذِي يَأْتِي قَبْلَ 14	①
1	أَحْسِبْ $8 + 7 =$	②
1	$13 > . > 11$	③
1	تَمْلِكُ سَلَمَى : ② مي ⑤ مي ② مي كَمْ تَمْلِكُ ؟	④

4


إِمْتِحَانَاتِ جِسْرِ الدَّجَاحِ

الاسم : _____	إِخْتِبَارِ نِهَآيَةِ الثَّلَاثِي الثَّانِي	المادة : رياضيات
اللقب : _____		المستوى : السنة الأولى
القسم : _____		عدد : 3

النقاط المستددة	الأشْطَه	المعايير
1 1 1	<p>السند 1 :</p> <p>خَرَجْتُ مَعَ عَائِلَتِي فِي جَوْلَةٍ بَيْنَ الْبَرَارِي وَالْعَابَاتِ. فَرَأَيْتُ رَاعِيًا يَرْعَى حَيَوَانَاتِهِ.</p>  <p>التعليمة 1 :</p> <p>1. أَوْنُ السَّاقِ الْيُمْنَى الْأَمَامِيَّةِ لِلْجَمَلِ رَقْمَ 1.</p> <p>2. أَوْنُ السَّاقِ الْيُسْرَى الْخَلْفِيَّةِ لِلْجَمَلِ رَقْمَ 2.</p> <p>أرْسُمُ طَائِرًا فَوْقَ النَّخْلَةِ.</p>	<p>معا</p> <p>4</p> <p>□ □ □ □</p>
0,5 0,5 0,5	<p>السند 2 :</p> <p>إِخْرَانًا شَجَرَةً ظَلِيلَةً وَجَلَسْنَا قُرْبَهَا نَأْخُذُ نَصِيبًا مِنَ الرِّاحَةِ... فَجَاءَهُ رَأَيْتُ سَلَاحِفَ تَمْشِي.</p> 	<p>معا</p> <p>1</p> <p>□ □ □ □</p>
0,5 0,5 0,5	<p>التعليمة 2 : أَصْنَفُ السَّلَاحِفِ إِلَى ثَلَاثِ مَجْمُوعَاتٍ وَأَرْمِزْ لِكُلِّ مَجْمُوعَةٍ.</p> <p>التعليمة 3 : أَكْتُبْ كَمَّ كُلِّ مَجْمُوعَةٍ.</p>	<p>معا</p> <p>2</p> <p>□ □ □ □</p>

إِمْتِحَانَاتِ جِسْرِ النَّجَاحِ

الاسم :	إِخْتِبَارِ نِهَائِيَةِ الثَّلَاثِي الثَّانِي	المادة : رياضيات
اللقب :		(حَسَابُ ذِهْنِي)
القسم :		المستوى : السَّنة الأولى
	عَدَد : 2	

التَّقَاطُ المُسْتَدَّة	الحل	الأشْطَةُ
1	- فِي رَحْبَةِ الخِرْقَانِ، رَأَى سَامِي مَجْمُوعَةَ الخِرْقَانِ التَّالِيَةِ :  أَكْتُبْ عَدَدَ الخِرْقَانِ ؟
1	9 . 7	- رَأَى سَامِي مَجْمُوعَةَ أُخْرَى بِهَا 7 خِرْقَانٍ وَمَجْمُوعَةَ بِهَا 9 خِرْقَانٍ. - أَقَارِنُ بَيْنَ العَدَدَيْنِ
1	- مَا هُوَ العَدَدُ الَّذِي يَأْتِي مُبَاشَرَةً بَعْدَ 7 ؟
1	مي	- وَضَعَ سَامِي يَدَهُ فِي جَيْبِهِ، فَوَجَدَ قِطْعَتَيْنِ نَقْدِيَّتَيْنِ مِنْ فِئَةِ 5 مِي وَمِنْ فِئَةِ 2 مِي . أَكْتُبْ المَبْلَغَ المَالِي الَّذِي عَثَرَ عَلَيْهِ سَامِي.

4

إِمْتِحَانَاتُ جِسْرِ الدَّجَاحِ

الْمَادَّةُ : رِيَاضِيَّاتٍ (حِسَابُ ذِهْنِيٍّ) الْمُسْتَوَى : السَّنَةِ الْأُولَى	إِخْتِبَارُ نِهَايَةِ الثَّلَاثِي الثَّانِي عَدَدٌ : 3	الاسْمُ : اللقبُ : القِسْمُ :
--	---	-------------------------------------

النَّقَاطُ المُسْتَدَدَةُ	الحَلُّ	الأنشطة	
1	عَدَّتْ أَرِيحُ فِي حَدِيْقَةٍ مَنَزِلَهُمْ 3 وَرَدَاتٍ حَمْرَاءَ وَ 4 وَرَدَاتٍ صَفْرَاءَ. أَحْسَبُ عَدَدَ الْوُرُودِ بِالْحَدِيْقَةِ.	①
1 > 5 >	وَرَأَتْ 5 فَرَاشَاتٍ صَغِيرَةً تُرْفِرُ. أَحْصُرُ الْعَدَدَ 5 بَيْنَ عَدَدَيْنِ مُتتَابِعَيْنِ.	②
1	قَطَّقَتْ مِنَ الْحَدِيْقَةِ 6 أَزْهَارٍ مِنَ الْبِتْفُسْجِ وَ 4 أَزْهَارٍ صَفْرَاءَ وَ 8 قُرْنَفَلَاتٍ. أَرْتَبُ الْأَعْدَادَ الْمَذْكُورَةَ تَصَاعُدِيًّا.	③
1	عَدَّتْ الْبِنْتُ الْأَزْهَارَ حَسَبَ الْإِنْتِظَامِ التَّالِي. 6 - 4 - 2 - 0 أَكْتُبُ الْعَدَدَ الْمُوَالِي.	④

4

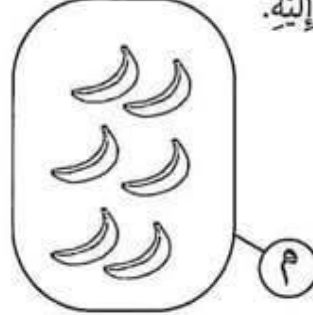
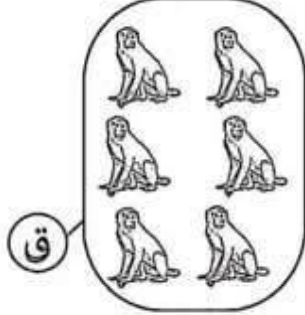
0,5

التَّعْلِيمَةُ 1: أَكْتُبْ عَدَدَ الْقِرَدَةِ الْمَوْجُودَةَ بِالْقَفْصِ.....
التَّعْلِيمَةُ 2: أَقَارِنُ بَيْنَ عَدَدِ الْقِرَدَةِ وَعَدَدِ النُّمُورِ.....
السَّنَدُ الثَّلَاثُ:

معاً 2

رَمَى خَلِيلٌ مَوْزَةً لِقِرْدٍ صَغِيرٍ فَتَلَقَّهَا بِخَفَّةٍ وَقَشَرَهَا بِمَهَارَةٍ... فَجَعَلَتْ بَقِيَّةَ الْحَيَوَانَاتِ تَنْظُرُ إِلَيْهِ.

0,5



معاً 1



0,5

التَّعْلِيمَةُ 1: أَرِطُ كُلَّ عُنْصُرٍ مِنَ الْمَجْمُوعَةِ «م» بِعُنْصُرٍ مِنَ الْمَجْمُوعَةِ «ق».
التَّعْلِيمَةُ 2: أَقَارِنُ بَيْنَ عَدَدِ الْمَوْزَاتِ وَعَدَدِ الْقِرَدَةِ.

معاً 2

السَّنَدُ الرَّابِعُ: وَاصَلَ خَلِيلٌ إِتْبَاعَ الْمَسْلُكِ الْخَاصِّ بِالْحَدِيقَةِ فَرَأَى فَيْلَةً وَزَرَافَاتٍ.

0,5



معاً 1


0,5

التَّعْلِيمَةُ 1: أَكْتُبْ كَمَّ مَجْمُوعَةِ الْفَيْلَةِ.
التَّعْلِيمَةُ 2: أَرْتَبُ أَعْدَادَ الْقِرَدَةِ وَالْفَيْلَةِ وَالزَرَافَاتِ مِنَ الْأَصْغَرِ إِلَى الْأَكْبَرِ.

معاً 2

السَّنَدُ الْخَامِسُ: فِي رُكْنٍ مِنَ الْحَدِيقَةِ مَنْظَرٌ بَدِيعٌ لِمَجْمُوعَةٍ مِنَ الْحَيَوَانَاتِ.

0,5



معاً 4

التَّعْلِيمَةُ 1 : أَلُوْنُ الْأُدْنِ الْيُمْنَى لِلْحِمَارِ الْوَحْشِيِّ.
أَلُوْنُ السَّاقِ الْيُسْرَى لِلطَّائِوُسِ.
أَصْعُ فِي دَائِرَةِ أَقْرَبِ فَرَاشَةٍ لِلشَّجَرَةِ.

السَّنْدُ السَّادِسُ :

قَرَّرَ خَلِيلٌ أَنْ يَزُورَ حَدِيْقَةَ الْحَيَوَانَاتِ مَرَّةً أُخْرَى مَعَ أَخِيهِ، وَصَارَ يَدَّخِرُ الْمَالَ فِي حَصَالَتِهِ.
التَّعْلِيمَةُ 1 : أَمْتَلِ الْمَبْلَغَ الْمَالِيَّ أَوْ أَكْتُبْ قِيْمَتَهُ.

3 مع

1
1
1


	7 مي
2 مي 1 مي 1 مي 2 مي 2 مي مي
	5 مي

السَّنْدُ السَّابِعُ :

رَجَعَ خَلِيلٌ إِلَى الْمَنْزِلِ وَأَعَدَّ مِلْفًا حَوْلَ الْحَيَوَانَاتِ الَّتِي رَأَاهَا فِي الْحَدِيْقَةِ.

5 مع

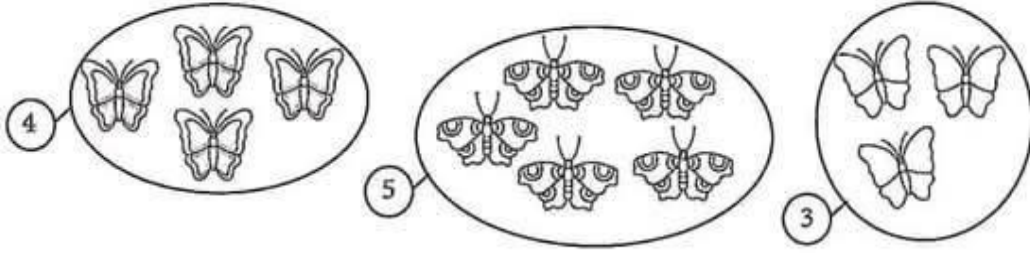
1
1
1
1



التَّعْلِيمَةُ : أَصْنَفِ الْحَيَوَانَاتِ إِلَى مَجْمُوعَتَيْنِ حَسَبِ خَاصِيَةِ تَشْتَرِكُ فِيهَا وَأَرْمِزُ لَهَا.

جَدْوَلُ إِسْتَادِ الْأَعْدَادِ

مِعْيَارُ التَّمْيِيزِ	مَعَايِرُ الْحَدِّ الْأَدْنَى					مُسْتَوَاتُ التَّمْلِكِ
	5 مع	4 مع	3 مع	2 مع	1 مع	
0	0	0	0	0	0	إِنْعِدَامُ التَّمْلِكِ - - -
2	0,5	0,5	0,5	0,5	1 - 0,5	التَّمْلِكُ دُونَ الْأَدْنَى - - +
3	1	2	2	1	2 - 1,5	التَّمْلِكُ الْأَدْنَى - + +
4	1,5	3	3	1,5	3 - 2,5	التَّمْلِكُ الْأَقْصَى + + +



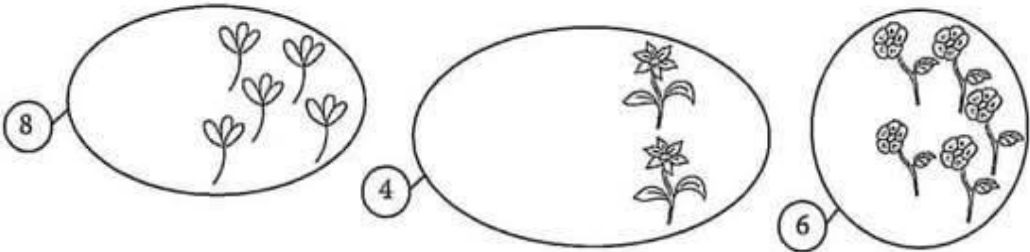
التَّعْلِيمَةُ 3: أُرْتَبِّ الأَعْدَادَ تَنَازُلِيًّا.

0,5

مع 2

السَّنْدُ 3: قَطَّقْتُ البِنْتُ أَزْهَارًا.

0,5



0,5

مع 1

0,5

التَّعْلِيمَةُ 4: أَكْمَلُ رَسْمَ أَزْهَارِ كُلِّ مَجْمُوعَةٍ.

التَّعْلِيمَةُ 5: أُرْتَبِّ الأَعْدَادَ حَسَبَ اخْتِيَارِي.

0,5


مع 2

السَّنْدُ 4:

أَرَادَتْ البِنْتُ تَصْنِيفَ الأَزْهَارِ فِي بَاقَاتٍ. أَسَاعِدْهَا عَلَى ذَلِكَ.


التَّعْلِيمَةُ 6: أَصْنَفُ مَجْمُوعَةَ الأَزْهَارِ بِطَرِيقَتَيْنِ مُخْتَلِفَتَيْنِ.

2



مع 5

2




مع 5


4 < 6 < 8 أو 8 > 6 > 4

التَّعْلِيمَةُ 6 :

1



2



3



التَّعْلِيمَةُ 7 : 4 مي 7 مي 8 مي


إِخْتِبَارٌ فِي الْجِسَابِ الذَّهْنِيِّ عَدَدُ 3 ص 33

6 > 5 > 4 - 2 7 = 4 + 3 - 1

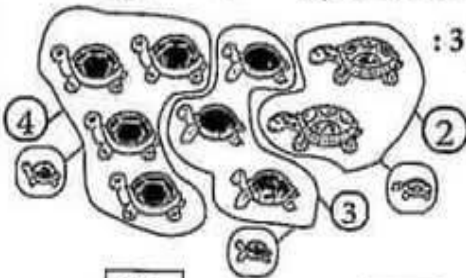
8 - 6 - 4 - 2 - 0 - 4 8 > 6 > 4 - 3

إِخْتِبَارٌ عَدَدُ 3 ص 34 / 35 / 36

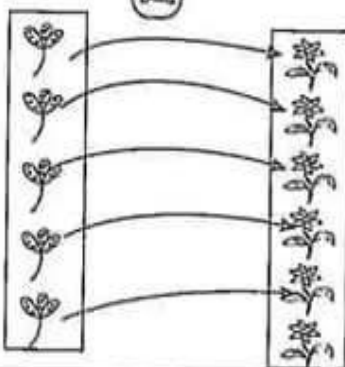
التَّعْلِيمَةُ 1 :



التَّعْلِيمَةُ 2 و 3 :



التَّعْلِيمَةُ 4 :




السَّنَدُ 6 : التَّعْلِيمَةُ 1 :

7 مي 5 مي 2 مي

8 مي 2 مي 2 مي 1 مي 1 مي 2 مي

5 مي 5 مي

السَّنَدُ 7 :



إِخْتِبَارٌ فِي الْجِسَابِ الذَّهْنِيِّ عَدَدُ 2 ص 29

عَدَدُ الْخِرْقَانِ : 4 -

9 > 7 -


العَدَدُ الَّذِي يَأْتِي مُبَاشَرَةً بَعْدَ 7 هُوَ 8 -

المَبْلَغُ المَالِي الَّذِي عَثَرَ عَلَيْهِ سَامِي : 7 مي -

إِخْتِبَارٌ عَدَدُ 2 ص 30 / 31 / 32

السَّنَدُ 1 :

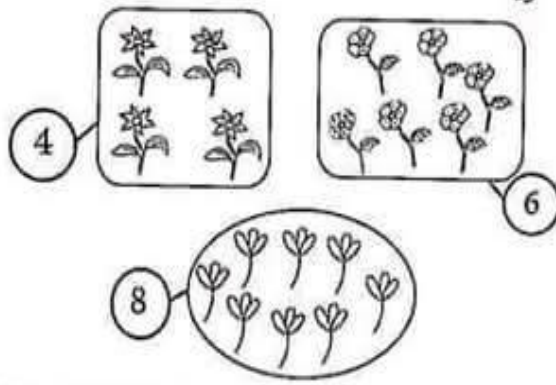
التَّعْلِيمَةُ 1 :




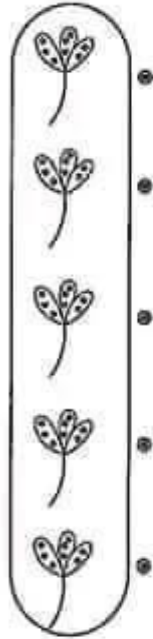
التَّعْلِيمَةُ 2 : 7 > 5 > 3

التَّعْلِيمَةُ 3 : 3 < 4 < 5

التَّعْلِيمَةُ 4 :



السند 3 : انشغل أنا وأختي بقطف الأزهار.
قطفت أزهاراً منقطه وقطفت أختي أزهاراً صفراء.



التعليمة 4 : أربط كل زهرة منقطه بزهرة صفراء.

التعليمة 5 : أكمل ما يلي بـ (على قدر - أكثر - أقل)

0,5

0,5

عدد الأزهار الصفراء من عدد الأزهار المنقطه.
عدد الأزهار المنقطه من عدد الأزهار الصفراء.

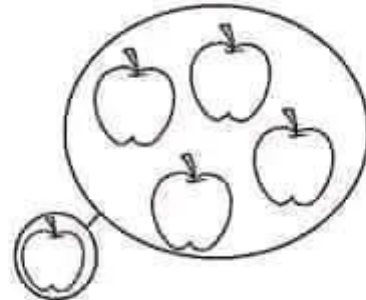
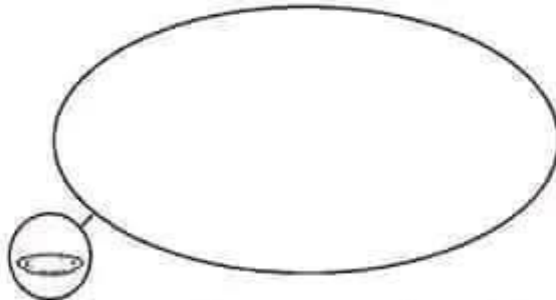
مع 2 ب

السند 4 :

أخرجت أمي من الحقيبة تفاحات لتوزعها علينا.

التعليمة 6 : أرسم مجموعة من الضحون عناصرها على قدر عناصر مجموعة التفاح.

0,5



مع 2 ب

التعليمة 7 : أختار الكم الصحيح الذي يعبر عن اتحاد مجموعة التفاح ومجموعة

0,5

0,5

0,5

الضحون بوضع العلامة (x).

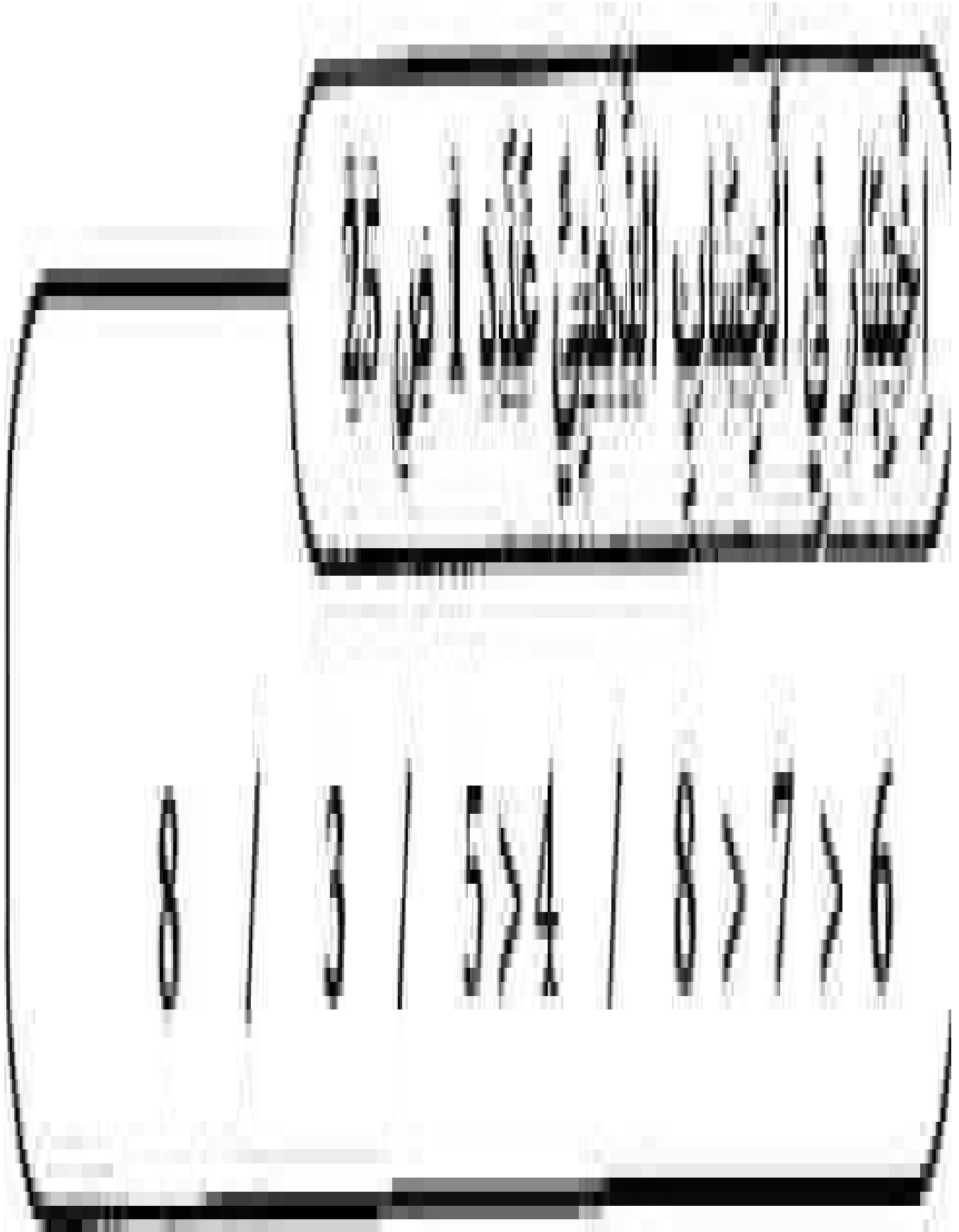
الإجابة : الكم الذي يعبر عن اتحاد مجموعة التفاح ومجموعة الضحون هو :

 8

 7

 5

مع 2 ج



التعليمة 4: اسعييمه

5

التعليمة 5: 5

10 9 7

X □ □

التعليمة 6: 6

9 مي	2مي	5مي	2مي
7 مي	2مي	2مي	1مي
8 مي	1مي	2مي	5مي

التعليمة 7: 7

5 3

التعليمة 8: 8

4

طريق مستقيم

طريق منحن

الإيضاح العلمي

إختبار عدد 1 ص 42 / 43

التعليمة 1:	الزيتونة	الزهرة	النحلة
	2	1	3
التعليمة 2:	البقرة	الحمامة	النحلة
	1	2	3

التعليمة 5: عدد الأزهار الصفراء أكثر من عدد الأزهار المنقطة أقل من عدد الأزهار الصفراء.

التعليمة 6: 6

5

التعليمة 7: كم مجموعة التفاح ومجموعة الصُّون هو: (8) X

التعليمة 8: 8

4 مي	2مي	1مي	1مي
8 مي	2مي	1مي	5مي
6 مي	1مي	5مي	

التعليمة 9: 9

2 3

إختبار في الحساب الذهني عدد 4 ص 37

* العدد الذي يأتي قبل 14 هو 13 * أحسب $15 = 7 + 8$ * $13 > 12 > 11$

تخليك سلمى: (2مي) (5مي) (2مي) = 9 مي

إختبار عدد 4 ص 38 / 39 / 40 / 41

التعليمة 1: ← عدد البطات أكثر من عدد الديكة.

← عدد البطات على قدر عدد الدجاجات.

← عدد الديكة أقل من عدد الدجاجات.

التعليمة 2-3: 3

3 4

مرحبا بكم علي منصة مراجعة



COLLEGE.MOURAJAA.COM



NEWS.MOURAJAA.COM

