

المربية  
إنتصار غريب

ادماج الوحدة الأولى

المدرسة الابتدائية  
ابن خلدون

### السند عدد1:


بِمُنَاسَبَةِ عَظْمَةِ الرَّبِيعِ نَظَّمَتِ مَدْرَسَتُنَا رِحْلَةً إِسْتِكْشَافِيَّةً لِأَهَمِّ الْمَوَاقِعِ الْأَثَرِيَّةِ فِي وَطَنِنَا  
الْعَالِي: زُرْنَا مَسْرَحَ الْجَمِّ فِي مَدِينَةِ الْمَهْدِيَّةِ ثُمَّ تَوَجَّهْنَا إِلَى مَدِينَةِ تُونِسَ وَهُنَاكَ زُرْنَا مَتْحَفَ  
بَارْدُو وَتَجَوَّلْنَا فِي أَرْوَاقِهِ فَهُوَ مَتْحَفٌ غَنِيٌّ بِمَا يَحْوِيهِ مِنْ وَثَائِقٍ تَارِيخِيَّةٍ



4



3



2



1



7



6



5

### التعليمية عدد1:

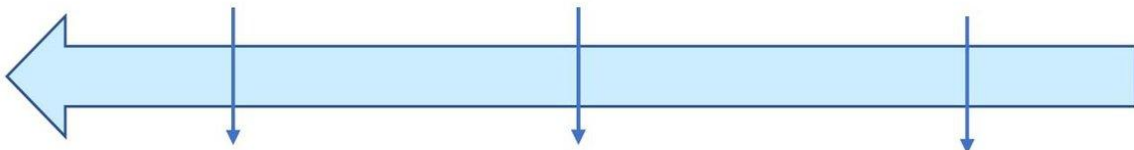
أَصْنَفِ الْوَثَائِقَ التَّارِيخِيَّةَ التَّالِيَةَ فِي الْجَدْوَلِ.

وثائق مكتوبة	وثائق صامته
.....	.....
.....	.....
.....	.....
.....	.....

### السند عدد2:

عُدْتُ إِلَى الْمَنْزِلِ بَعْدَ أَنْ قَضَيْتُ أَوْقَاتًا مُمْتِعَةً وَقَرَّرْتُ أَنْ أَقُومَ بِبَحْثٍ عَلَى مَتْحَفِ بَارْدُو  
أَعْيِنِ الْأَحْدَاثَ التَّارِيخِيَّةَ عَلَى الْخَطِّ الزَّمَنِيِّ:

- تأسس متحف باردو سنة 1882
- عمل مشروع التوسعة والتجديد لمتحف باردو عام 2000م
- عيد الإستقلال 1956



## التعليمة عدد2-1:

1. ماهي المدة الفاصلة بين تأسيس متحف باردو وانجاز مشروع التوسعة؟

.....

.....

2. أعبّر عنها بكتابة قرن أو عقد أو جيل

.....

.....

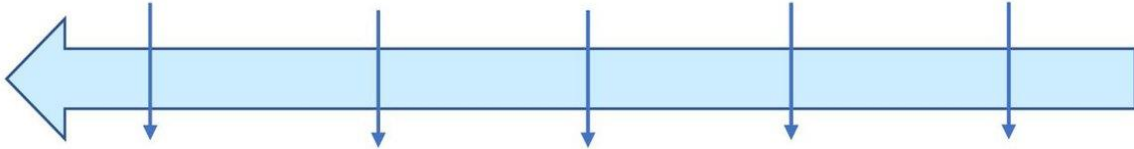
## السند عدد2:

ثُمَّ تَنَاولْتُ كِتَابًا يَتَحَدَّثُ عَنِ الْبِلَادِ التُّونِسِيَّةِ وَبِمَا أَنِّي مُوَلِّعٌ بِالْمُطَالَعَةِ جَلَبَ ائْتِبَاهِي عِدَّةَ تَوَارِيخٍ:

- الدورة 24 لكأس إفريقيا بتونس 2004
- 863 م – بناء جامع الزيتونة.
- 1230 – بناء جامع القصبية.
- 1875 – تأسيس المدرسة الصادقية.
- 1881 – احتلال تونس وانتصاب الحماية الفرنسية.

## التعليمة عدد2-1:

أعيّن الأحداث التاريخية على الخط الزمني:



## السند عدد2:

وَبَيْنَمَا أُبْحَثُ عَنْ مَعْلُومَاتٍ وَوَتَائِقَ تَارِيخِيَّةٍ إِذْ وَجَدْتُ مَضْمُونًا وَلَادَةً جَدَّتِي سَنَةَ 1930 وَكَمْ كَانَتْ فَرَحْتِي لِمَا وَجَدْتُ بَعْضَ وَتَائِقِهَا: عَقْدَ زَوَاجِهَا وَجَبَّتِهَا

## التعليمة عدد2-1:

أستخرج الأحداث التاريخية:

.....

.....

المربية  
إنتصار غريب

ادماج الوحدة الأولى  
في مادة: الجغرافيا

المدرسة الابتدائية  
ابن خلدون

### السند عدد 1:

كَلَّفْنَا الْمُعَلِّمَ بِإِنجَازِ مَطْوِيَّةٍ حَوْلَ مَوْقِعِ أَلْبِلَادِ التُّونِيسِيَّةِ وَالمُحِيطَاتِ وَالقَارَاتِ

### التعليمية عدد 1-1:

أَكْمَلْ بِمَا يُنَاسِبُ: أَلْبَحْرَ الأَبْيَضَ المُتَوَسِّطَ / غَرْبًا / جَنُوبًا / أَلْجَزَائِرَ / أَلْقَارَةَ الأَسْيُويَّةَ / أَلْقَارَةَ

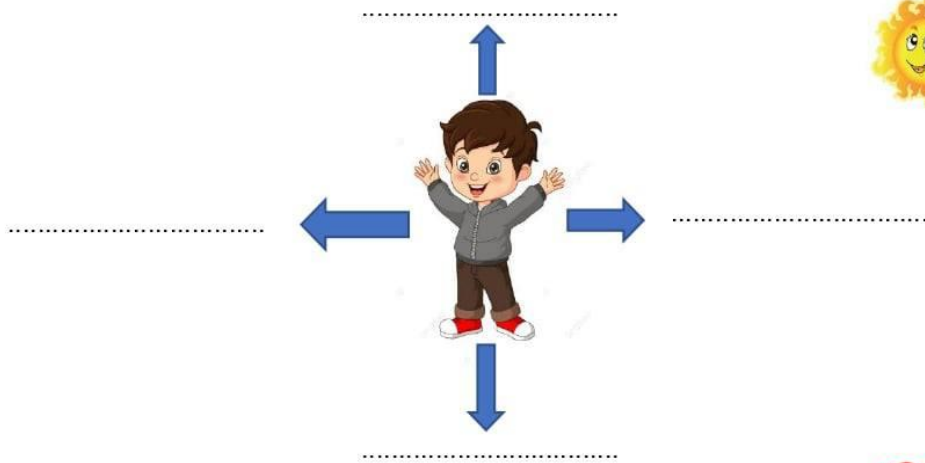
الأفريقية / استراتيجي

تَقَعُ أَلْبِلَادُ التُّونِيسِيَّةِ فِي الشَّمَالِ الشَّرْقِيِّ ..... وَيُعْتَبَرُ مَوْقِعُهَا .....

يَحُدُّهَا شَمَالًا وَشَرْقًا ..... وَغَرْبًا .....، ..... أَلصَّحْرَاءُ

### التعليمية عدد 1-1:

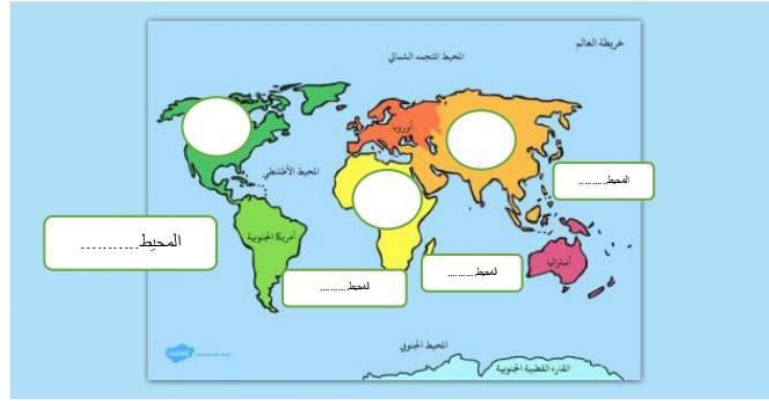
أَوَصِلْ رَسْمَ الأِتِّجَاهَاتِ فِي الرِّسْمِ التَّالِي:



### السند عدد 2:

تَوَجَّهْنَا إِلَى نَادِي الإِعْلَامِيَّةِ وَجَلَسْنَا أَمَامَ أَلْحَوَاسِيْبِ ثُمَّ أَبْحَرْنَا فِي عَالِمِ الأَنْتَرْنَاتِ، وَبَدَأْنَا فِي

اسْتِكْشَافِ مَا يُفِيدُنَا حَوْلَ الأَرْضِ وَمَكُونَاتِهَا



التعليمة عدد 1-2:

اكتب اسم القارة وأكمل اسم المحيط

اسم القارة

اسم المحيط

التعليمة عدد 2-2:

أربط السلسلة الجبلية بموقعها وأعلى قمة فيها:

طوبقال 4165م  
أفيريست 8848 م  
الجبل الأبيض

جبال الألب

جبال الأطلس

الهمالايا

• آسيا

• إفريقيا

• أوروبا

التعليمة عدد 2-3:

أشطب الخطأ

- البوصلة هي آلة لتحديد الاتجاه وقد صنعها الرومان
- من الجزر الأوروپية التي تقع قريبا من البلاد التونسية هي هايتي
- يحتل القسم المائي الجزء الأكبر من الكرة الأرضية
- يمثل القسم اليابس 22 بالمائة من الكرة الأرضية
- من السلاسل الجبلية التي ينتمي إليها "الشعاني" هي الهمالايا